

Linear Programming I

線形計画の解を導く素朴な方法達

線形計画とは (Linear Programming)

えるぴー
省略して「LP」と呼ぶ


- 数理計画の中で基礎的な問題

目的関数：線形

制約式：すべて線形

制約式の
数は有限

数理計画全般に影響する
興味深い性質が得られる



線形計画に対する解法

- **グラフ解法**
 - 2 (~ 3) 変数の問題に図を用いて解を導く .
- **総当たり法**
 - シンプレックス法の基礎
- **シンプレックス法 (Simplex method)**
 - 変数が多くなっても適用できる .
- **内点法 (Interior point method)**
 - 特に大規模な問題を解くときに良い

例題1 生産計画



- 文教工業が2つの製品P, Qを売り出した.
- 2つの製品とも原料A, Bから生産される.
- 利益が最大になる一日の生産量は？

	製品P	製品Q	使用可能量/日
原料A	3	1	45
原料B	1	2	40
利益(千円)	6	5	

例題1(続) グラフを用いた解法

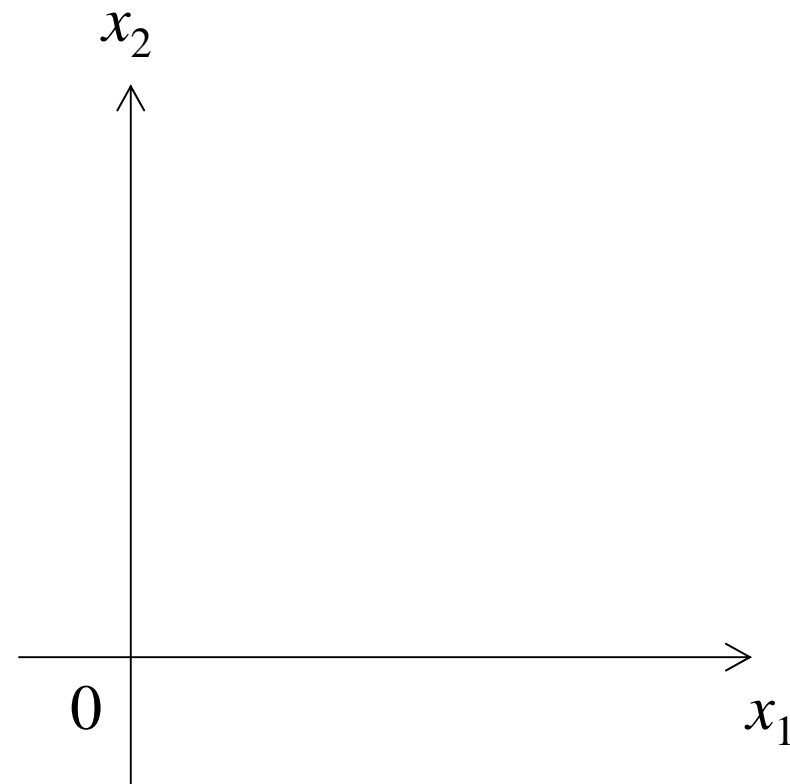
例題1を解いてみよう.

例題1を定式化

x_1 : 製品Pの生産量

x_2 : 製品Qの生産量

$$\begin{array}{ll} \max. & z=6x_1+5x_2 \\ \text{s.t.} & 3x_1+ x_2 \leq 45 \\ & x_1+2x_2 \leq 40 \\ & x_1, x_2 \geq 0 \end{array}$$



作業1: 制約式を x_1 - x_2 平面に図示せよ.

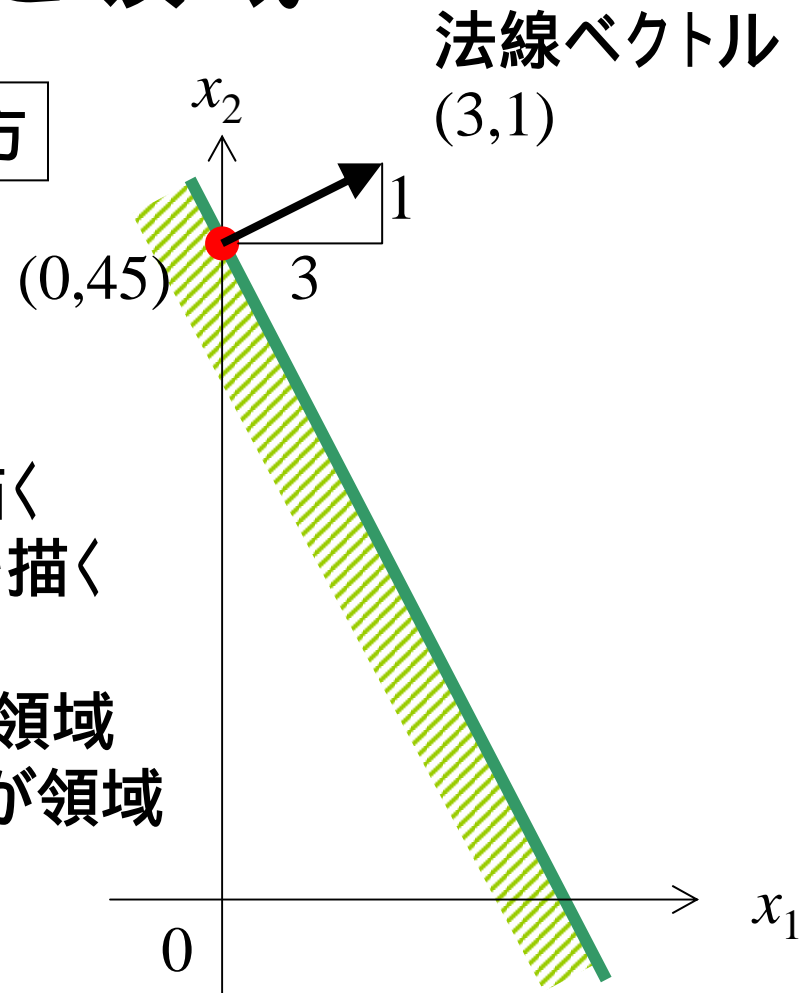
不等式と領域

$3x_1 + x_2 \leq 45$ の示す領域の描き方

$3x_1 + x_2 = 45$ の直線を描く

- 直線が通る一点を見つける
- その点から法線ベクトルを描く
- 法線ベクトルに直交し直線を描く

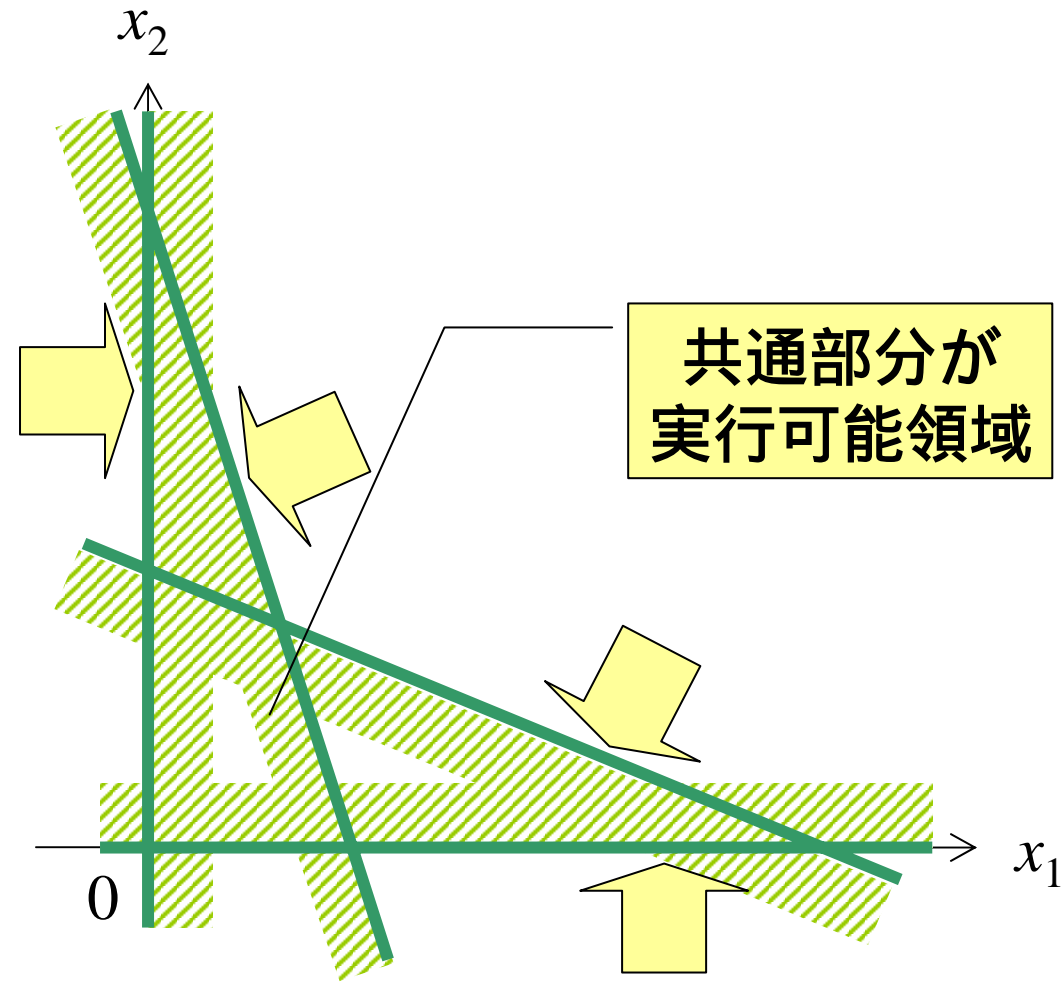
の時: 法線ベクトルの向きが領域
の時: 法線ベクトルと逆向きが領域



実行可能領域の図示

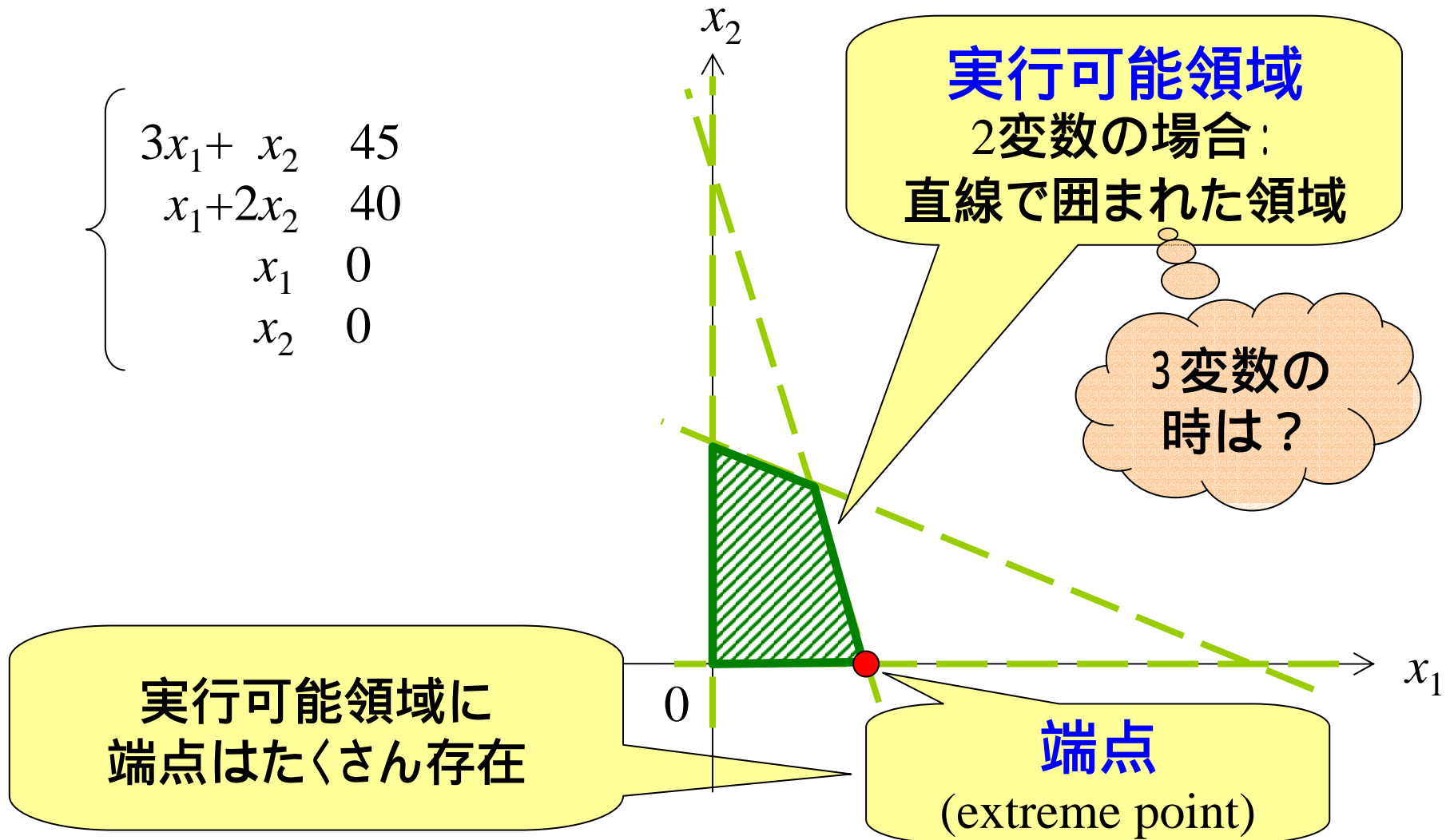
$$\begin{cases} 3x_1 + x_2 < 45 \\ x_1 + 2x_2 < 40 \\ x_1 > 0 \\ x_2 > 0 \end{cases}$$

実行可能領域は
これらの不等式を
全て満たす点の集合



実行可能領域の特徴

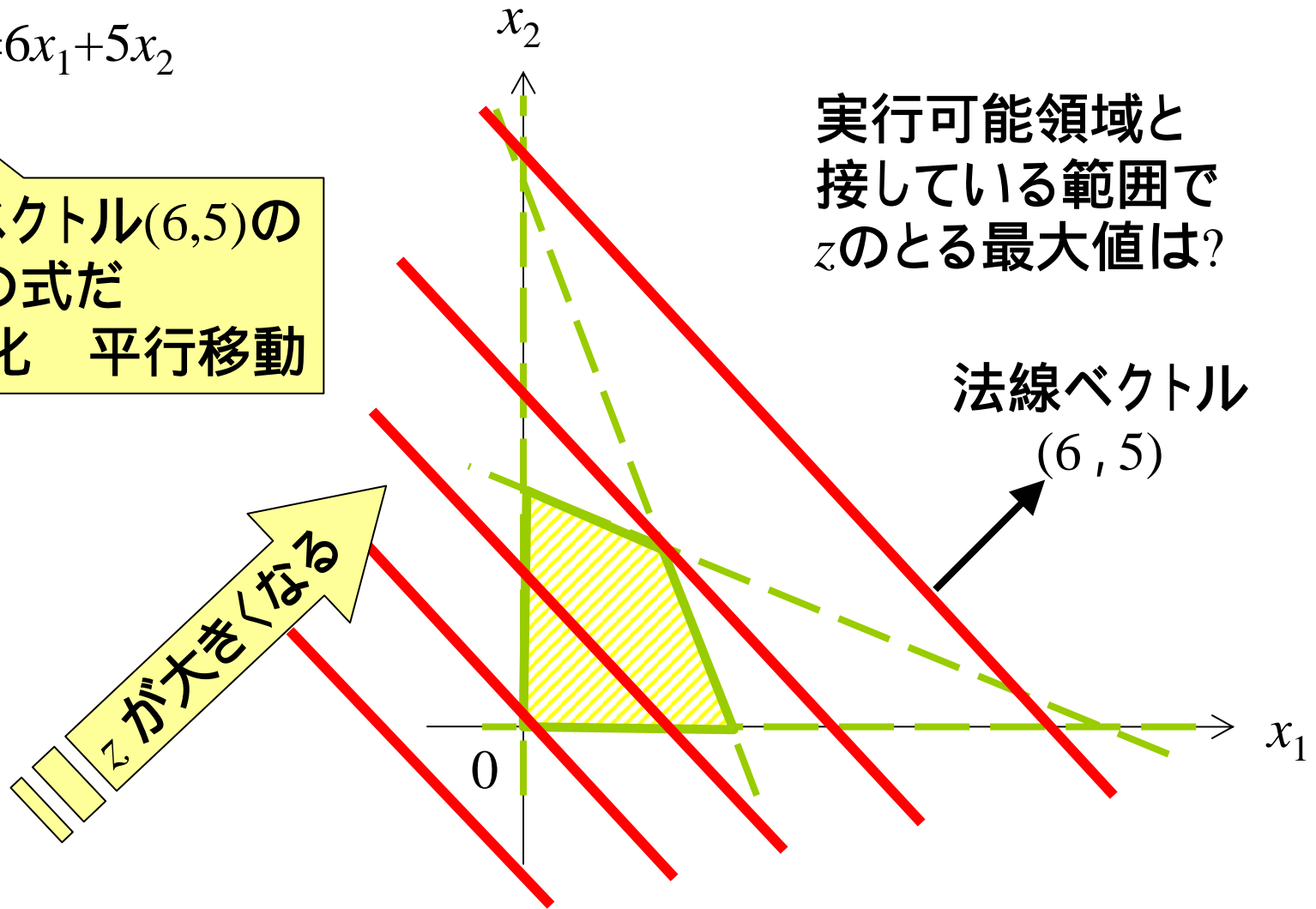
$$\begin{cases} 3x_1 + x_2 & 45 \\ x_1 + 2x_2 & 40 \\ x_1 & 0 \\ x_2 & 0 \end{cases}$$



目的関数を動かす

目的関数 $z=6x_1+5x_2$

- 法線ベクトル(6,5)の直線の式だ
- z が変化 平行移動

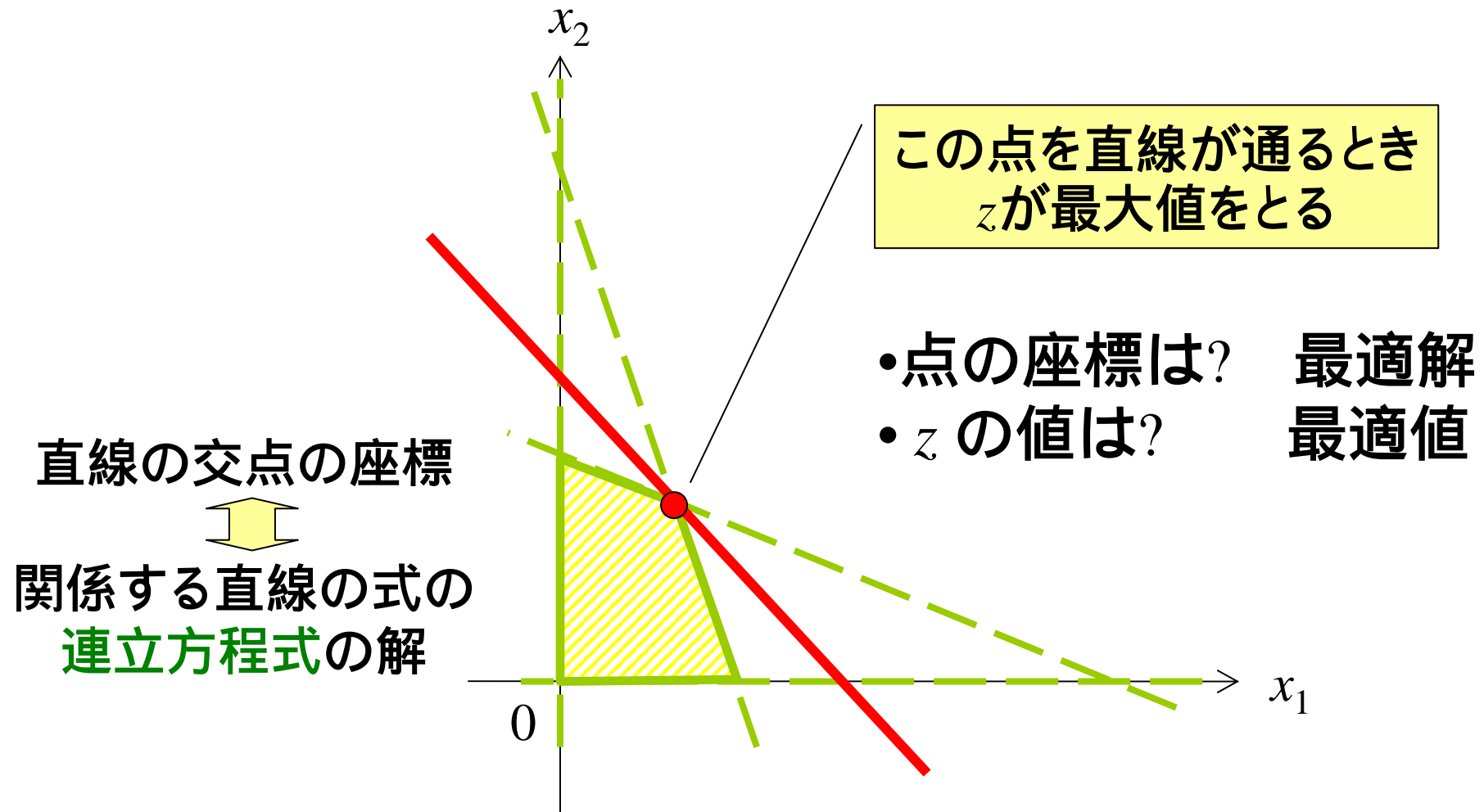


実行可能領域と接している範囲で z のとりる最大値は?

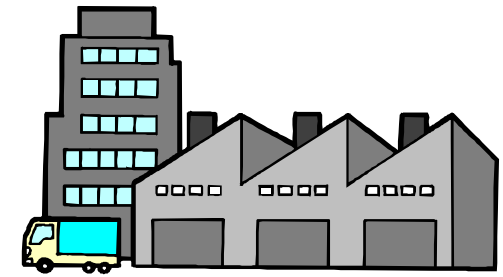
法線ベクトル (6, 5)

z が大くなる

最適値・最適解を見つける



演習1 生産計画(2)



文教工業では, 3種類の原料M1, M2, M3を用いて, 二つの製品A, Bを製造している.

	A	B	利用可能量
M1	15	11	1650
M2	10	14	1400
M3	9	20	1800
利益	5万円	4万円	

(1単位当たり)

利益が最大になる製品AとBの生産量を求めたい.
定式化し, 最適解と最適値を求めてみよう.

復習：連立方程式を解く


実行可能領域の端点を求める

II

連立方程式を解く

計算機向きの
うまい解き方があるんだよな。
高校までは習わないけど...

(復習) ガウスの消去法



図を用いる解法の欠点

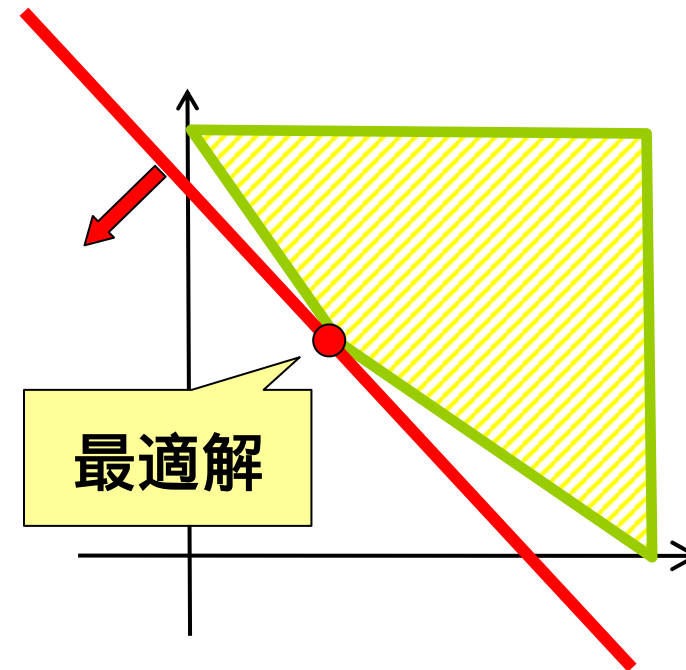
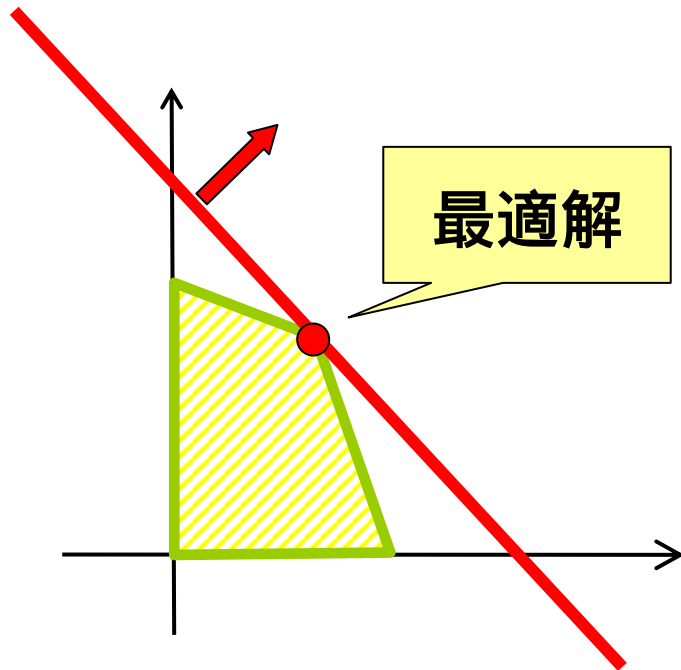
- 2～3変数までの問題にのみ適応可能
 - 現実的に解きたい問題: 数十～数百万変数
- 計算機で実行しにくい

図を用いない解法を考えよう!!



最適解を発見するヒント

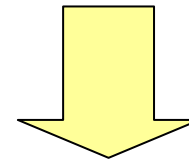
最適解は実行可能領域のどんな場所にある？



最適解の持つ性質

重要な性質:

最適解(の少なくとも一つ)は**実行可能領域の端点**に存在



実行可能解の端点をすべて探索

その中から最適解を見つける

総当たり法



実行可能領域の端点と式の関係


例題1より

$$\begin{cases} 3x_1 + x_2 = 45 \\ x_1 + 2x_2 = 40 \\ x_1 \geq 0 \\ x_2 \geq 0 \end{cases}$$

連立方程式

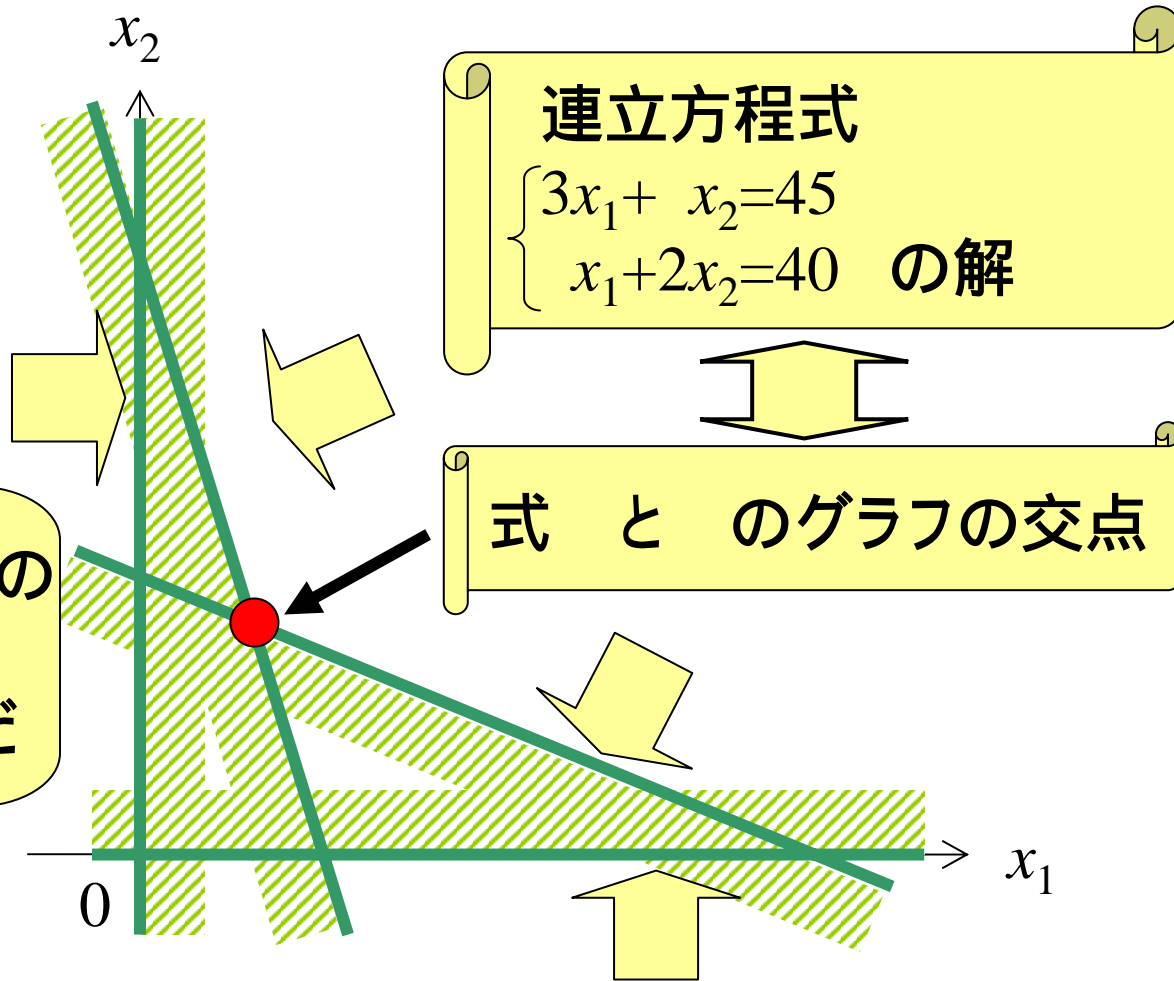
$$\begin{cases} 3x_1 + x_2 = 45 \\ x_1 + 2x_2 = 40 \end{cases} \text{ の解}$$

式 と のグラフの交点



? すべての組合せの
連立方程式を
解けばいいんだ

解いてみよう!!



演習2 例題1のすべての交点を探そう

すべての組合せの連立方程式とその解

式の組合せ	x_1 の値	x_2 の値	実行可能解?	目的関数値
式 と				
式 と				
式 と				
式 と				
式 と				
式 と				


目的関数 : $\max. z = 6x_1 + 5x_2$

実行可能領域の端点？

$$\begin{cases} 3x_1 + x_2 = 45 \\ x_1 + 2x_2 = 40 \\ x_1 = 0 \\ x_2 = 0 \end{cases}$$

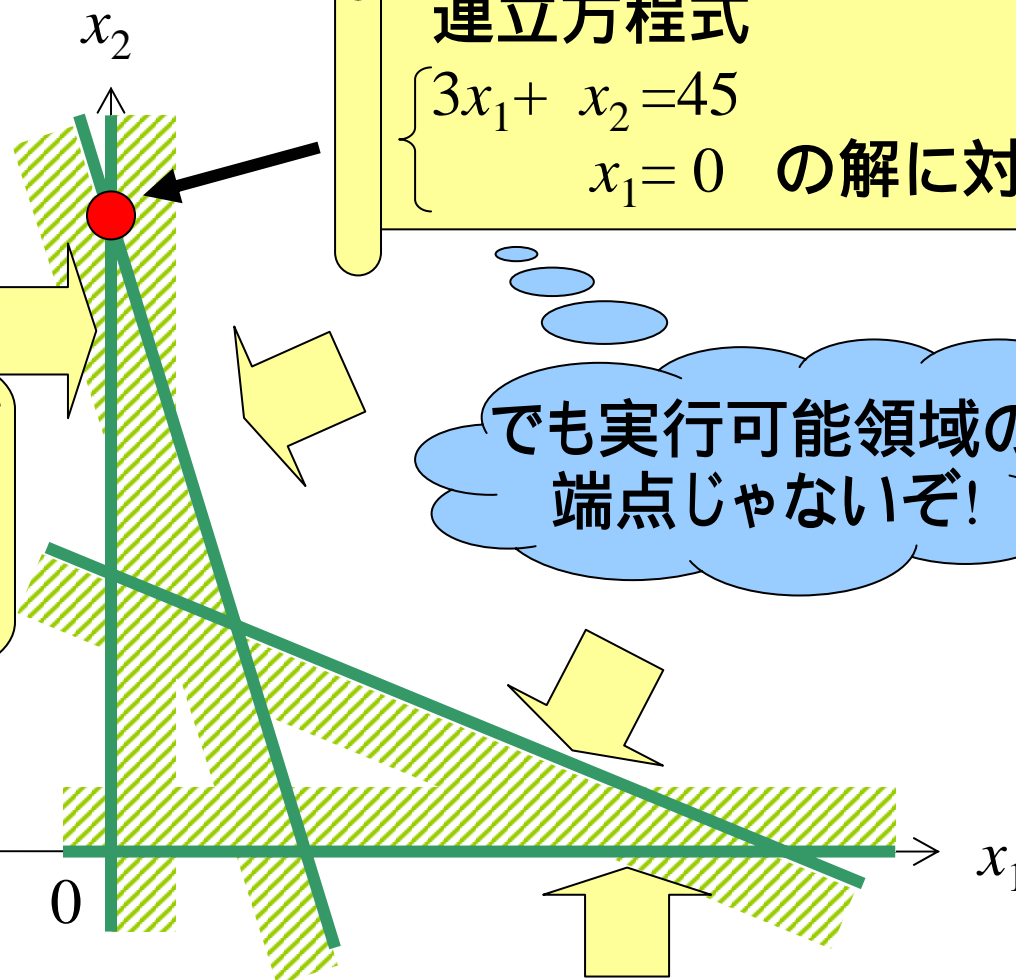
連立方程式

$$\begin{cases} 3x_1 + x_2 = 45 \\ x_1 = 0 \end{cases} \text{ の解に対応}$$



ただ連立方程式を解いても端点かどうかは簡単にわからないんだ

標準形の利用



でも実行可能領域の端点じゃないぞ!

線形計画問題の標準形

$$\begin{aligned} \text{maximize } z &= c_1 x_1 + \cdots + c_n x_n \\ \text{subject to } a_{11} x_1 + \cdots + a_{1n} x_n &= b_1 \\ &\vdots \\ a_{m1} x_1 + \cdots + a_{mn} x_n &= b_m \\ x_1, \cdots, x_n &\geq 0 \end{aligned}$$

標準形 (standard form)

- 目的関数は最大化
- 条件式は(非負条件以外)等式で表現
- 条件式の右辺(b_i)は非負
- すべての変数が非負

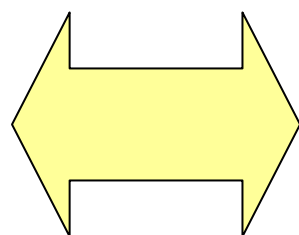
覚えてね!!



標準形の例


標準形で表現
された制約式

$$\begin{array}{rcl} 3x_1 + x_2 + s_1 & = & 45 \\ x_1 + 2x_2 + s_2 & = & 40 \\ x_1, x_2, s_1, s_2 & \geq & 0 \end{array}$$




標準形ではない
表現の制約式

$$\begin{array}{rcl} 3x_1 + x_2 & = & 45 \\ x_1 + 2x_2 & = & 40 \\ x_1, x_2 & \geq & 0 \end{array}$$



表現している内容は同じ!!
異なるのは、見た目だけ



すべてのLPは標準形で表現できる

対処法

目的関数が最小化の時

- 両辺に負を掛け, 最大化問題に変形

条件式に不等式が含まれている時

- の時: スラック変数の導入 等式化
- の時: サープラス変数を導入 等式化

右辺の定数 b が負の数の時

- 両辺に (-1) を掛ける

非負条件の無い変数(自由変数)が含まれる時

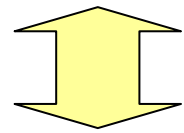
- 正と負の部分に分けて2変数に置き換える

個別に詳しく

目的関数の標準形への変換

最小化問題の時
式を(-1)倍し, 最大化問題に変形する

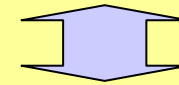
(例) minimize $z=4x_1 - 7x_2$



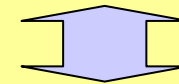
maximize $(-z) = -4x_1 + 7x_2$

参考

$$z = \min\{3, -2\}$$



$$(-z) = \max\{-3, 2\}$$



$$z = -2$$

制約式の等号化

(右辺) b の時



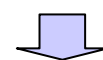
$$\begin{array}{l} \text{(右辺)} + s = b \\ s \geq 0 \end{array}$$

スラック変数
(slack: 緩い)

(例) $4x_1 - 7x_2 = 12$

$$4x_1 - 7x_2 + s = 12$$

(右辺) b の時



$$\begin{array}{l} \text{(右辺)} - t = b \\ t \geq 0 \end{array}$$

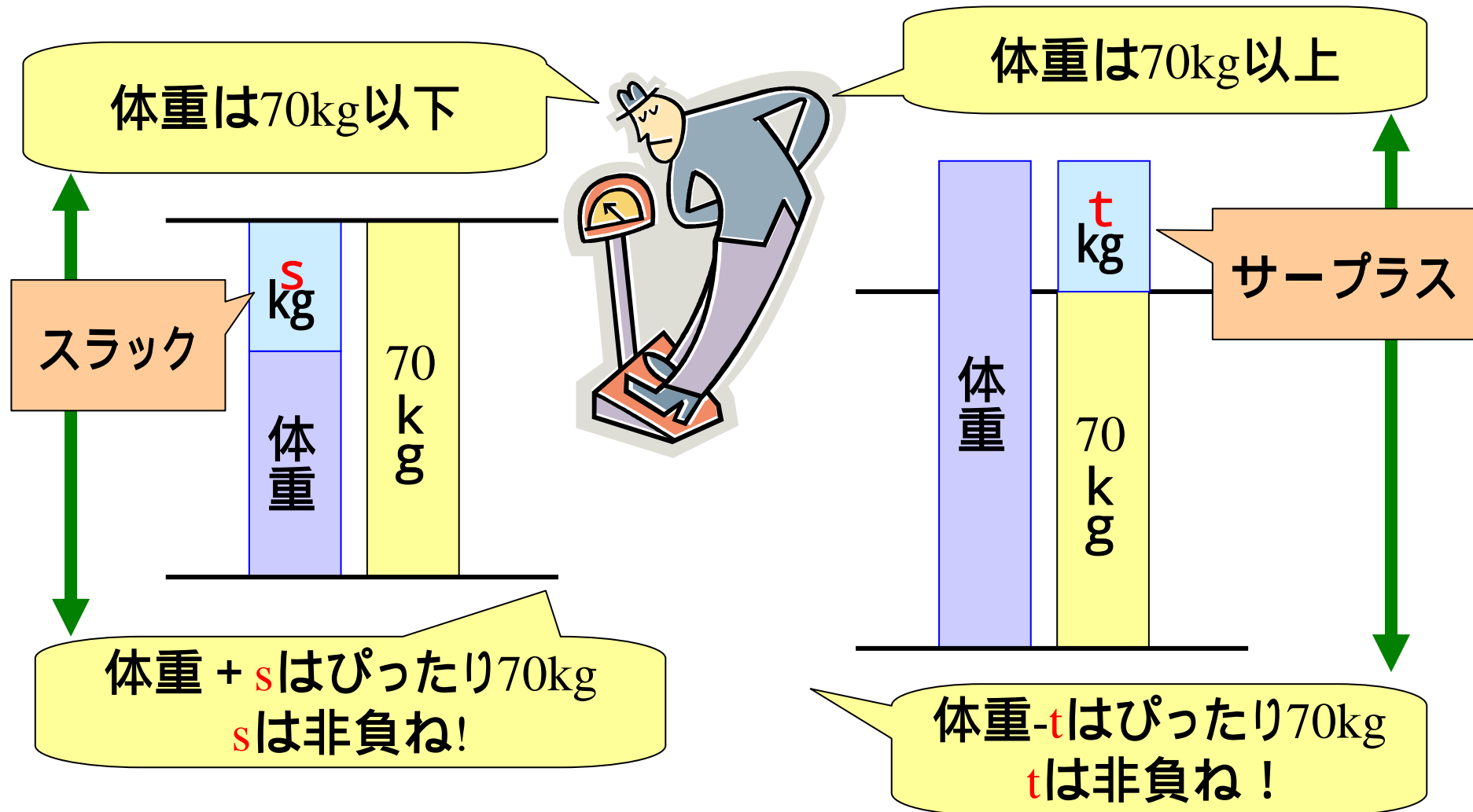
サープラス変数
(surplus: 過剰)

(例) $4x_1 - 7x_2 = 12$

$$4x_1 - 7x_2 - t = 12$$

新たな非負変数を導入


スラック変数・サープラス変数



右辺(定数)bを正の数にする

制約式右辺の定数部分(b)が負の数
のとき
両辺に(-1)を掛ける

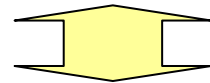
$$\begin{array}{r} \text{(例)} \quad 4x_1 - 7x_2 \quad - 9 \\ \quad \quad \quad \updownarrow \\ \quad \quad \quad - 4x_1 + 7x_2 \quad 9 \end{array}$$



両辺にマイナスの数を掛ける
と不等号は逆転する

自由変数の非負制約化

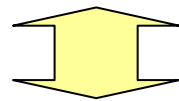
非負制約の無い変数 (自由変数) x
ふたつの非負変数 x^+, x^- の差に置き換える



自由変数 x $x = x^+ - x^-$, $x^+ \geq 0$, $x^- \geq 0$

自由変数

(例) $4x_1 - 7x_2 \leq 6$, $x_1 \geq 0$




$4x_1 - 7(x_2^+ - x_2^-) \leq 6$, $x_1 \geq 0$, $x_2^+ \geq 0$, $x_2^- \geq 0$

標準形への変形例(1)


一般形

$$\begin{aligned} \max \quad & z = 20x_1 + 30x_2 \\ \text{s.t.} \quad & x_1 + 2x_2 \leq 800 \\ & -3x_1 - 4x_2 \geq -1800 \\ & 3x_1 + x_2 \leq 1500 \\ & x_1, x_2 \geq 0 \end{aligned}$$



正準形

$$\begin{aligned} \max \quad & z = 20x_1 + 30x_2 \\ \text{s.t.} \quad & x_1 + 2x_2 \leq 800 \\ & 3x_1 + 4x_2 \leq 1800 \\ & 3x_1 + x_2 \leq 1500 \\ & x_1, x_2 \geq 0 \end{aligned}$$



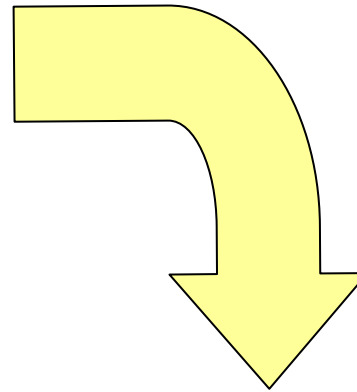
標準形

$$\begin{aligned} \max \quad & z = 20x_1 + 30x_2 \\ \text{s.t.} \quad & x_1 + 2x_2 + s_1 = 800 \\ & 3x_1 + 4x_2 + s_2 = 1800 \\ & 3x_1 + x_2 + s_3 = 1500 \\ & x_1, x_2, s_1, s_2, s_3 \geq 0 \end{aligned}$$

スラック変数の導入

標準形への変形例(2)

$$\begin{aligned} \text{minimize } & z = 3x_1 - 5x_2 \\ \text{subject to } & 9x_1 - 4x_2 \geq -5 \\ & -7x_1 + 5x_2 = 8 \\ & 6x_1 - 2x_2 \geq 1 \\ & x_1 \geq 0 \end{aligned}$$



$$\begin{aligned} \text{maximize } & -z = -3x_1 + 5(x_2^+ - x_2^-) \\ \text{subject to } & -9x_1 + 4(x_2^+ - x_2^-) + s_1 = 5 \\ & -7x_1 + 5(x_2^+ - x_2^-) = 8 \\ & 6x_1 - 2(x_2^+ - x_2^-) - s_3 = 1 \\ & x_1, x_2^+, x_2^-, s_1, s_3 \geq 0 \end{aligned}$$

演習2 標準形に変形せよ

$$\begin{aligned} & \text{minimize} && z = 2x_1 - x_2 \\ & \text{subject to} && x_1 + x_2 \leq 120 \\ & && x_1 \leq 50 \\ & && x_2 \leq 90 \\ & && x_1 + x_2 \geq 60 \\ & && x_2 \geq 0 \end{aligned}$$




標準形の利用

実行可能領域の端点を見つける

その前にもう少し知識をためよう

- 連立方程式の変数の数と式の数と解の関係
- 独立変数
- 基本解
- 基底変数と非基底変数



連立方程式と解の関係

m 変数, n 本の方程式から成る連立方程式

- $m=n$ の時:
 - 解が一意に定まる or 不定 or 不能(解なし)
- $m<n$ の時:
 - 基本的に $m=n$ の時と同じ.
- $m>n$ の時:
 - $m-n$ 個の変数の解は一意に定まらない(**独立変数**).
 $m-n$ 個の独立変数の値を定めると,
残った変数の方程式の解が定まる.

例えば...

以下の連立方程式の解は？

$$\begin{cases} x_1 + 2x_2 + s_1 & = 800 \\ 3x_1 + 4x_2 + s_2 & = 1800 \\ 3x_1 + x_2 + s_3 & = 1500 \end{cases}$$

変数の数: 5個
方程式の数: 3個



(5-3=)2個の独立変数に
値を与えれば解を持つ

例えば, x_1, x_2 を独立変数に選び, 値に0を与えてみよう.

連立方程式の解はどうなるだろうか?

実行可能領域の端点の見つけ方

制約条件式を標準形にする。

連立方程式の解が定まるように独立変数を適当に決めて、それらの値を0にする。

連立方程式の解が得られる。(基本解)

実際に解を求める変数 = 基底変数

値が0に定められた変数 = 非基底変数

基本解が非負なら、実行可能領域の端点



どうして？

例題3

$$\begin{cases} x_1 + 2x_2 + s_1 & = 800 \\ 3x_1 + 4x_2 + s_2 & = 1800 \\ 3x_1 + x_2 + s_3 & = 1500 \end{cases}$$

- (1) すべての独立変数を選ぶパターンを書き出せ。
- (2) (独立変数に0を与えた場合の)基本解を求めよ。

例題3 すべての基本解

x1	x2	s1	s2	s3	端点?	目的関数値
0	0	800	1800	1500		0
0	400	0	200	1100		12000
200	300	0	0	600		13000
366.7	100	133.3	0	0		12333
500	0	300	300	0		10000
0	450	-100	0	1100	×	
0	1500	-2200	-4200	0	×	
440	180	0	-240	0	×	
800	0	0	-600	-900	×	
600	0	200	0	-300	×	

値が0になっている変数が選んだ独立変数.

演習3

$$\begin{array}{ll} \max. & z=5x_A+4x_B \\ \text{s.t.} & 15x_A+11x_B \quad 1650 \\ & 10x_A+14x_B \quad 1400 \\ & 9x_A+20x_B \quad 1800 \\ & x_A, x_B \quad 0 \end{array}$$

独立変数の選び方の
すべてのパターンの
基本解を求め、
最適解を見つけよう。



図を用いない素朴な解法 総当たり法



- 手順1 標準形にする.
- 手順2 すべての基本解を導く.
- 手順3 実行可能領域の端点かどうか調べる.
- 手順4 実行可能領域の端点である基本解の中で目的関数値を最大(最小)にする基本解を見出す 最適解が見つかる

演習4 総当たり法で解いてみよう

(1)

$$\min z = 3x_1 + 4x_2$$

$$\text{s.t. } x_1 + 2x_2 \leq 6$$

$$x_1 + x_2 \leq 4$$

$$x_1, x_2 \geq 0$$

(2)

$$\max z = x_1 + 2x_2 + x_3$$

$$\text{s.t. } x_1 + 4x_2 - 2x_3 \geq 120$$

$$x_1 + x_2 + x_3 = 60$$


$$x_1, x_2, x_3 \geq 0$$

総当たり法の欠点

- 標準形が n 個の変数と m 本の等式条件の時
 - 基本解はどのくらい存在するか?

膨大な数の連立方程式を解く。
(変数の数が多くなったら事実上実行不可能)

- 実行可能領域の端点に関係ない基本解も計算している。(無駄)



より無駄の無い解法 シンプレックス法