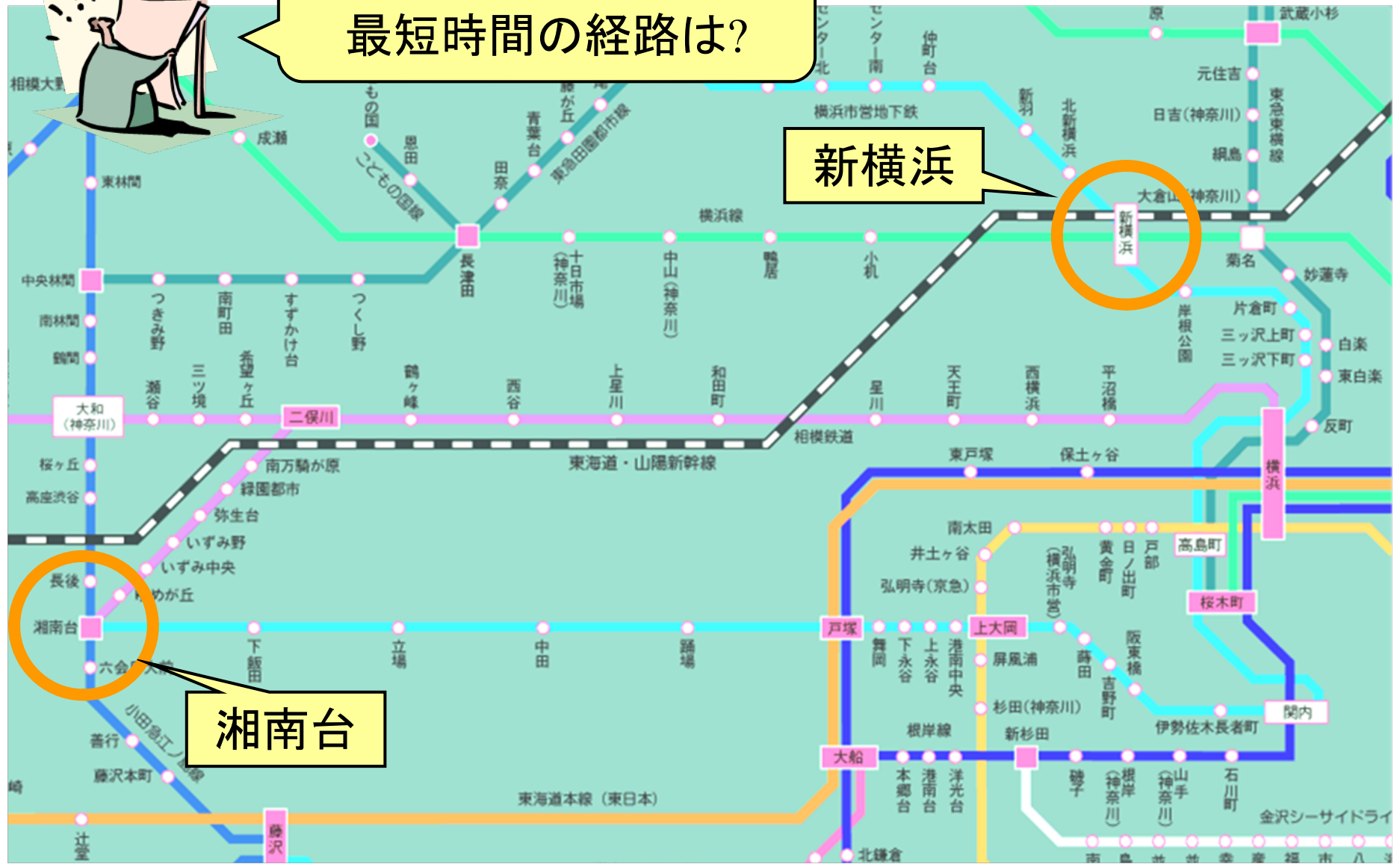


# 双対定理の解法への利用

最短路問題を例として

# 最短路問題

最短距離の経路は?  
最短時間の経路は?



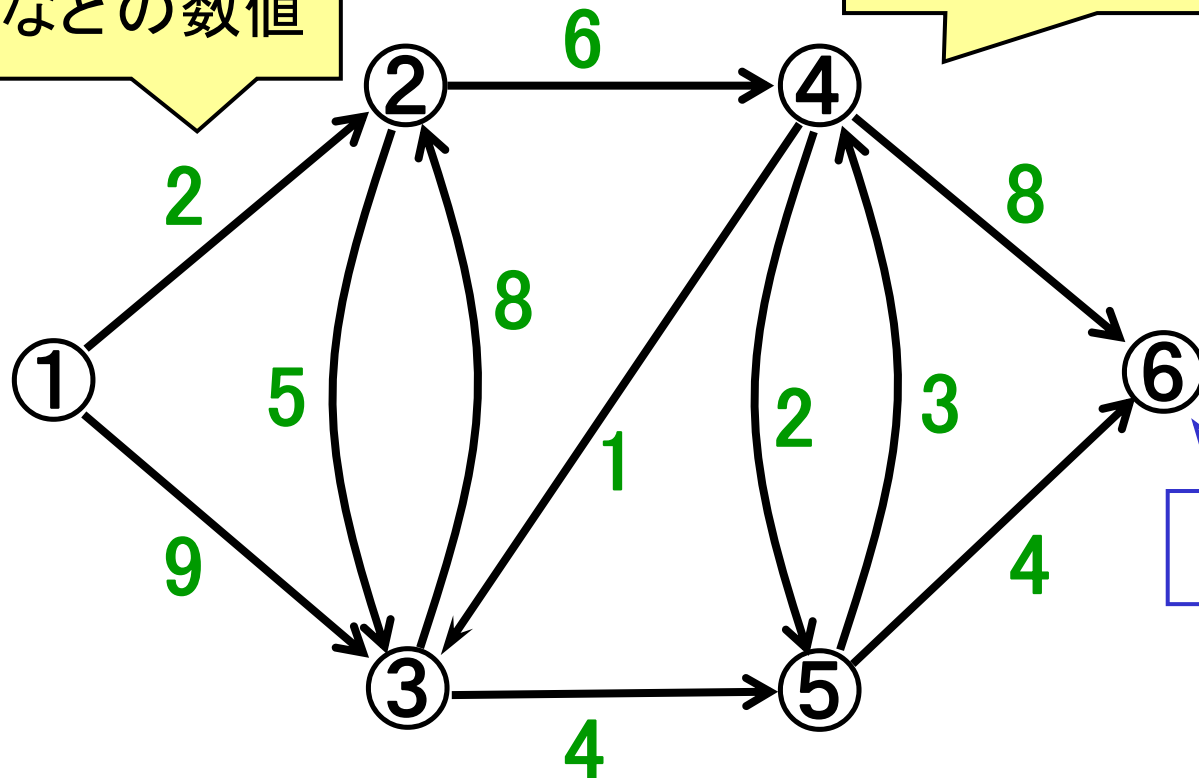
# 最短路問題のネットワーク表現

各枝に距離or  
時間などの数値

問題の舞台を  
(有向)グラフで表現

(例)

スタート



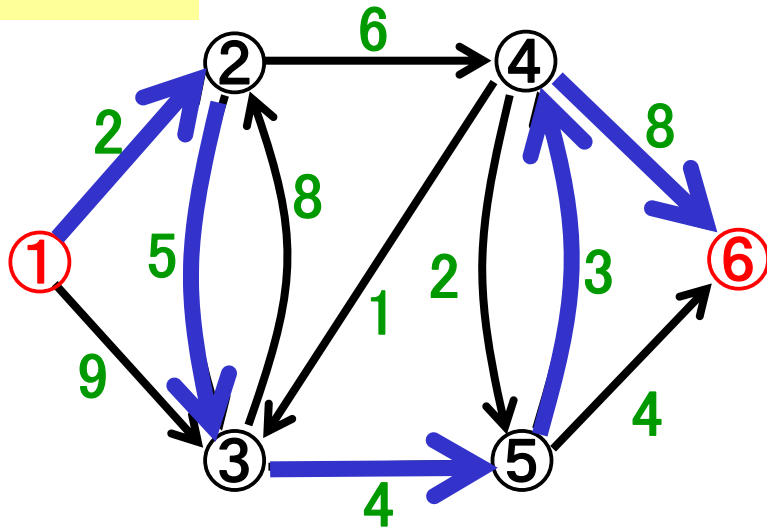
ゴール

スタートとゴールの点を指定

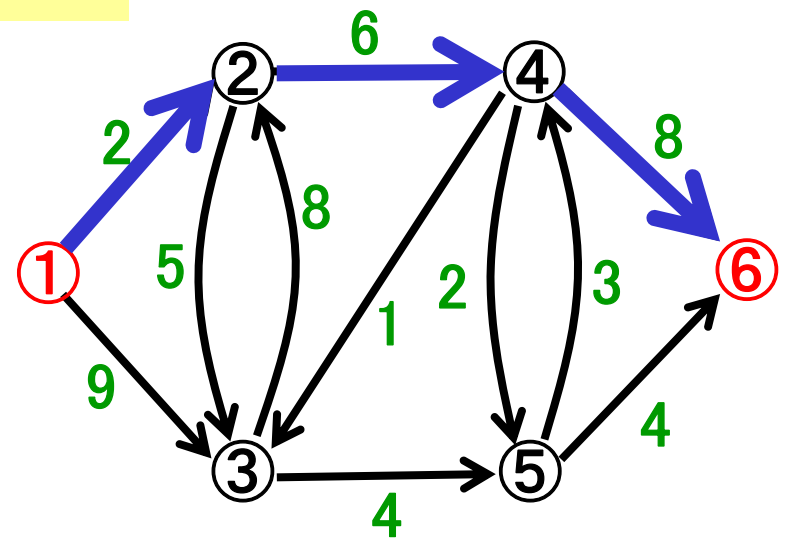
# パス(経路)とその長さ

パス(経路): ある点とある点を結ぶ枝の列(向きに注意!)

パスA



パスB

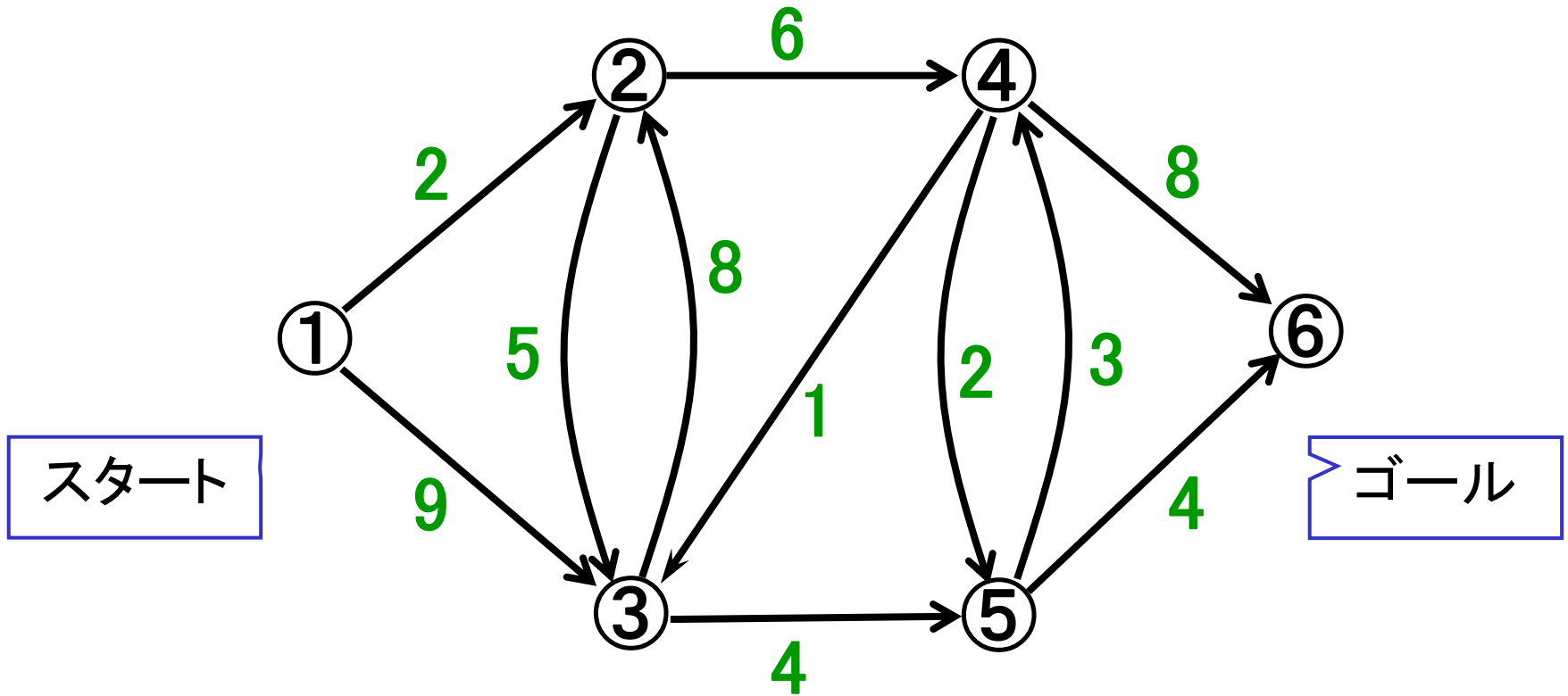


パスの長さ:  $2+5+4+3+8=22$

$2+6+8=16$

- スタートとゴールを結ぶパスは多数
- その中で長さが最短のパス = 最短路
- 最短路を見つける問題: 最短路問題

# 例題1 最短路を求めよ



最短路問題を定式化してみよう

# 例題1(続) 定式化の準備

決めたいこと

どの枝を通るか

変数

$x_{ij} \in \{0,1\}$ : 枝(i,j)を通る $x_{ij}=1$ ; 通らない $x_{ij}=0$

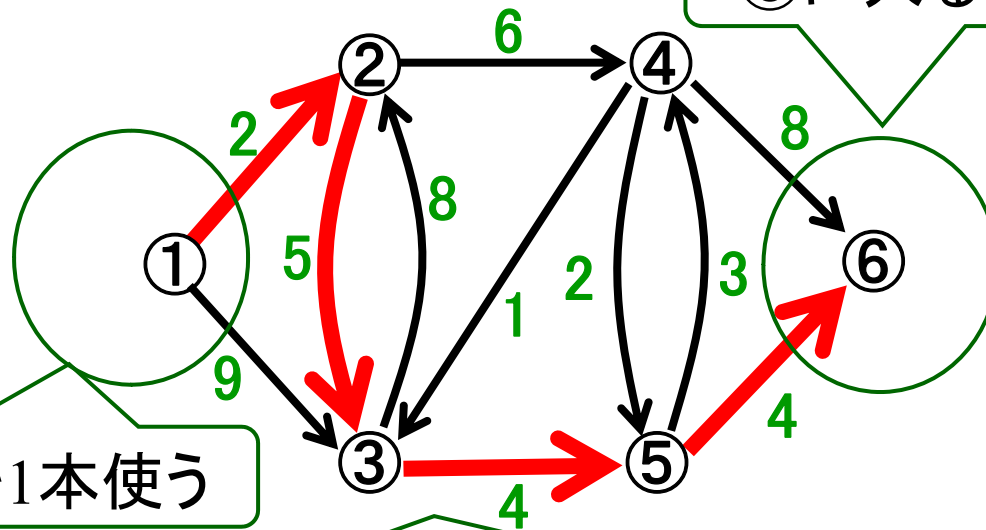
経路の特徴

①→⑥を結ぶ枝の列

制約

⑥に入る枝を1本使う

①から出る枝を1本使う



中間点: 入枝が1本使用⇒出枝を1本使用

# 例題1(続) 最短路問題の定式化

$$\min. 2x_{12} + 9x_{13} + 5x_{23} + 6x_{24} + 8x_{32} + 4x_{35} + x_{43} + 2x_{45} + 8x_{46} + 3x_{54} + 4x_{56}$$

$$\text{s.t. } x_{12} + x_{13} = 1$$

$$x_{12} + x_{32} = x_{23} + x_{24}$$

$$x_{13} + x_{23} + x_{43} = x_{32} + x_{35}$$

$$x_{24} + x_{54} = x_{43} + x_{45} + x_{46}$$

$$x_{35} + x_{45} = x_{54} + x_{56}$$

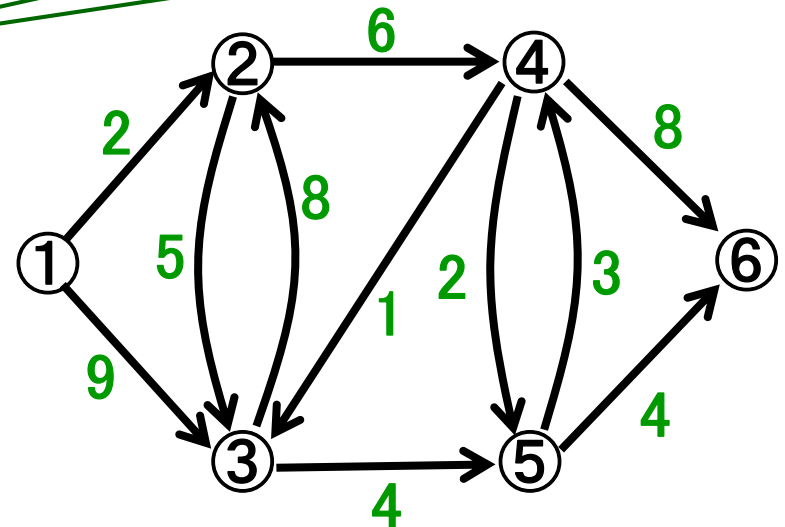
$$x_{46} + x_{56} = 1$$

全枝(i,j)に対して  $x_{ij} \in \{0,1\}$

①から出る枝を1本使う

中間点: 入枝が1本使用  
⇒ 出枝を1本使用

⑥に入る枝を1本使う



# 例題1(続) 数式表現の整理

## 最短路問題(IP)

$$\begin{array}{l}
 \min. \quad 2x_{12} + 9x_{13} + 5x_{23} + 6x_{24} + 8x_{32} + 4x_{35} + x_{43} + 2x_{45} + 8x_{46} + 3x_{54} + 4x_{56} \\
 \text{s.t.} \quad -x_{12} - x_{13} \hspace{20em} = -1 \\
 \quad \quad +x_{12} \quad \quad -x_{23} - x_{24} + x_{32} \hspace{10em} = 0 \\
 \quad \quad \quad \quad +x_{13} + x_{23} \quad \quad -x_{32} - x_{35} + x_{43} \hspace{7em} = 0 \\
 \quad \quad \quad \quad \quad \quad +x_{24} \quad \quad \quad -x_{43} - x_{45} - x_{46} + x_{54} \hspace{4em} = 0 \\
 \quad \quad \quad \quad \quad \quad \quad \quad +x_{35} \quad \quad \quad +x_{45} \quad \quad -x_{54} - x_{56} = 0 \\
 \quad \quad \quad \quad \quad \quad \quad \quad \quad \quad +x_{46} \quad \quad +x_{56} = 1
 \end{array}$$

全枝(i,j)に対して  ~~$x_{ij} \in \{0, 1\}$~~   $x_{ij} \geq 0$



LP緩和

線形計画問題(P)

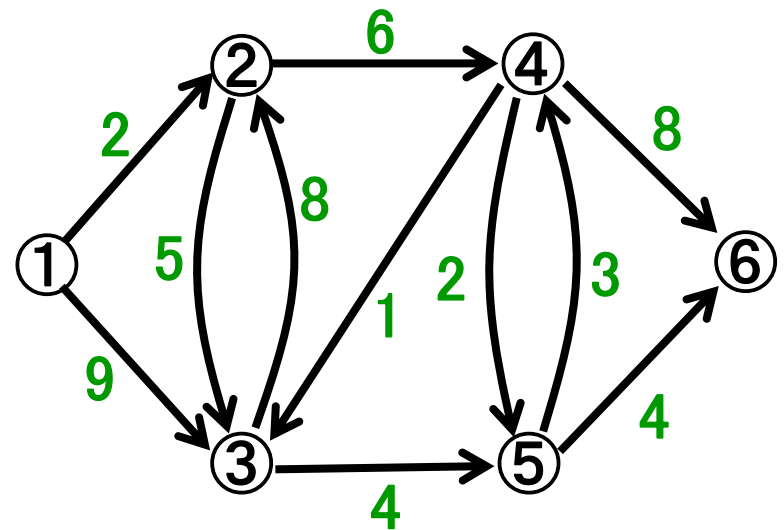
演習: (P)の双対問題を作ってみよう  
相補性条件を導いてみよう



# 寄り道 ネットワークのデータ表現

$$\begin{array}{c} \textcircled{1} \\ \textcircled{2} \\ \textcircled{3} \\ \textcircled{4} \\ \textcircled{5} \\ \textcircled{6} \end{array} \begin{pmatrix} a_{12} & a_{13} & a_{23} & a_{24} & a_{32} & a_{35} & a_{43} & a_{45} & a_{46} & a_{54} & a_{56} \\ 1 & 1 & 0 & 0 & 0 & 0 & 0 & 0 & 0 & 0 & 0 \\ -1 & 0 & 1 & 1 & -1 & 0 & 0 & 0 & 0 & 0 & 0 \\ 0 & -1 & -1 & 0 & 1 & 1 & -1 & 0 & 0 & 0 & 0 \\ 0 & 0 & 0 & -1 & 0 & 0 & 1 & 1 & 1 & -1 & 0 \\ 0 & 0 & 0 & 0 & 0 & -1 & 0 & -1 & 0 & 1 & 1 \\ 0 & 0 & 0 & 0 & 0 & 0 & 0 & 0 & -1 & 0 & -1 \end{pmatrix}$$

接続行列  
(incidence matrix)



# 双対問題(D)

双対変数:

$p_1, p_2, p_3, p_4, p_5, p_6$



どうやって  
解く?

$$\begin{aligned} \max. \quad & -p_1 + p_6 \\ \text{s.t.} \quad & p_2 - p_1 \leq 2 \\ & p_3 - p_1 \leq 9 \\ & p_3 - p_2 \leq 5 \\ & p_4 - p_2 \leq 6 \\ & p_2 - p_3 \leq 8 \\ & p_5 - p_3 \leq 4 \\ & p_3 - p_4 \leq 1 \\ & p_5 - p_4 \leq 2 \\ & p_6 - p_4 \leq 8 \\ & p_4 - p_5 \leq 3 \\ & p_6 - p_5 \leq 4 \end{aligned}$$

→  
仮定  
 $p_1=0$

$$\begin{aligned} \max. \quad & p_6 \\ \text{s.t.} \quad & p_2 \leq p_1 + 2 \\ & p_3 \leq p_1 + 9 \\ & p_3 \leq p_2 + 5 \\ & p_4 \leq p_2 + 6 \\ & p_2 \leq p_3 + 8 \\ & p_5 \leq p_3 + 4 \\ & p_3 \leq p_4 + 1 \\ & p_5 \leq p_4 + 2 \\ & p_6 \leq p_4 + 8 \\ & p_4 \leq p_5 + 3 \\ & p_6 \leq p_5 + 4 \\ & p_1 = 0 \end{aligned}$$

$$\max. p_6$$

$$\text{s.t. } p_2 \leq p_1 + 2$$

$$p_3 \leq p_1 + 9$$

$$p_3 \leq p_2 + 5$$

$$p_4 \leq p_2 + 6$$

$$p_2 \leq p_3 + 8$$

$$p_5 \leq p_3 + 4$$

$$p_3 \leq p_4 + 1$$

$$p_5 \leq p_4 + 2$$

$$p_6 \leq p_4 + 8$$


$$p_4 \leq p_5 + 3$$

$$p_6 \leq p_5 + 4$$

$$p_1 = 0$$

# (D)の解き方: アイディア

ベルマン方程式(Bellman's equation)



$$p_1 = 0$$


$$p_2 = \min\{p_1 + 2, p_3 + 8\}$$

$$p_3 = \min\{p_1 + 9, p_2 + 5, p_4 + 1\}$$

$$p_4 = \min\{p_2 + 6, p_5 + 3\}$$

$$p_5 = \min\{p_3 + 4, p_4 + 2\}$$

$$p_6 = \min\{p_4 + 8, p_5 + 4\}$$



この方程式って解けるの?

# ベルマン方程式の解き方

無変化で終了

$$p_1 = 0$$

$$p_2 = \min\{p_1 + 2, p_3 + 8\}$$

$$p_3 = \min\{p_1 + 9, p_2 + 5, p_4 + 1\}$$

$$p_4 = \min\{p_2 + 6, p_5 + 3\}$$

$$p_5 = \min\{p_3 + 4, p_4 + 2\}$$

$$p_6 = \min\{p_4 + 8, p_5 + 4\}$$

動的計画法の利用

ベルマン-フォード法

計算量:  $O(mn)$

n: 点数

m: 枝数

	初期解	改定1	改定2	改定3	改定4	改定5	改定6
$p_1$	0	0	0	0	0	0	0
$p_2$	$\infty$	2	2	2	2	2	2
$p_3$	$\infty$	9	7	7	7	7	7
$p_4$	$\infty$	$\infty$	8	8	8	8	8
$p_5$	$\infty$	$\infty$	13	11	10	10	10
$p_6$	$\infty$	$\infty$	$\infty$	16	15	14	14

(D)の最適解

# (D)の解 $\Rightarrow$ (P)の解

相補性条件

$$(2 - p_2 + p_1)x_{12} = 0$$

$$(9 - p_3 + p_1)x_{13} = 0$$

$$(5 - p_3 + p_2)x_{23} = 0$$

$$(6 - p_4 + p_2)x_{24} = 0$$

$$(8 - p_2 + p_3)x_{32} = 0$$

$$(4 - p_5 + p_3)x_{35} = 0$$

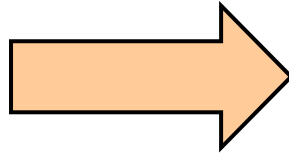
$$(1 - p_3 + p_4)x_{43} = 0$$

$$(2 - p_5 + p_4)x_{45} = 0$$

$$(8 - p_6 + p_4)x_{46} = 0$$

$$(3 - p_4 + p_5)x_{54} = 0$$

$$(4 - p_6 + p_5)x_{56} = 0$$



	解
$p_1$	0
$p_2$	2
$p_3$	7
$p_4$	8
$p_5$	10
$p_6$	14

$$(0)x_{12} = 0$$

$$(2)x_{13} = 0$$

$$(0)x_{23} = 0$$

$$(0)x_{24} = 0$$

$$(13)x_{32} = 0$$

$$(1)x_{35} = 0$$

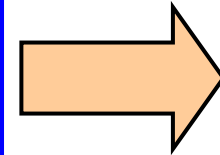
$$(2)x_{43} = 0$$

$$(0)x_{45} = 0$$

$$(2)x_{46} = 0$$

$$(5)x_{54} = 0$$

$$(0)x_{56} = 0$$



$$x_{12} = 1$$

$$x_{23} = 1$$

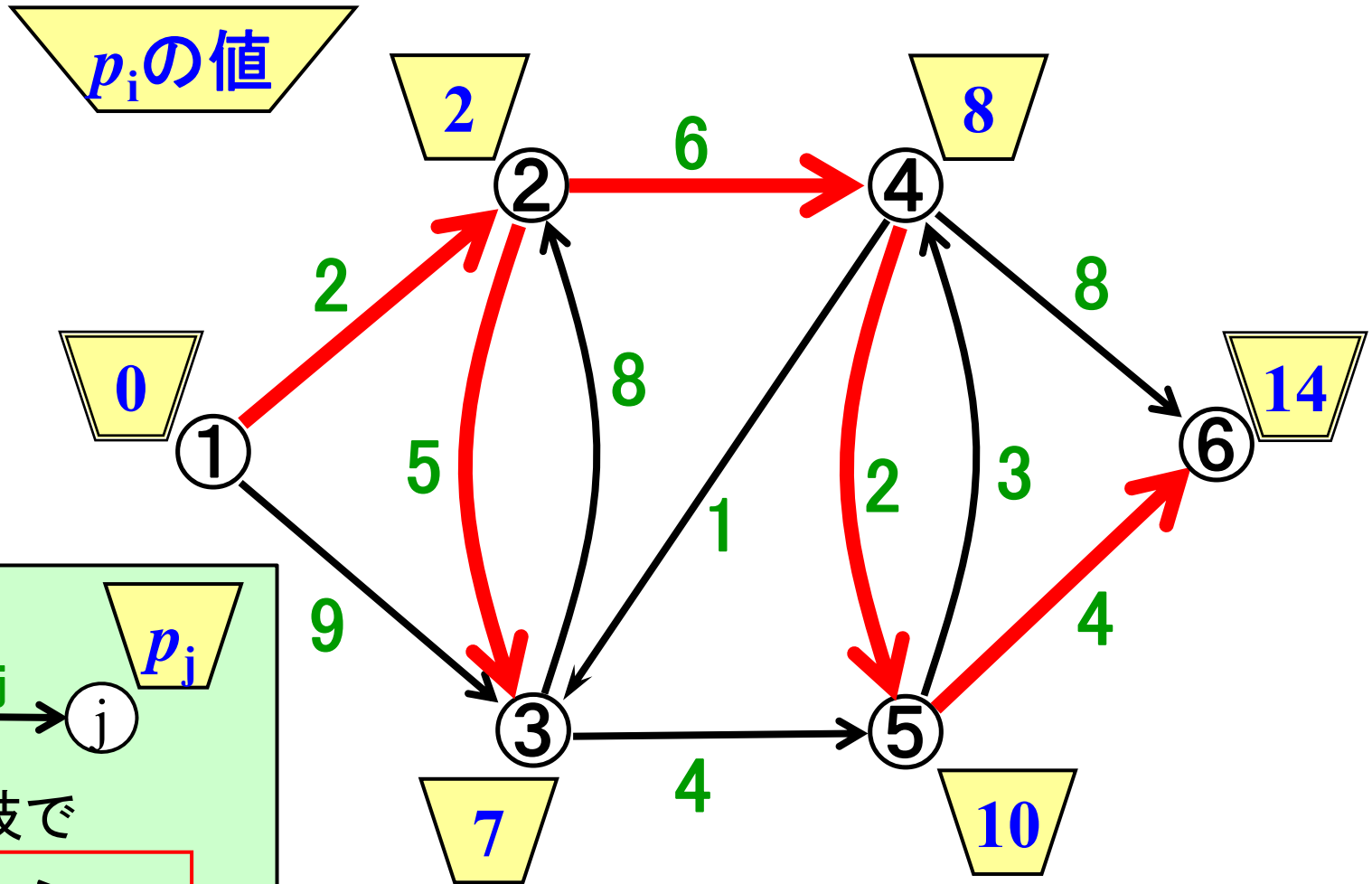
$$x_{24} = 1$$

$$x_{45} = 1$$

$$x_{56} = 1$$

# 例題1(続) (P)の最適解

$$\begin{aligned}
 x_{12} &= 1 \\
 x_{23} &= 1 \\
 x_{24} &= 1 \\
 x_{45} &= 1 \\
 x_{56} &= 1
 \end{aligned}$$



すべての枝で

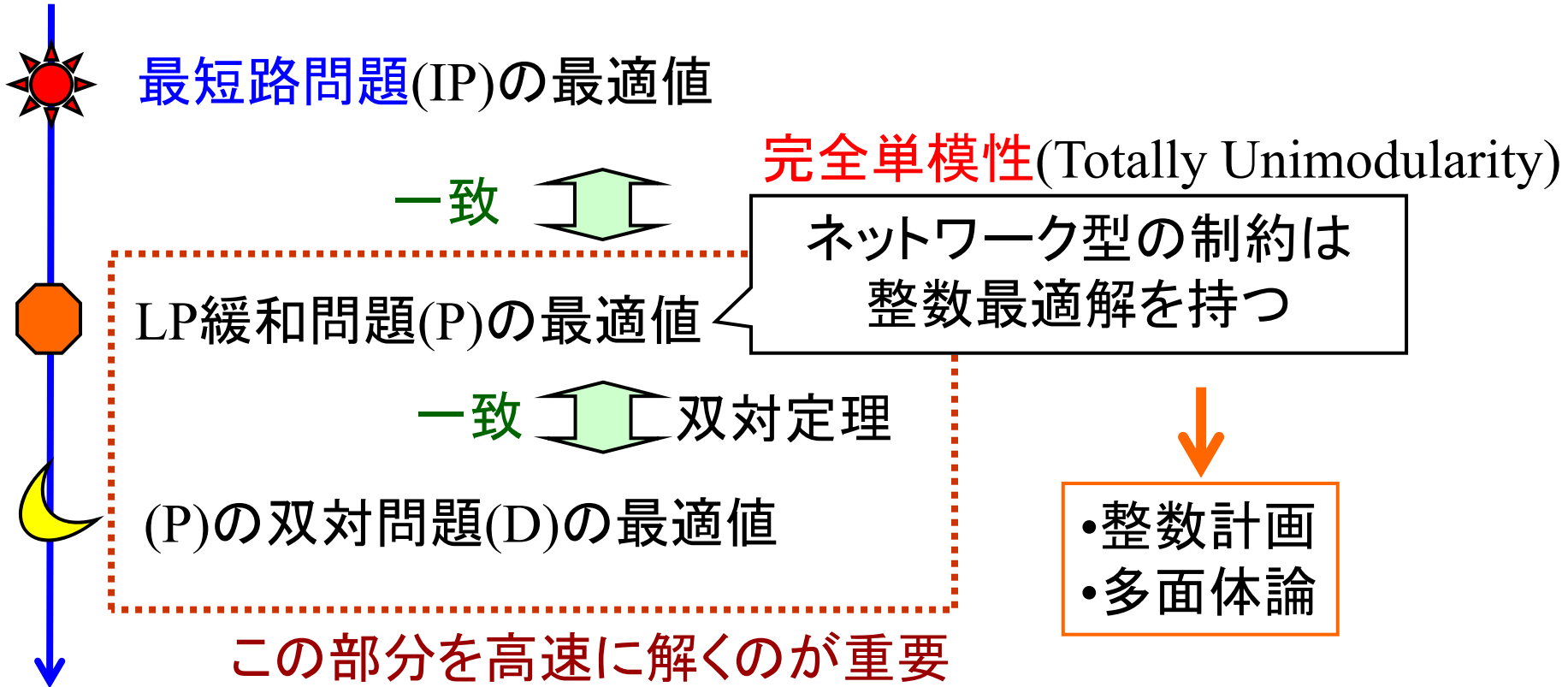
$$p_i + a_{ij} \geq p_j$$

が成立

確認してみよう

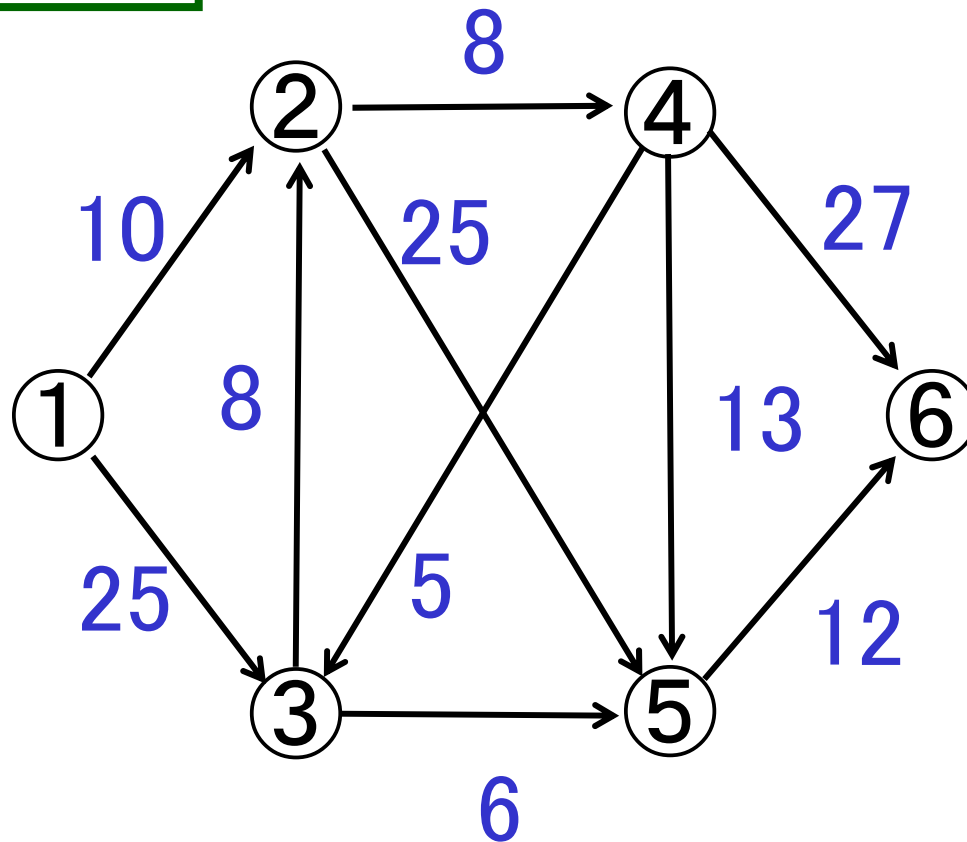
最短路木

# (IP)と(P)とその双対問題(D)



# 練習1 ベルマン-フォード法

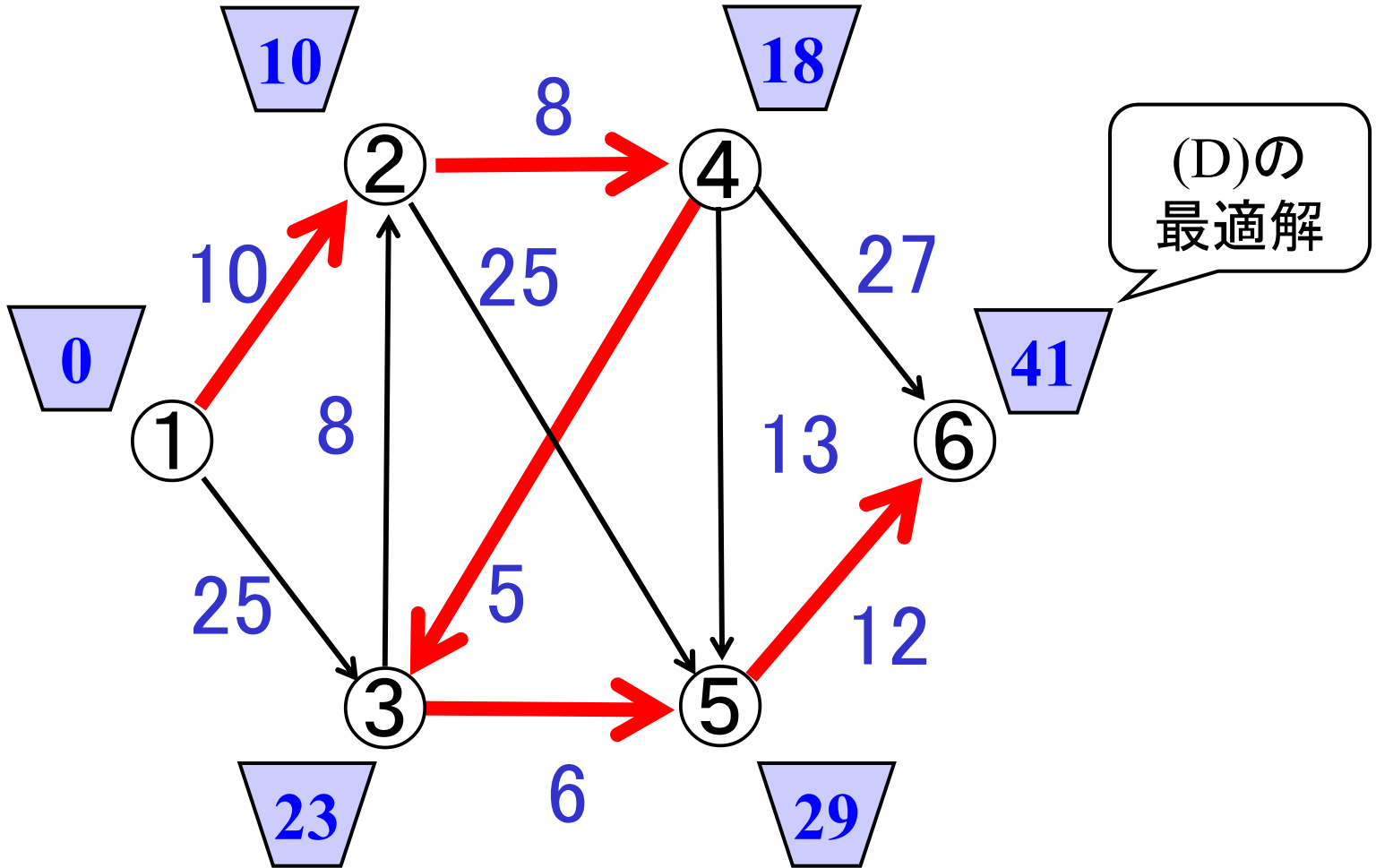
①⇒⑥の最短路は?





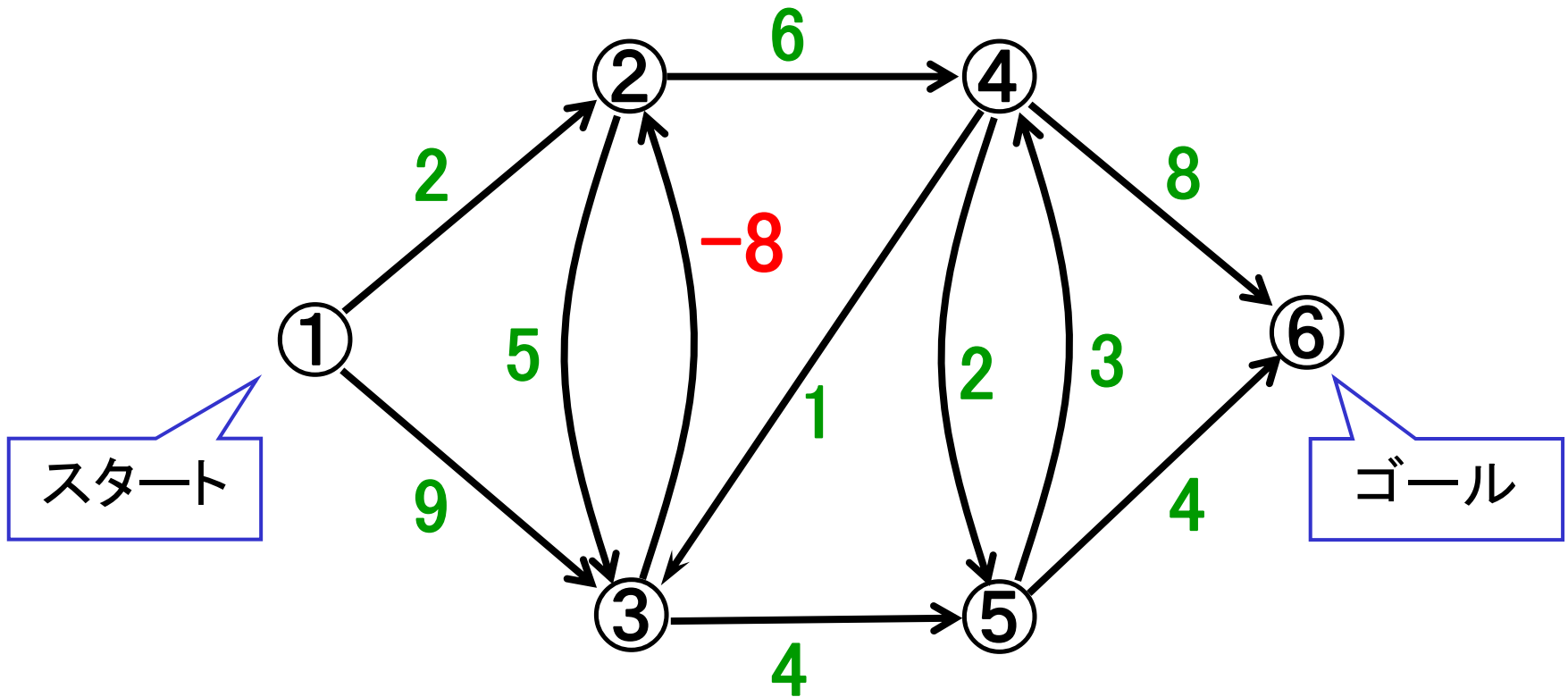
# 練習1 解答例

①を根とした最短路木



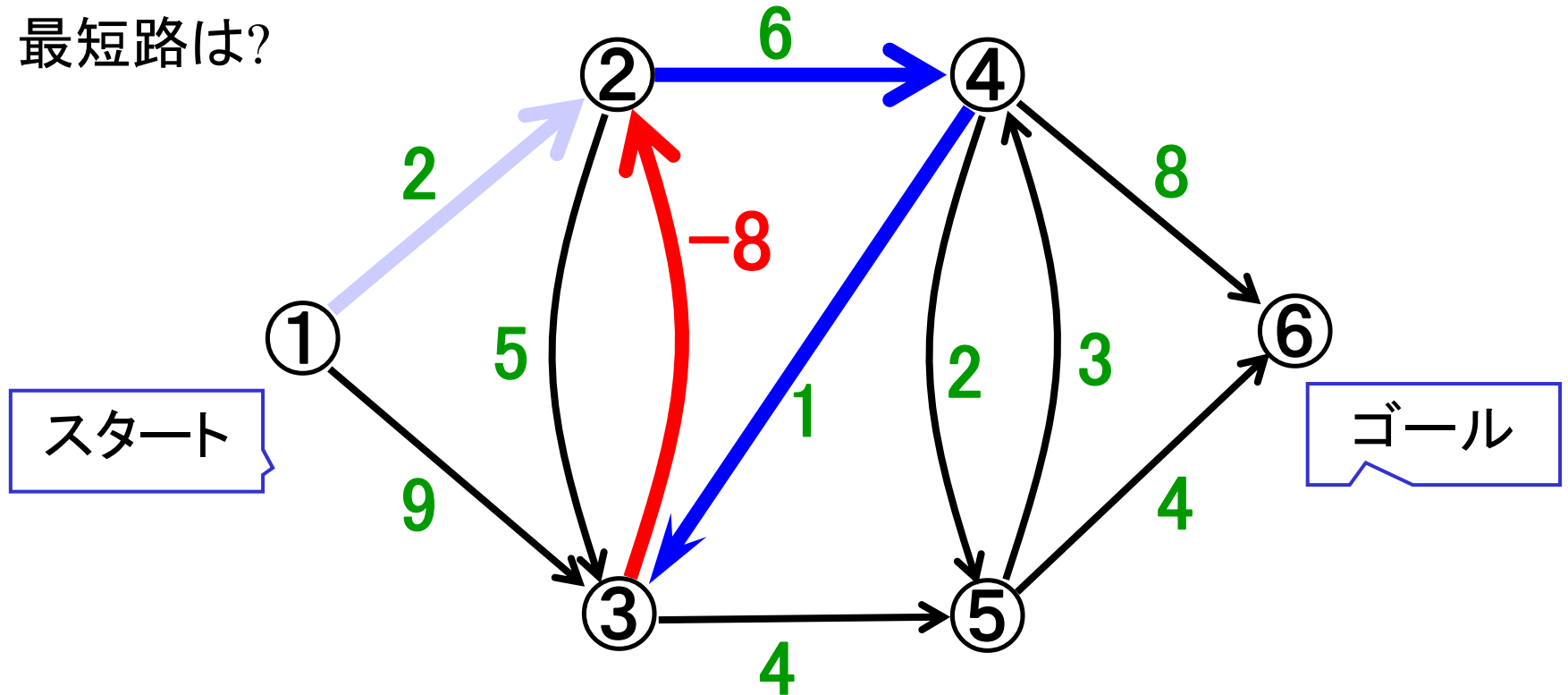
# 例題2 負の長さがある場合

最短路を求めよ



# 例題2(続) 負閉路の存在

最短路は?



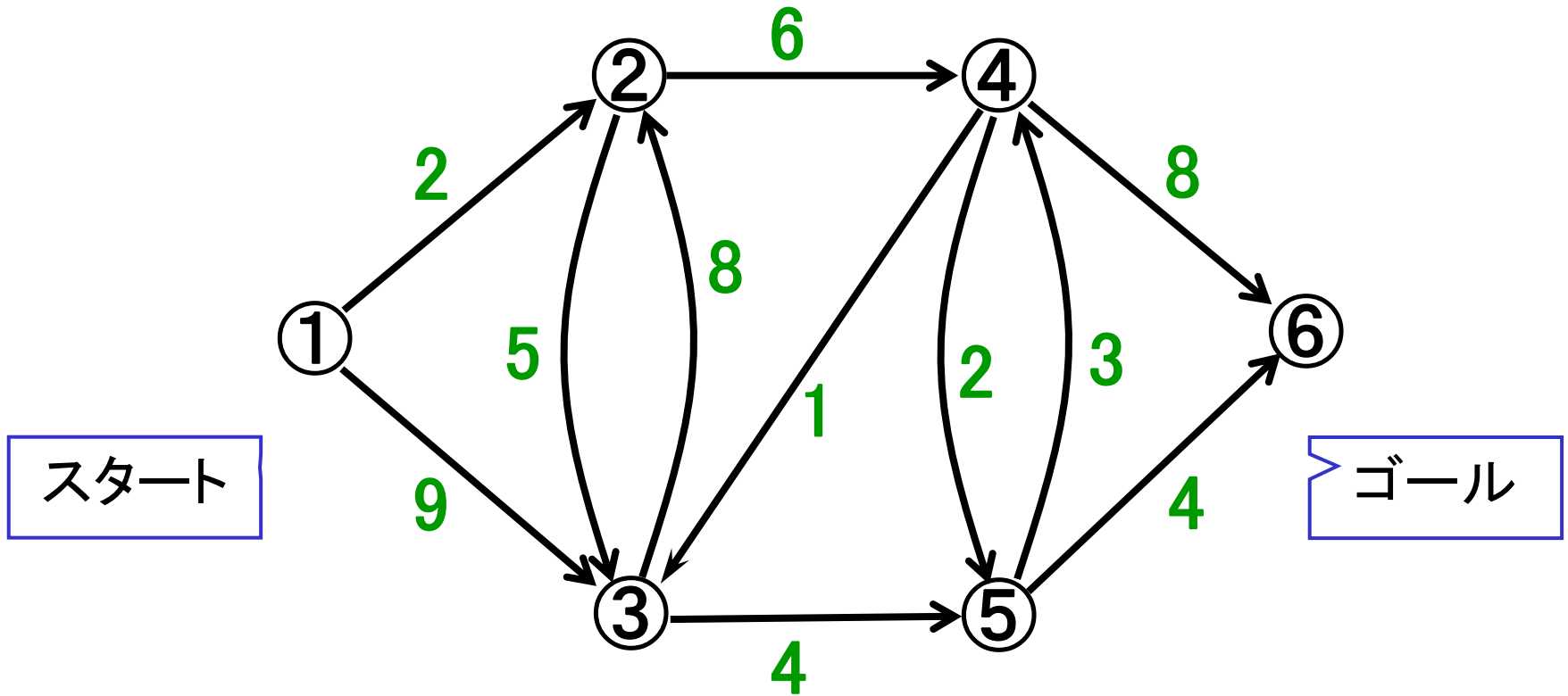
ベルマン-フォード法を適用⇒停止しない

(最短路が存在しない)



枝数回の繰り返しで停止させる(負閉路or最短路の発見)

# 例題3 負の長さの枝が無いとき



枝の数値は  
非負と仮定!

# 例題3(続) 性質を満たす ポテンシャルの見つけ方(1)

準備:

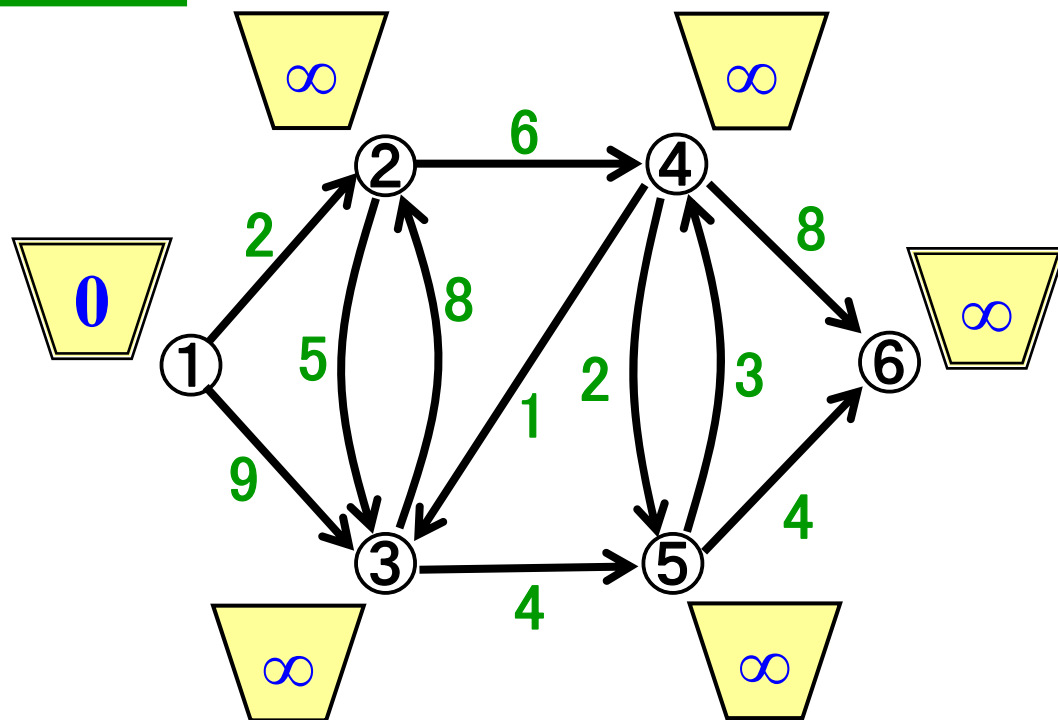
- スタートのポテンシャルを0
- 残りの点のポテンシャルは $\infty$
- 全点が未確定.

性質を満たすよう  
ポテンシャルを順に更新



**ダイクストラ法**

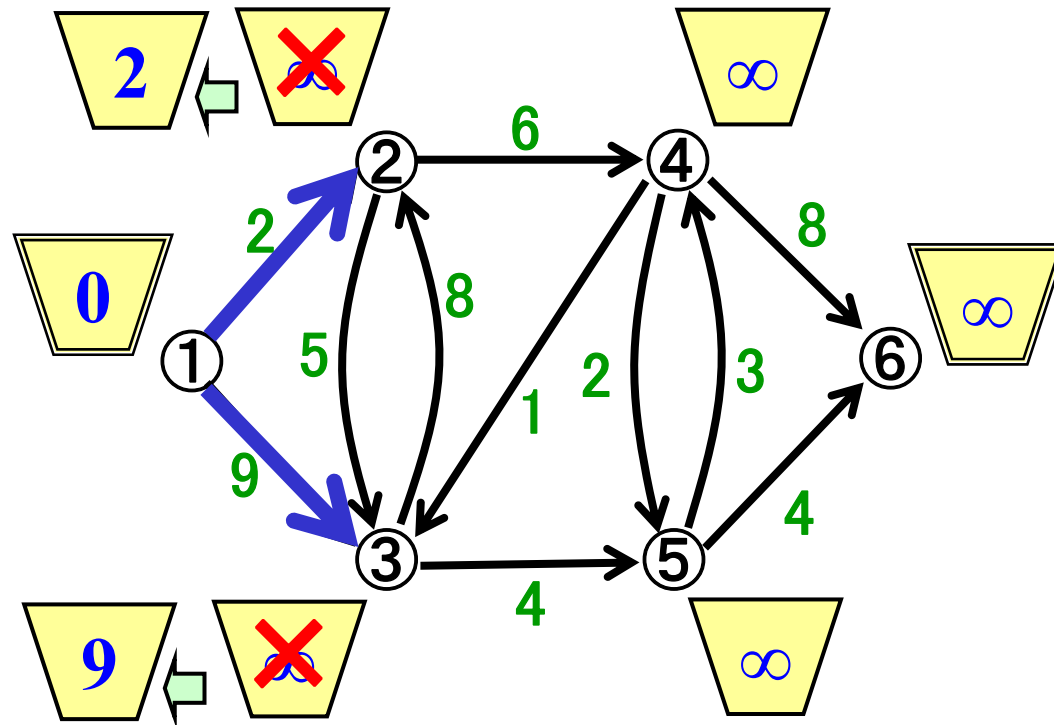
Dijkstra



# 例題3(続) 性質を満たすポテンシャルの見つけ方(1)

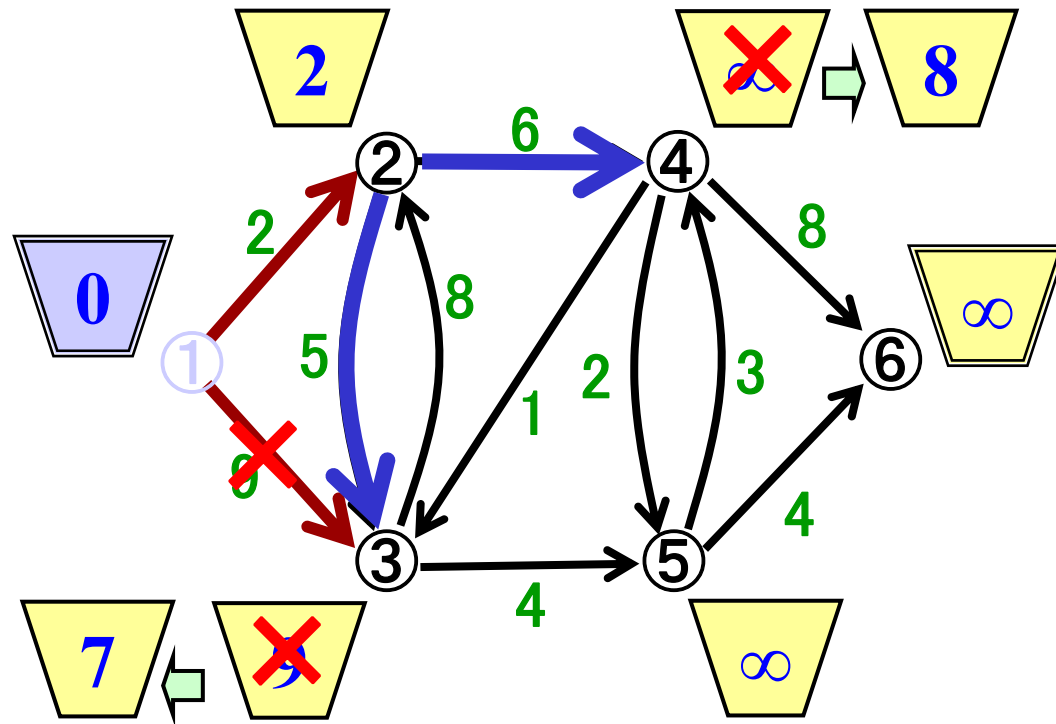
手順: 全点が確定するまで以下を繰り返す

- ① ポテンシャル最小未確定点の選択
- ② ポテンシャル更新
- ③ 点を確定



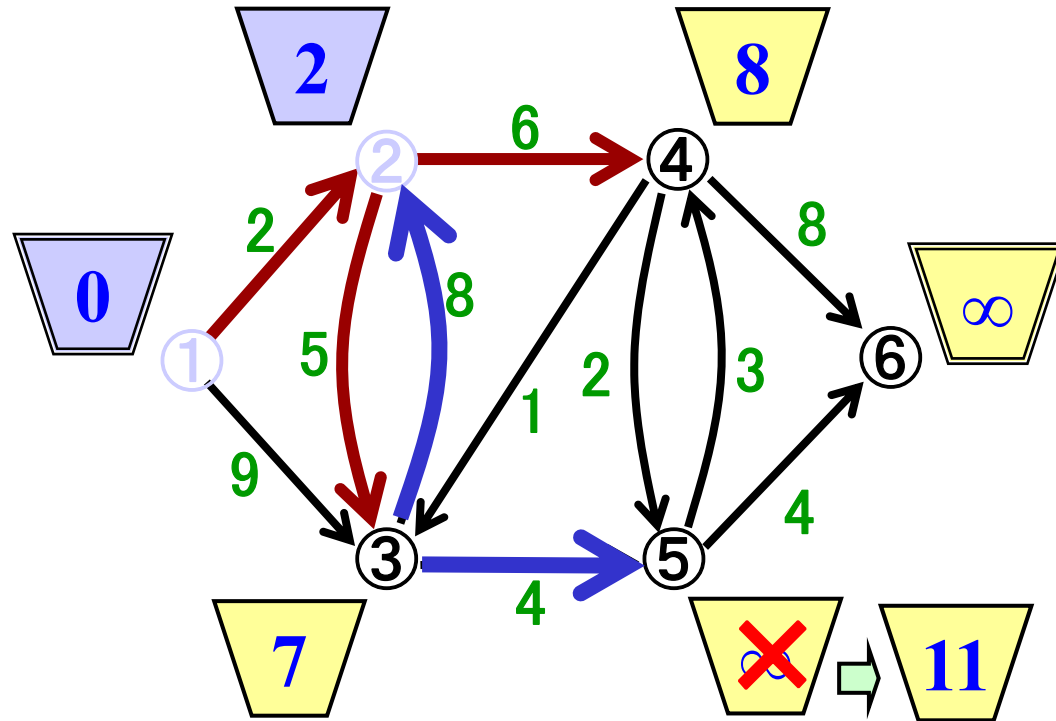
# 例題3(続) 性質を満たすポテンシャルの見つけ方(2)

- ① ポテンシャル最小未確定点の選択
- ② ポテンシャル更新
- ③ 点を確定



# 例題3(続) 性質を満たすポテンシャルの見つけ方(3)

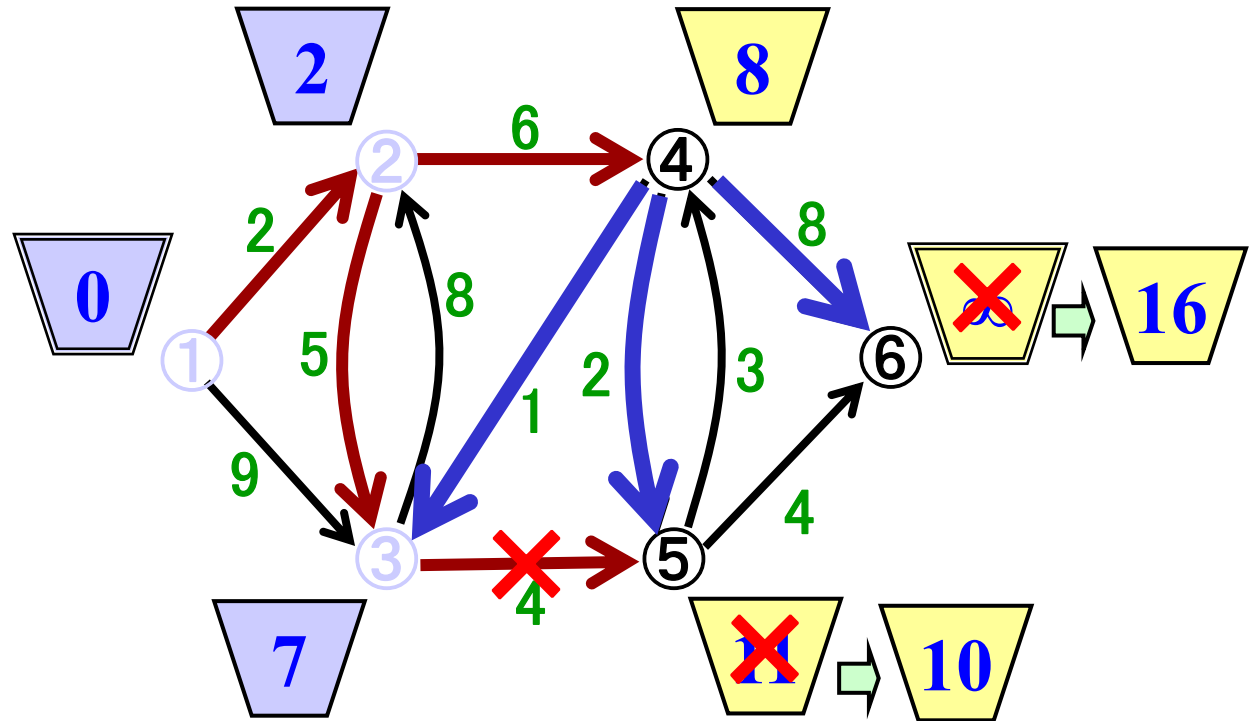
- ① ポテンシャル最小未確定点の選択
- ② ポテンシャル更新
- ③ 点を確定





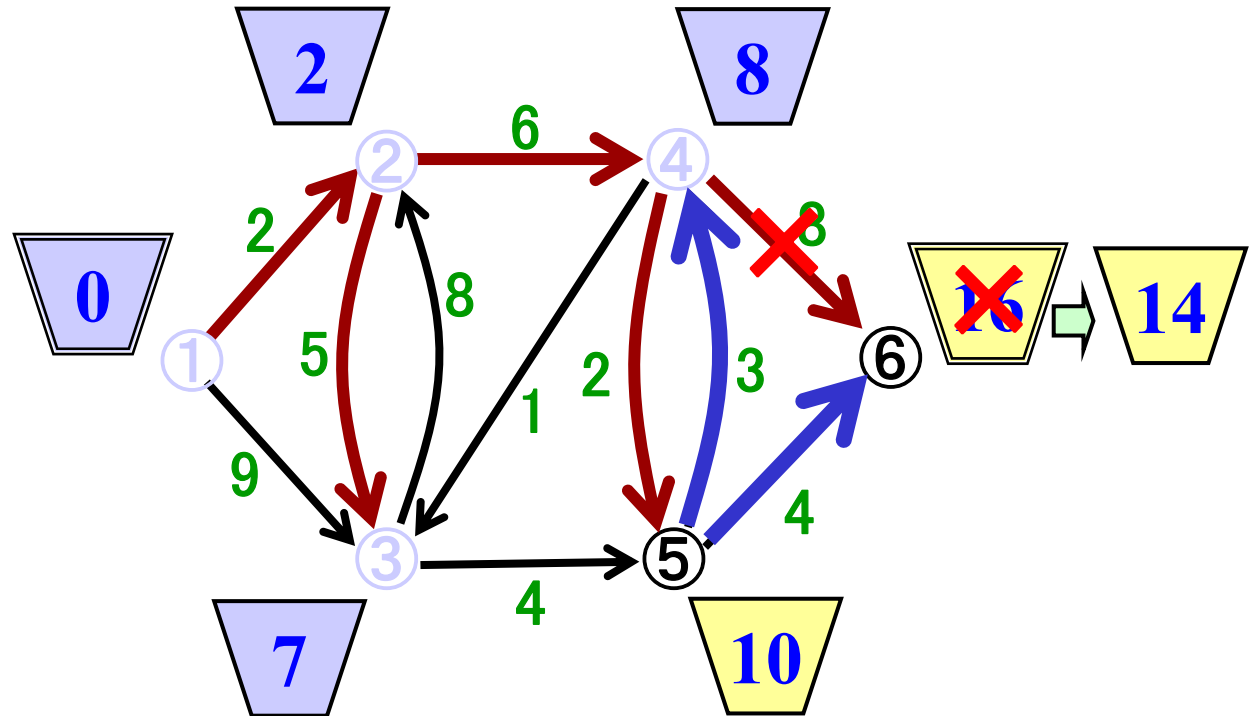
# 例題3(続) 性質を満たすポテンシャルの見つけ方(4)

- ① ポテンシャル最小未確定点の選択
- ② ポテンシャル更新
- ③ 点を確定



# 例題3(続) 性質を満たすポテンシャルの見つけ方(5)

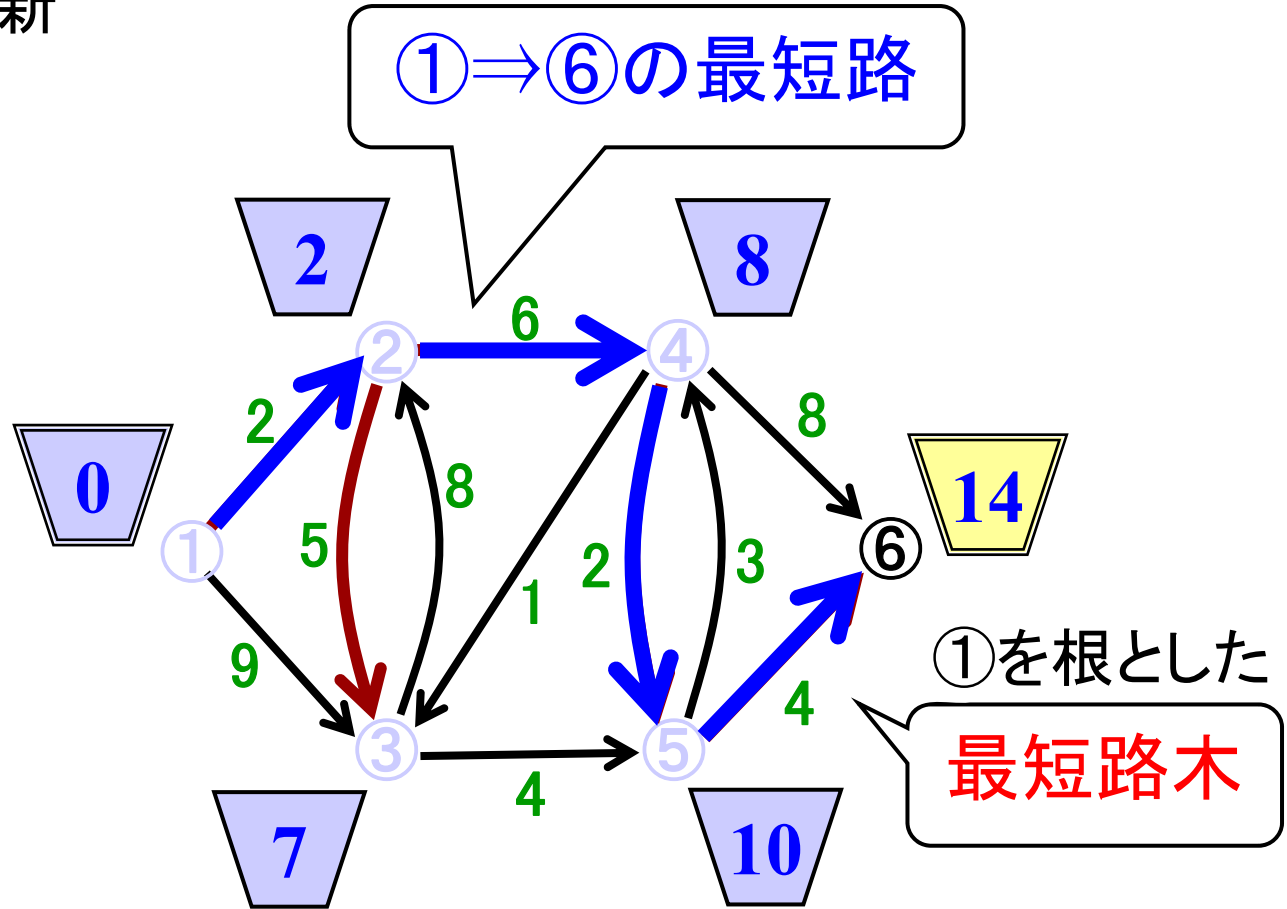
- ① ポテンシャル最小未確定点の選択
- ② ポテンシャル更新
- ③ 点を確定



# 例題3(続) 性質を満たすポテンシャルの見つけ方(6)

- ① ポテンシャル最小未確定点の選択
- ② ポテンシャル更新
- ③ 点を確定

↓  
全点が確定し終了



最適なポテンシャルが見つかった ⇒ 最短路も見つかった

# ダイクストラ法的高速実現法

ポテンシャル最小の点を高速に発見

- 未確定点を配列でなくリスト構造で保持  
(走査する点数を減らす)
- 未確定点をポテンシャルの値順に整列  
→ 整列アルゴリズムの知識が必要

フィボナッチ  
ヒープ

効率的実装

$O(m+n\log n)$

基本的なアルゴリズム+  
データ構造の知識は  
不可欠



# まとめ：問題を解く戦略を練る

