



# Sensitivity Analysis




感度分析

もし〇〇〇だったどうする？




# 線形計画は 最適解を出すだけではない




もし原料の在庫量が増えたら  
生産計画はどうなる?  
再計算でシミュレーションしようかな

その必要はないよ  
最適解を導出した時の  
データからわかるよ



感度分析

Sensitivity Analysis



# 感度分析

## Sensitivity Analysis

- 条件・数値の変化→最適解の変化を分析
    - **What-if分析**
  - 数理モデルで用いられる数値
    - 変化しやすい場合あり
    - 不正確な場合あり
- ⇒解が受ける影響を知ることが重要



# 例題1 生産計画



- 2つの液体製品P,Qは機械A,Bを用いて加工される
- 利益が最大になる1週間の製品P,Qの加工量は？

	液体P 1ml	液体Q 1ml	使用可能時間
機械A	3(h)	1(h)	45(h/週)
機械B	1(h)	2(h)	40(h/週)
利益	6(万円)	5(万円)	

⇒ シンプレックス法で最適解と最適値を求めてみよう.

# シンプレックス法で解く

$x_1$ : 液体Pの生産量

$x_2$ : 液体Qの生産量

$$\begin{aligned} \max. \quad & z = 6x_1 + 5x_2 \\ \text{s.t.} \quad & 3x_1 + x_2 \leq 45 \\ & x_1 + 2x_2 \leq 40 \\ & x_1, x_2 \geq 0 \end{aligned}$$

定式化

標準形に変形

$$\begin{aligned} \max. \quad & z \\ \text{s.t.} \quad & 3x_1 + x_2 + s_1 = 45 \\ & x_1 + 2x_2 + s_2 = 40 \\ & z - 6x_1 - 5x_2 = 0 \\ & x_1, x_2, s_1, s_2 \geq 0 \end{aligned}$$

シンプレックス表  
(初期)

基底	z	$x_1$	$x_2$	$s_1$	$s_2$	定数項	増加 限界
$s_1$	0	3	1	1	0	45	
$s_2$	0	1	2	0	1	40	
z	1	-6	-5	0	0	0	

練習: 最適解を求めてみよう.

# 例題1 解答例

	基底	z	$x_1$	$x_2$	$s_1$	$s_2$	定数項	増加限界
①	$s_1$	0	3	1	1	0	45	15
②	$s_2$	0	1	2	0	1	40	40
③	z	1	-6	-5	0	0	0	

掃き出し操作の記録

①	$x_1$	0	1	1/3	1/3	0	15	45
②	$s_2$	0	0	5/3	-1/3	1	25	10
③	z	1	0	-3	2	0	90	

①  $\times 1/3$

②  $-$  ①  $\times 1/3$

③  $-$  ①  $\times (-2)$

①	$x_1$	0	1	0	2/5	-1/5	10	
②	$x_2$	0	0	1	-1/5	3/5	15	
③	z	1	0	0	7/5	9/5	135	

①  $-$  ②  $\times 1/5$

②  $\times 3/5$

③  $-$  ②  $\times (-9/5)$

最適

最適解  $(x_1, x_2) = (10, 15)$ , 最適値 135

# 例題1 定数項の変化

## お知らせ

臨時に労働条件の変更有  
機械1台の稼働時間を  
10(時間/週)延長可能

利益最大にしたい  
増えた10時間の  
有効活用案は?



現在	使用可能時間
機械A	45(h/週)
機械B	40(h/週)

## 解決案のポイント

- 機械Aの使用可能時間増加に対する利益の増加量
- 機械Bの使用可能時間増加に対する利益の増加量

比較

算出方法は?

# 限界価値

シンプレックス表(最終)

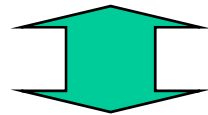
$s_1$ : 機械Aの未稼働時間  
 $s_2$ : 機械Bの未稼働時間



基底	z	$x_1$	$x_2$	$s_1$	$s_2$	定数項
$x_1$	0	1	0	3/5	1/5	10
$x_2$	0	0	1	-1/5	3/5	15
z	1	0	0	7/5	9/5	135

$$z = 0x_1 + 0x_2 - \frac{7}{5}s_1 - \frac{9}{5}s_2 + 135$$

機械A(B)未稼働時間を1時間増加→利益が7/5(9/5)万円減少



機械A(B)未稼働時間を1時間減少→利益が7/5(9/5)万円増加

||

機械A(B)の使用可能時間を1時間増加

**限界価値**(影の価格)

marginal price (shadow price)





# 限界価値の解釈

- (機械Aの稼働時間増加の利益率:  $7/5$ 万円/h)  
 $\leq$  (機械Bの稼働時間増加の利益率:  $9/5$ 万円/h)
- (機械Bの延長費用)  $< 9/5$ 万円/h  $\Rightarrow$  時間延長  
(機械Bの延長費用)  $> 9/5$ 万円/h  $\Rightarrow$  現状維持

限界費用

機械Bの  
延長費用

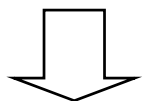


機械Bの使用時間を無制限に増やしても利益を生むか？  
→ 増加限界

# 増加限界

仮定

機械Aの使用可能時間を変えずに、  
機械Bの使用可能時間を $\Delta$ 増やした



デルタ

微量変化を示す記号

知りたいこと

限界価値

最適値はどう変化する？  
その変化が有効な範囲は？

増加限界

最適解周辺で  
の変化を観察



max.  $z$

$$\text{s.t. } 3x_1 + x_2 + s_1 = 45$$

$$x_1 + 2x_2 + s_2 = 40 + \Delta$$

$$z - 6x_1 - 5x_2 = 0$$

$$x_1, x_2, s_1, s_2 \geq 0$$

# 最適解発見経路の追跡

	z	$x_1$	$x_2$	$s_1$	$s_2$	定数項
① $s_1$	0	3	1	1	0	45
② $s_2$	0	1	2	0	1	$40 + \Delta$
③ z	1	-6	-5	0	0	0

① $x_1$	0	1	$1/3$	$1/3$	0	15
② $s_2$	0	0	$5/3$	$-1/3$	1	$25 + \Delta$
③ z	1	0	-3	2	0	90

$x_1$	0	1	0	$2/5$	$-1/5$	$10 - 1/5\Delta$
$x_2$	0	0	1	$-1/5$	$3/5$	$15 + 3/5\Delta$
z	1	0	0	$7/5$	$9/5$	$135 + 9/5\Delta$

最適解発見時の記録を利用

掃き出し操作記録

①  $\times 1/3$   
 ②  $-$  ①  $\times 1/3$   
 ③  $-$  ①  $\times (-2)$

①  $-$  ②  $\times 1/5$   
 ②  $\times 3/5$   
 ③  $-$  ②  $\times (-9/5)$

最適解を得て停止

最適解  $(x_1, x_2) = (10 - 1/5\Delta, 15 + 3/5\Delta)$ , 最適値  $135 + 9/5\Delta$

# 増加限界の導出

シンプレックス表(最終)

	Z	$x_1$	$x_2$	$s_1$	$s_2$	定数項
$x_1$	0	1	0	$2/5$	$-1/5$	$10-1/5\Delta$
$x_2$	0	0	1	$-1/5$	$3/5$	$15+3/5\Delta$
Z	1	0	0	$7/5$	$9/5$	$135+9/5\Delta$

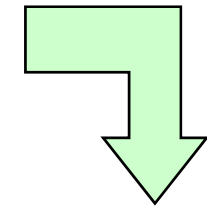
最適解  $(x_1, x_2) = (10-1/5\Delta, 15+3/5\Delta)$

最適値  $135+9/5\Delta$

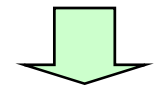
最適解が  
実行可能である  
ための条件

$$\geq 0$$


$$\geq 0$$



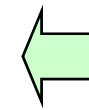
$$\begin{cases} 10-1/5\Delta \geq 0 \\ 15+3/5\Delta \geq 0 \end{cases}$$



$$-25 \leq \Delta \leq 50$$



増加限界は  $(40+50=)$  90時間



ここまで!

機械B: 利益率  $9/5$  万円/h の有効範囲  
使用制限時間が  $15\text{h} \sim 40\text{h} \sim 90\text{h}$  の時

# 増加限界(別な導出法)

機械Aの未使用時間( $s_1=0$ )を変えずに、  
 機械Bの未使用時間( $s_2$ )の変化可能範囲を見つける

$x_1$	0	1	0	$2/5$	$-1/5$	10
$x_2$	0	0	1	$-1/5$	$3/5$	15
$z$	1	0	0	$7/5$	$9/5$	135

$$0z + 1x_1 + 0x_2 + \frac{2}{5}s_1 - \frac{1}{5}s_2 = 10$$

$$x_1 = \frac{1}{5}s_2 + 10 \geq 0$$

$$s_2 \geq -50$$

$$0z + 0x_1 + 1x_2 - \frac{1}{5}s_1 + \frac{3}{5}s_2 = 15$$

$$x_2 = -\frac{3}{5}s_2 + 15 \geq 0$$

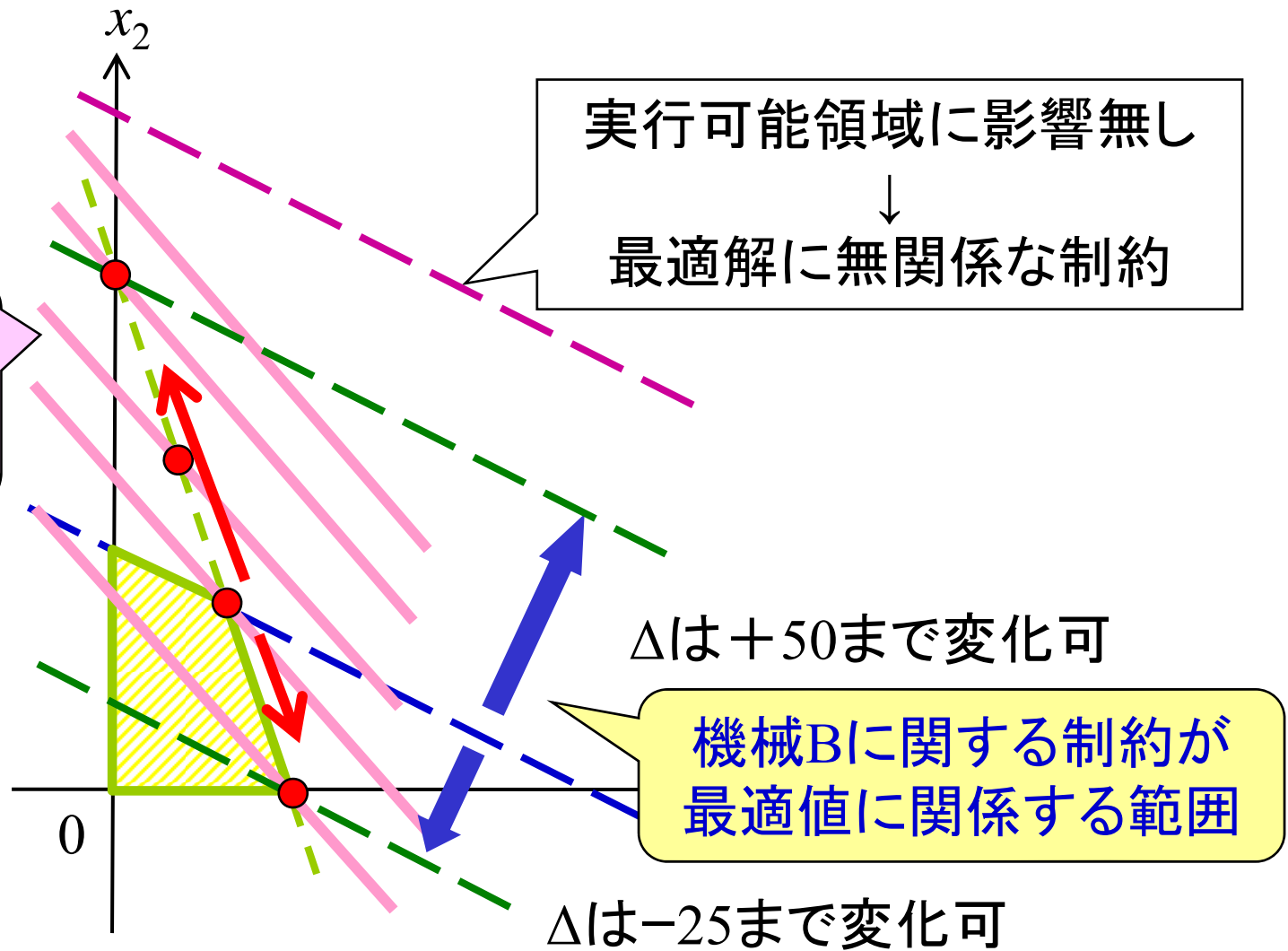
$$s_2 \leq 25$$

$$-50 \leq s_2 \leq 25$$

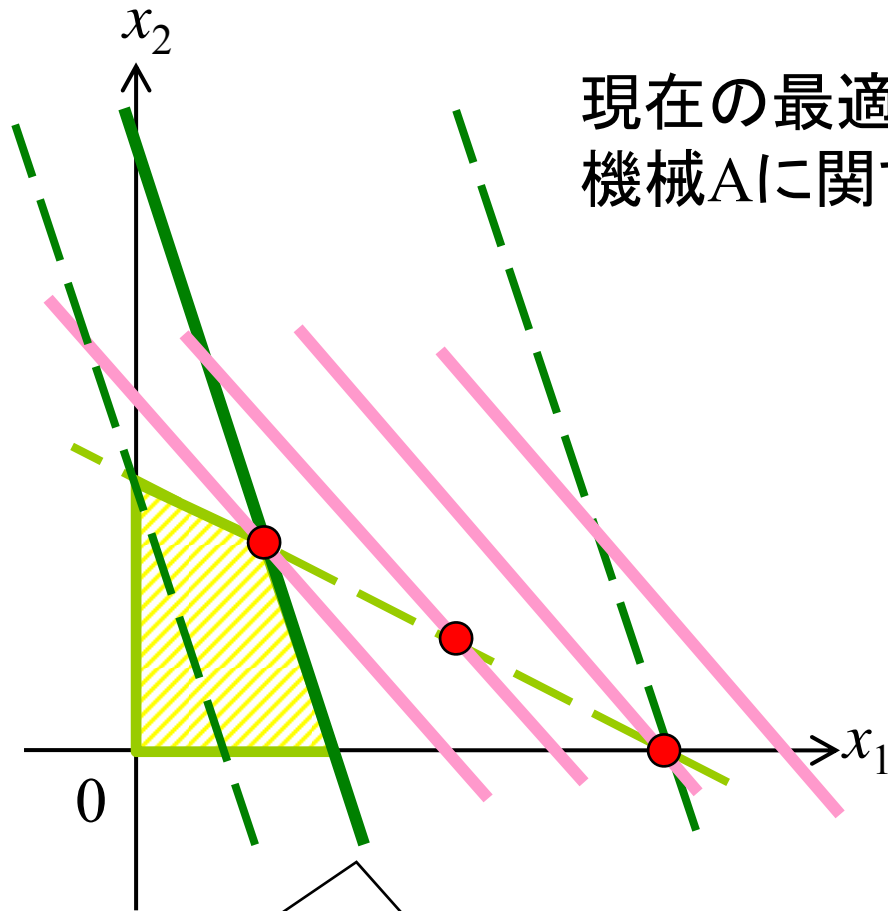
$s_2$ は非負制約を  
50まで破れる

増加限界は50

# 増加限界の図的解釈



# 練習 機械Aについて



現在の最適解に対して、  
機械Aに関する増加限界を求めよう



機械Aに関する制約

# 練習 機械Aの増加限界

	z	$x_1$	$x_2$	$s_1$	$s_2$	定数項
① $s_1$	0	3	1	1	0	$45+\Delta$
② $s_2$	0	1	2	0	1	40
③ z	1	-6	-5	0	0	0

最適解発見時の記録を利用

掃き出し操作記録

① $x_1$	0	1	$1/3$	$1/3$	0	$15+1/3\Delta$
② $s_2$	0	0	$5/3$	$-1/3$	1	$25-1/3\Delta$
③ z	1	0	-3	2	0	$90+2\Delta$

①  $\times 1/3$   
 ②  $-$  ①  $\times 1/3$   
 ③  $-$  ①  $\times (-2)$

$x_1$	0	1	0	$2/5$	$-1/5$	$10+2/5\Delta$
$x_2$	0	0	1	$-1/5$	$3/5$	$15-1/5\Delta$
z	1	0	0	$7/5$	$9/5$	$135+7/5\Delta$

①  $-$  ②  $\times 1/5$   
 ②  $\times 3/5$   
 ③  $-$  ②  $\times (-9/5)$

最適解を得て停止

$\Rightarrow 10+2/5\Delta \geq 0$   
 $15-1/5\Delta \geq 0$

$\Rightarrow -25 \leq \Delta \leq 75$

$\Rightarrow$  機械Aの増加限界 75h



# 演習1



文教工業では原料A,B,Cから  
2種類の液体製品P,Qを作っている。

	製品P 1000ml	製品Q 1000ml	使用限度
原料A	1kg	7kg	140kg
原料B	2kg	4kg	100kg
原料C	3kg	2kg	120kg
利益	3万円	2万円	

# 問題：情報を読み取りなさい

- ① 利益を最大にする生産計画を示せ.
- ② 原料A,B,Cの限界価値を求めよ.  
また, その数値の意味を具体的に解釈せよ.
- ③ 上記①で求めた生産計画を行ったとき,  
原料A,B,Cの増加限界を求めよ.




# 応用 新製品Rは投入すべきか？

## 新らしい液体製品Rの概要

- 製品Rを1(ml)生産に  
機械Aは3(h), 機械Bは2(h)必要
- 製品Rの1(ml)当たりの予想利益は8(万円).
- 機械A,Bの使用可能時間は変化なし(各45h,40h)

例題1の設定で  
新たに製品Rの生産を開始すべきか？



# 判断の基準

現在時点で新製品Rを1(ml)作る

機械A,Bを使用 = 製品P,Q減産 = 利益減



新製品Rが生み出す利益



# 製品R製造の影響評価

新たに製品Rを製造

⇒最適量で製造している製品P,Q減産

⇒製品P,Qから得ていた利益は減少



製品Rを1(ml)製造

機械A 3(h), 機械B 2(h) 使用

機械A 現在の限界価値:  $7/5$  万円/h

機械B 現在の限界価値:  $9/5$  万円/h

製品Rを1(ml)製造に対する

製品P,Qから得ていた利益の減少額:  $3 \times 7/5 + 2 \times 9/5 = 39/5$  万円

製品R 1(ml)の予想利益 8万円

利益が出るね!



# 演習2 製品Rは製造すべきか？

現在の状況(演習1と同一)

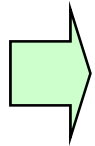
	製品P 1000ml	製品Q 1000ml	使用限度
原料A	1kg	7kg	140kg
原料B	2kg	4kg	100kg
原料C	3kg	2kg	120kg
利益	3万円	2万円	

開発製品R1000(ml)あたりの情報

- 生産に必要な原料A,B,Cは各々5, 3, 1(kg)
- 予想利益は2万円

# 例題2 利益の変化

	液体P 1ml	液体Q 1ml	使用可能時間
機械A	3(h)	1(h)	45(h/週)
機械B	1(h)	2(h)	40(h/週)
利益	6(万円)	5(万円)	



最適生産計画  
液体P: 10 ml  
液体Q: 15 ml

お知らせ

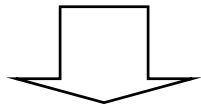
液体Qの利益が8万円/mlに変化



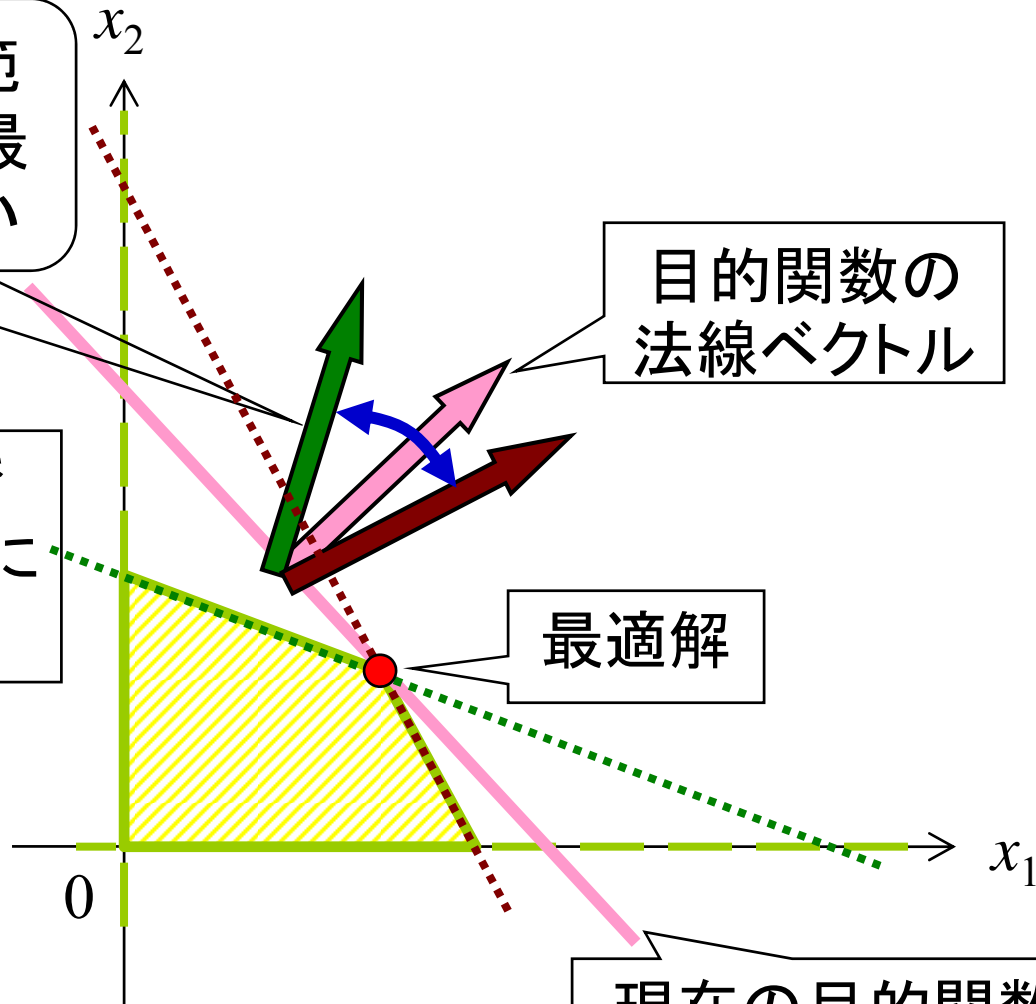
生産計画は変更必要?

# 目的関数の係数の変化

目的関数がこの範囲で変化しても、最適解に変化はない



シンプレックス法で最適解を導く経路に変化はない



目的関数の法線ベクトル

最適解

現在の目的関数



# もし利益が $\Delta$ だけ変化したら...

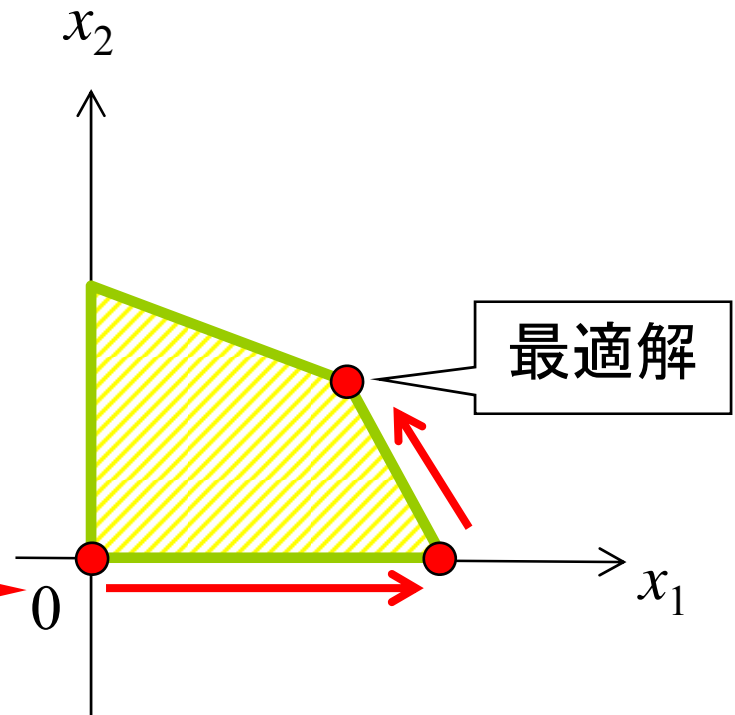
製品Pの利益: 6万円/ml (変化無し)

製品Qの利益:  $(5+\Delta)$ 万円/ml

$$\begin{aligned} \max. \quad & z = 6x_1 + (5+\Delta)x_2 \\ \text{s.t.} \quad & 3x_1 + x_2 \leq 45 \\ & x_1 + 2x_2 \leq 40 \\ & x_1, x_2 \geq 0 \end{aligned}$$

最適解が変化しないとしたら...

同じ経路で最適解に  
辿りつくはず



# 最適解発見経路の追跡

最適解発見時の記録を利用

掃き出し操作記録

- ①  $\times 1/3$
- ②  $-$  ①  $\times 1/3$
- ③  $-$  ①  $\times (-2)$

- ①  $-$  ②  $\times 1/5$
- ②  $\times 3/5$
- ③  $-$  ②  $\times (-9/5 - 3/5\Delta)$

最適解を得て停止

	z	$x_1$	$x_2$	$s_1$	$s_2$	定数項
$s_1$	0	3	1	1	0	45
$s_2$	0	1	2	0	1	40
z	1	-6	$-5-\Delta$	0	0	0

$x_1$	0	1	$1/3$	$1/3$	0	15
$s_2$	0	0	$5/3$	$-1/3$	1	25
z	1	0	$-3-\Delta$	2	0	90

$x_1$	0	1	0	$2/5$	$-1/5$	10
$x_2$	0	0	1	$-1/5$	$3/5$	15
z	1	0	0	$7/5-\Delta/5$	$9/5+3\Delta/5$	$135+15\Delta$

最適解  $(x_1, x_2) = (10, 15)$ , 最適値  $135+15\Delta$

# 最適解が変化しない $\Delta$ の範囲

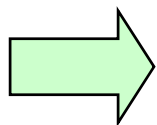
$x_1$	0	1	0	$2/5$	$-1/5$	10
$x_2$	0	0	1	$-1/5$	$3/5$	15
$z$	1	0	0	$7/5 - \Delta/5$	$9/5 + 3\Delta/5$	$135 + 15\Delta$

$$\frac{7}{5} - \frac{\Delta}{5} \geq 0$$
$$\Delta \leq 7$$

$$\frac{9}{5} + \frac{3\Delta}{5} \geq 0$$
$$\Delta \geq -3$$

現在の基底解が最適  
 $\Leftrightarrow z$ 行の要素がすべて非負

よって、 $-3 \leq \Delta \leq 7$  の範囲の時、最適解は変わらない



製品Qの利益が2万円/ml~12万円/mlの間で変化しても最適解は変化しない

# 練習 製品Pの利益率の変化

	液体P	液体Q	使用可能時間
機械A	3(h/ml)	1(h/ml)	45(h/週)
機械B	1(h/ml)	2(h/ml)	40(h/週)
利益	6(万円/ml)	5(万円/ml)	

最適生産計画

液体P: 10 ml

液体Q: 15 ml

現在の最適解が維持される

液体Pの利益の変化の範囲を求めよ



# 演習3 製品Q利益情報の頑健性

現在の状況(演習1と同一)

	製品P 1000ml	製品Q 1000ml	使用限度
原料A	1kg	7kg	140kg
原料B	2kg	4kg	100kg
原料C	3kg	2kg	120kg
利益	3万円	2万円	

製品Qの利益は推定値

- 製品Qに関する利益情報の曖昧さは最適な生産計画にどのような影響を与えるか?


# まとめ

- シンプレックス法を利用し、  
最適解の周辺情報を得ることができる  
**感度分析**
- 感度分析で得た値から、  
問題解決の糸口を得ることができる



# 寄り道 辿った経路の記憶法

	基底	z	$x_1$	$x_2$	$s_1$	$s_2$	定数項	増加限界			
①	$s_1$	0	3	1	1	0	45	15	1	0	0
②	$s_2$	0	1	2	0	1	40	40	0	1	0
③	z	1	-6	-5	0	0	0		0	0	1

- 
  
 ①  $\times 1/3$   
 ②  $-$  ①  $\times 1/3$   
 ③  $-$  ①  $\times (-2)$

この情報で記憶可

①	$x_1$	0	1	1/3	1/3	0	15	45	1/3	0	0
②	$s_2$	0	0	5/3	-1/3	1	25	10	-1/3	1	0
③	z	1	0	-3	2	0	90		2	0	1

# 寄り道 辿った経路の記憶法(2)

	基底	z	$x_1$	$x_2$	$s_1$	$s_2$	定数項	増加限界			
①	$x_1$	0	1	1/3	1/3	0	15	45	1/3	0	0
②	$s_2$	0	0	5/3	-1/3	1	25	10	-1/3	1	0
③	z	1	0	-3	2	0	90		2	0	1

- ① - ② × 1/5  
 ② × 3/5  
 ③ - ② × (-9/5)

掃き出しを記録

$x_1$	0	1	0	2/5	-1/5	10		2/5	-1/5	0
$x_2$	0	0	1	-1/5	3/5	15		-1/5	3/5	0
z	1	0	0	7/5	9/5	135		7/5	9/5	1



# 寄り道 記憶の利用(1)

掃き出しの記録

$2/5$	$-1/5$	0
$-1/5$	$3/5$	0
$7/5$	$9/5$	1

初期のシンプレックス表

z	$x_1$	$x_2$	$s_1$	$s_2$	定数項
0	3	1	1	0	45
0	1	2	0	1	40
1	-6	-5	0	0	0

×

=

0	1	0	$2/5$	$-1/5$	10
0	0	1	$-1/5$	$3/5$	15
1	0	0	$7/5$	$9/5$	135

最後のシンプレックス表

# 寄り道 記憶の利用(2)

掃き出しの記録

$2/5$	$-1/5$	$0$
$-1/5$	$3/5$	$0$
$7/5$	$9/5$	$1$

×

初期のシンプレックス表

Z	$x_1$	$x_2$	$s_1$	$s_2$	定数項
0	3	1	1	0	$45+\Delta$
0	1	2	0	1	40
1	-6	-5	0	0	0

=

0	1	0	$2/5$	$-1/5$	$10+2/5\Delta$
0	0	1	$-1/5$	$3/5$	$15-1/5\Delta$
1	0	0	$7/5$	$9/5$	$135+7/5\Delta$

最後のシンプレックス表

# 寄り道 記憶の利用(3)

掃き出しの記録

$2/5$	$-1/5$	$0$
$-1/5$	$3/5$	$0$
$7/5$	$9/5$	$1$

初期のシンプレックス表

Z	$x_1$	$x_2$	$s_1$	$s_2$	定数項
$0$	$3$	$1$	$1$	$0$	$45$
$0$	$1$	$2$	$0$	$1$	$40$
$1$	$-6$	$-5-\Delta$	$0$	$0$	$0$

×

=

$0$	$1$	$0$	$2/5$	$-1/5$	$10$
$0$	$0$	$1$	$-1/5$	$3/5$	$15$
$1$	$0$	$-\Delta$	$7/5$	$9/5$	$135$

最後のシンプレックス表

# 寄り道 基底行列と逆行列

掃き出しの記録

$B^{-1}$	0
★	★

×

初期のシンプレックス表

基底変数      非基底変数      定数項

B	N	b
$c_B$	$c_N$	0

基底行列の逆行列

=

E	$B^{-1}N$	$B^{-1}b$
$c_B$	$c_N$	0



E	$B^{-1}N$	$B^{-1}b$
0	$c_N - c_B B^{-1}N$	$-c_B B^{-1}b$