


システム工学特講第1

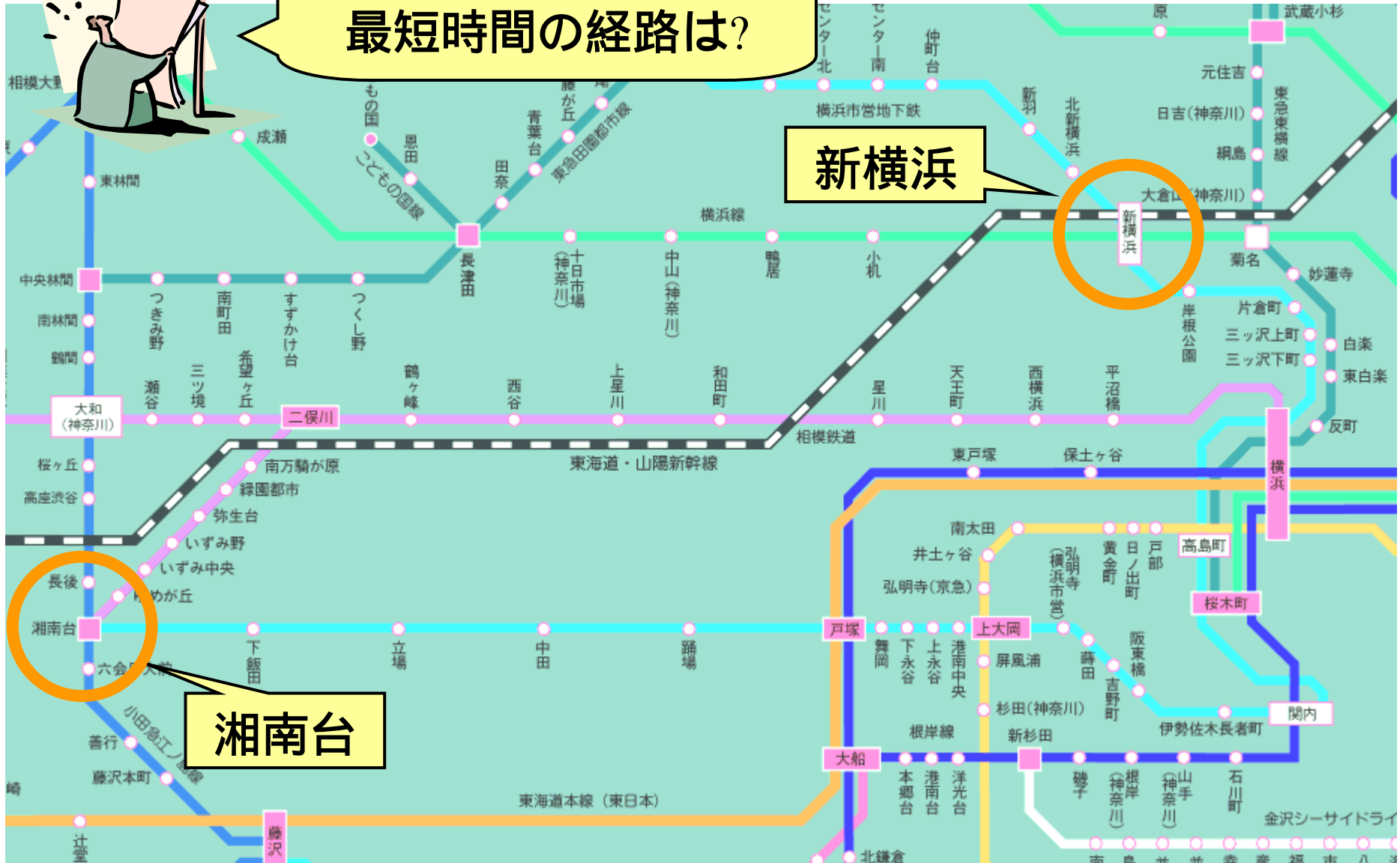


Shortest Path Problem

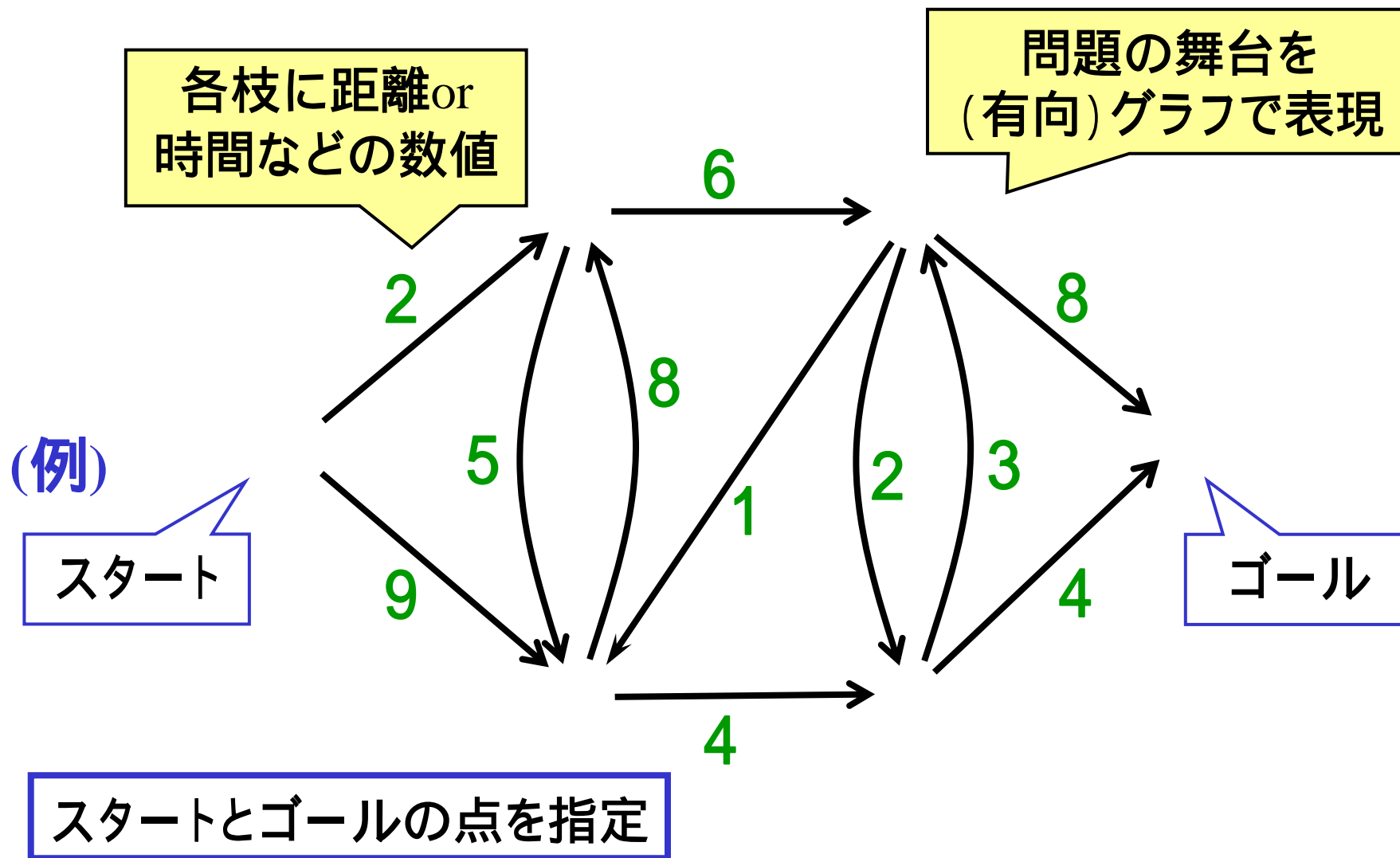
双対問題の利用例

最短路問題

最短距離の経路は?
最短時間の経路は?



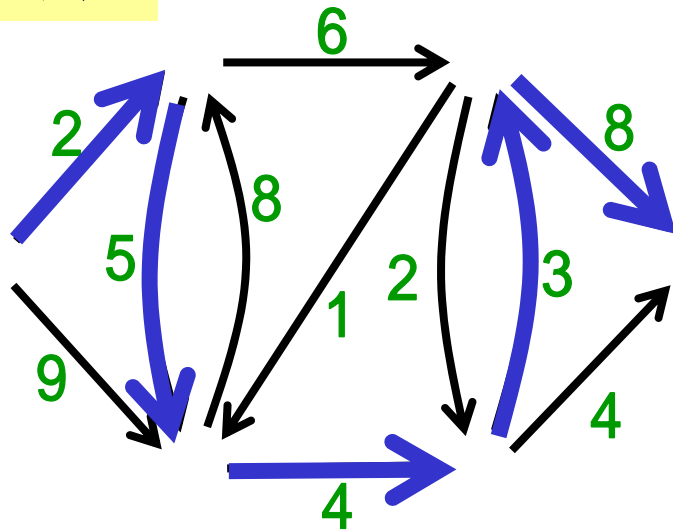
最短路問題のネットワーク表現



パス(経路)とその長さ

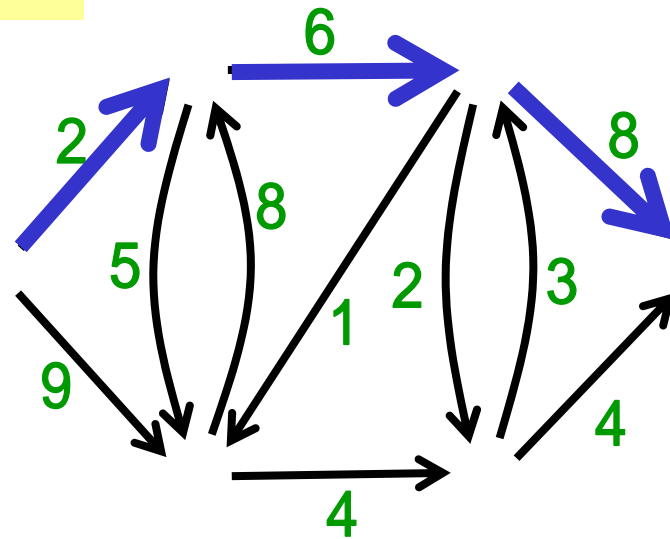
パス(経路): ある点とある点を結ぶ枝の列(向きに注意!)

パスA



パスの長さ: $2+5+4+3+8=22$


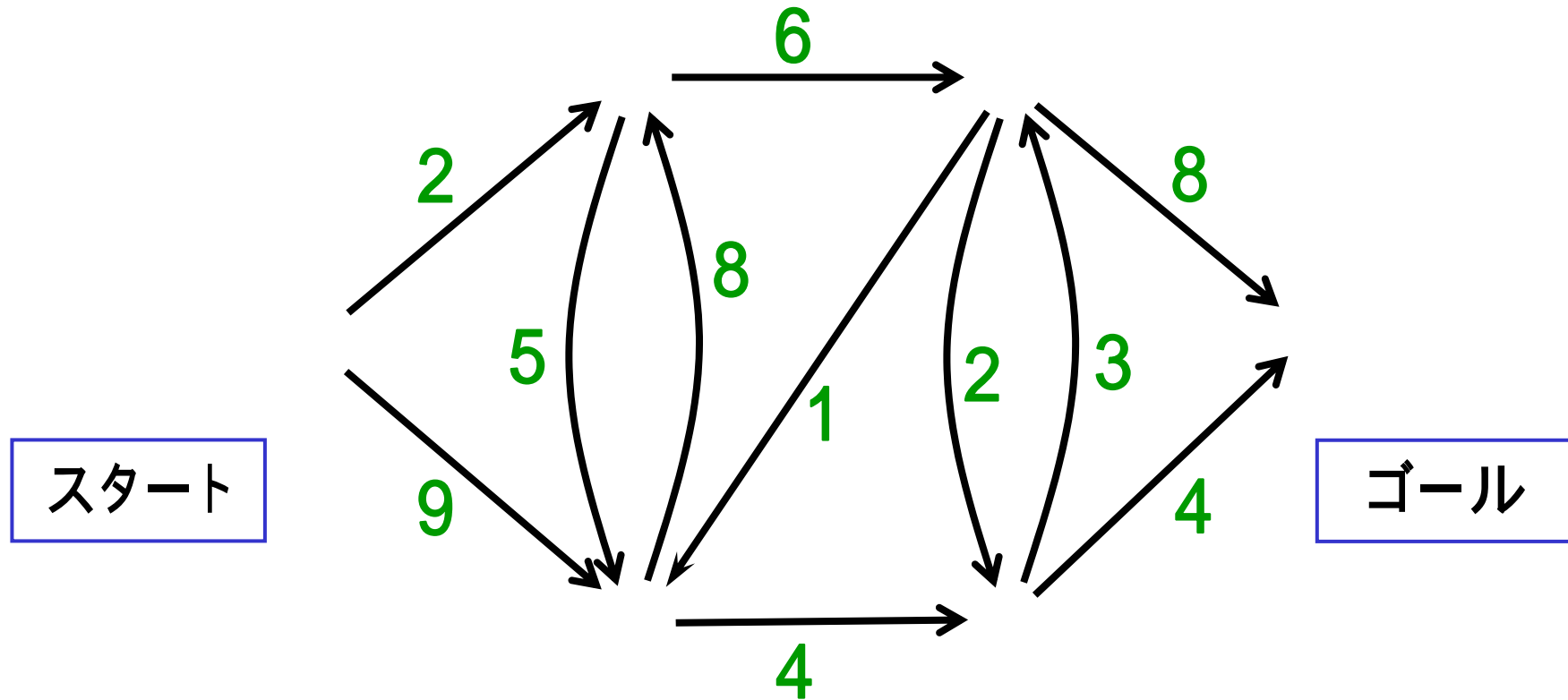
パスB



$2+6+8=16$

- スタートとゴールを結ぶパスは多数
- その中で長さが最短のパス = **最短路**
- 最短路を見つける問題: **最短路問題**

例題1 最短路を求めよ



最短路問題を定式化してみよう

例題1(続) 定式化の準備

決めたいこと

どの枝を通るか

変数

x_{ij} $\{0,1\}$:枝(i,j)を通る $x_{ij}=1$; 通らない $x_{ij}=0$

経路の特徴

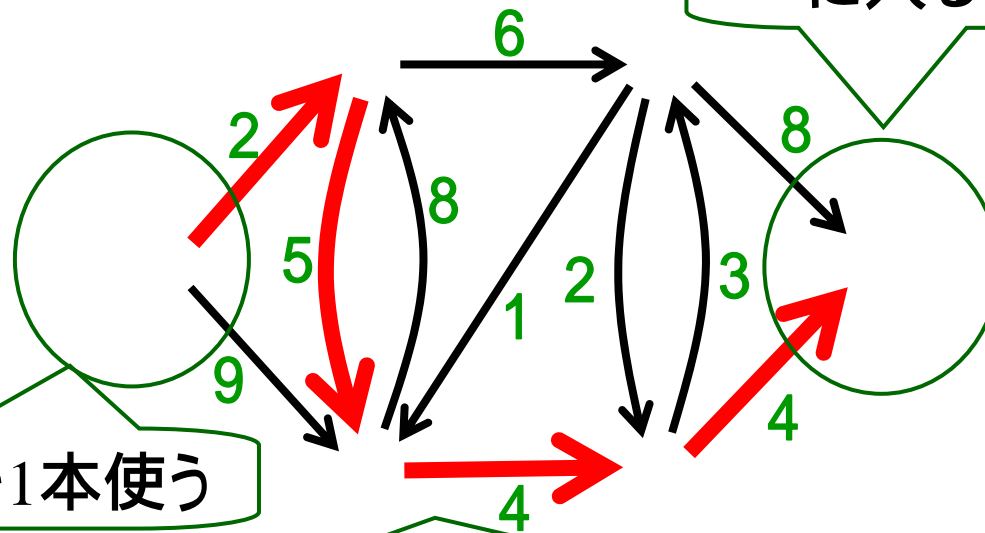
を結ぶ枝の列

制約

に入る枝を1本使う

から出る枝を1本使う

中間点: 入枝が1本使用 出枝を1本使用



例題1(続) 最短路問題の定式化

$$\min. 2x_{12} + 9x_{13} + 5x_{23} + 6x_{24} + 8x_{32} + 4x_{35} + x_{43} + 2x_{45} + 8x_{46} + 3x_{54} + 4x_{56}$$

$$\text{s.t.} \quad x_{12} + x_{13} = 1$$

$$x_{12} + x_{32} = x_{23} + x_{24}$$

$$x_{13} + x_{23} + x_{43} = x_{32} + x_{35}$$

$$x_{24} + x_{54} = x_{43} + x_{45} + x_{46}$$

$$x_{35} + x_{45} = x_{54} + x_{56}$$

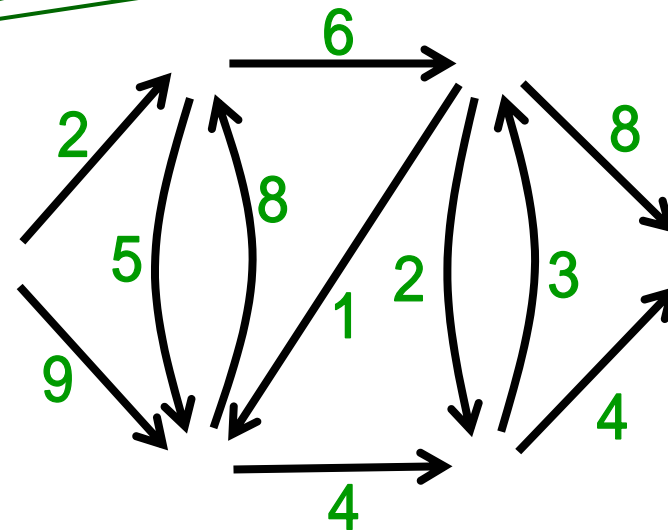
$$x_{46} + x_{56} = 1$$

全枝(i,j)に対して $x_{ij} \in \{0,1\}$

から出る枝を1本使う

中間点: 入枝が1本使用
出枝を1本使用

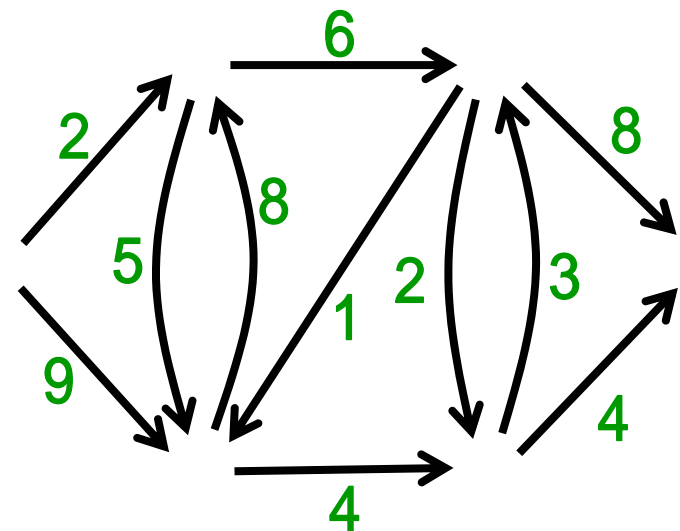
に入る枝を1本使う



寄り道 ネットワークのデータ表現

$$\begin{pmatrix} a_{12} & a_{13} & a_{23} & a_{24} & a_{32} & a_{35} & a_{43} & a_{45} & a_{46} & a_{54} & a_{56} \\ 1 & 1 & 0 & 0 & 0 & 0 & 0 & 0 & 0 & 0 & 0 \\ -1 & 0 & 1 & 1 & -1 & 0 & 0 & 0 & 0 & 0 & 0 \\ 0 & -1 & -1 & 0 & 1 & 1 & -1 & 0 & 0 & 0 & 0 \\ 0 & 0 & 0 & -1 & 0 & 0 & 1 & 1 & 1 & -1 & 0 \\ 0 & 0 & 0 & 0 & 0 & -1 & 0 & -1 & 0 & 1 & 1 \\ 0 & 0 & 0 & 0 & 0 & 0 & 0 & 0 & -1 & 0 & -1 \end{pmatrix}$$


接続行列
(incidence matrix)



双対問題(D)

双対変数:

$p_1, p_2, p_3, p_4, p_5, p_6$



$$\begin{aligned} \max. & \quad -p_1 + p_6 \\ \text{s.t.} & \quad p_2 - p_1 \leq 2 \\ & \quad p_3 - p_1 \leq 9 \\ & \quad p_3 - p_2 \leq 5 \\ & \quad p_4 - p_2 \leq 6 \\ & \quad p_2 - p_3 \leq 8 \\ & \quad p_5 - p_3 \leq 4 \\ & \quad p_3 - p_4 \leq 1 \\ & \quad p_5 - p_4 \leq 2 \\ & \quad p_6 - p_4 \leq 8 \\ & \quad p_4 - p_5 \leq 3 \\ & \quad p_6 - p_5 \leq 4 \end{aligned}$$

仮定
 $p_1 = 0$

$$\begin{aligned} \max. & \quad p_6 \\ \text{s.t.} & \quad p_2 \leq p_1 + 2 \\ & \quad p_3 \leq p_1 + 9 \\ & \quad p_3 \leq p_2 + 5 \\ & \quad p_4 \leq p_2 + 6 \\ & \quad p_2 \leq p_3 + 8 \\ & \quad p_5 \leq p_3 + 4 \\ & \quad p_3 \leq p_4 + 1 \\ & \quad p_5 \leq p_4 + 2 \\ & \quad p_6 \leq p_4 + 8 \\ & \quad p_4 \leq p_5 + 3 \\ & \quad p_6 \leq p_5 + 4 \\ & \quad p_1 = 0 \end{aligned}$$

$$\max. p_6$$

$$\text{s.t. } p_2 \leq p_1 + 2$$

$$p_3 \leq p_1 + 9$$

$$p_3 \leq p_2 + 5$$

$$p_4 \leq p_2 + 6$$

$$p_2 \leq p_3 + 8$$

$$p_5 \leq p_3 + 4$$

$$p_3 \leq p_4 + 1$$

$$p_5 \leq p_4 + 2$$

$$p_6 \leq p_4 + 8$$


$$p_4 \leq p_5 + 3$$

$$p_6 \leq p_5 + 4$$

$$p_1 = 0$$

(D)の解き方: アイディア

ベルマン方程式(Bellman's equation)



$$p_1 = 0$$


$$p_2 = \min\{p_1 + 2, p_3 + 8\}$$

$$p_3 = \min\{p_1 + 9, p_2 + 5, p_4 + 1\}$$

$$p_4 = \min\{p_2 + 6, p_5 + 3\}$$

$$p_5 = \min\{p_3 + 4, p_4 + 2\}$$

$$p_6 = \min\{p_4 + 8, p_5 + 4\}$$



この方程式って解けるの?

ベルマン方程式の解き方

無変化で終了

$$p_1 = 0$$

$$p_2 = \min\{p_1 + 2, p_3 + 8\}$$

$$p_3 = \min\{p_1 + 9, p_2 + 5, p_4 + 1\}$$

$$p_4 = \min\{p_2 + 6, p_5 + 3\}$$

$$p_5 = \min\{p_3 + 4, p_4 + 2\}$$

$$p_6 = \min\{p_4 + 8, p_5 + 4\}$$

動的計画法の利用
ベルマン-フォード法

計算量: $O(mn)$

n: 点数
m: 枝数

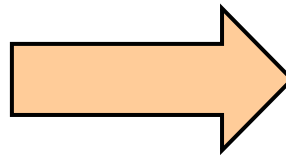
	初期解	改定1	改定2	改定3	改定4	改定5	改定6
p_1	0	0	0	0	0	0	0
p_2		2	2	2	2	2	2
p_3		9	7	7	7	7	7
p_4			8	8	8	8	8
p_5			13	11	10	10	10
p_6				16	15	14	14

(D)の最適解

(D)の解 (P)の解

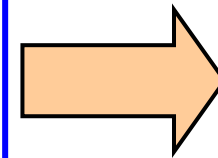
相補性条件

$$\begin{aligned} (2 - p_2 + p_1)x_{12} &= 0 \\ (9 - p_3 + p_1)x_{13} &= 0 \\ (5 - p_3 + p_2)x_{23} &= 0 \\ (6 - p_4 + p_2)x_{24} &= 0 \\ (8 - p_2 + p_3)x_{32} &= 0 \\ (4 - p_5 + p_3)x_{35} &= 0 \\ (1 - p_3 + p_4)x_{43} &= 0 \\ (2 - p_5 + p_4)x_{45} &= 0 \\ (8 - p_6 + p_4)x_{46} &= 0 \\ (3 - p_4 + p_5)x_{54} &= 0 \\ (4 - p_6 + p_5)x_{56} &= 0 \end{aligned}$$



	解
p_1	0
p_2	2
p_3	7
p_4	8
p_5	10
p_6	14

$$\begin{aligned} (0)x_{12} &= 0 \\ (2)x_{13} &= 0 \\ (0)x_{23} &= 0 \\ (0)x_{24} &= 0 \\ (13)x_{32} &= 0 \\ (1)x_{35} &= 0 \\ (2)x_{43} &= 0 \\ (0)x_{45} &= 0 \\ (2)x_{46} &= 0 \\ (5)x_{54} &= 0 \\ (0)x_{56} &= 0 \end{aligned}$$



$$\begin{aligned} x_{12} &= 1 \\ x_{23} &= 1 \\ x_{24} &= 1 \\ x_{45} &= 1 \\ x_{56} &= 1 \end{aligned}$$

例題1(続) (P)の最適解

- $x_{12} = 1$
- $x_{23} = 1$
- $x_{24} = 1$
- $x_{45} = 1$
- $x_{56} = 1$

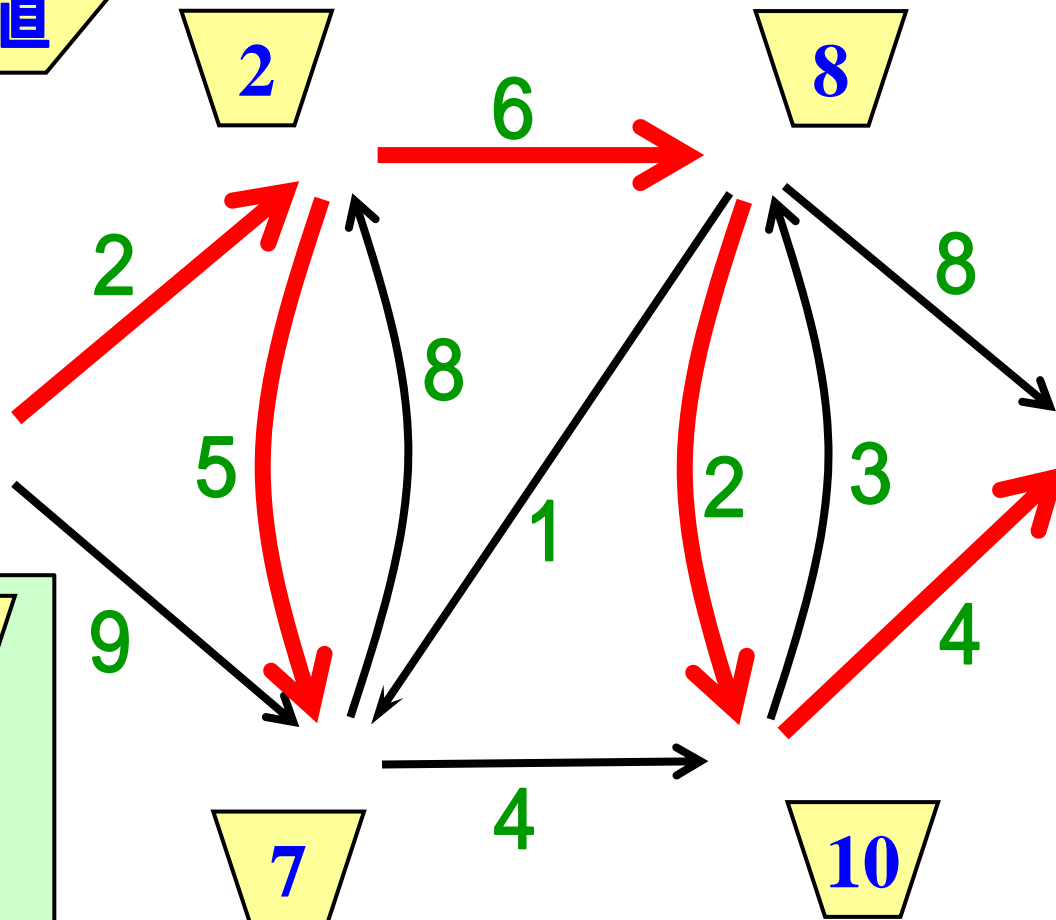
p_i の値

2

8

0

14

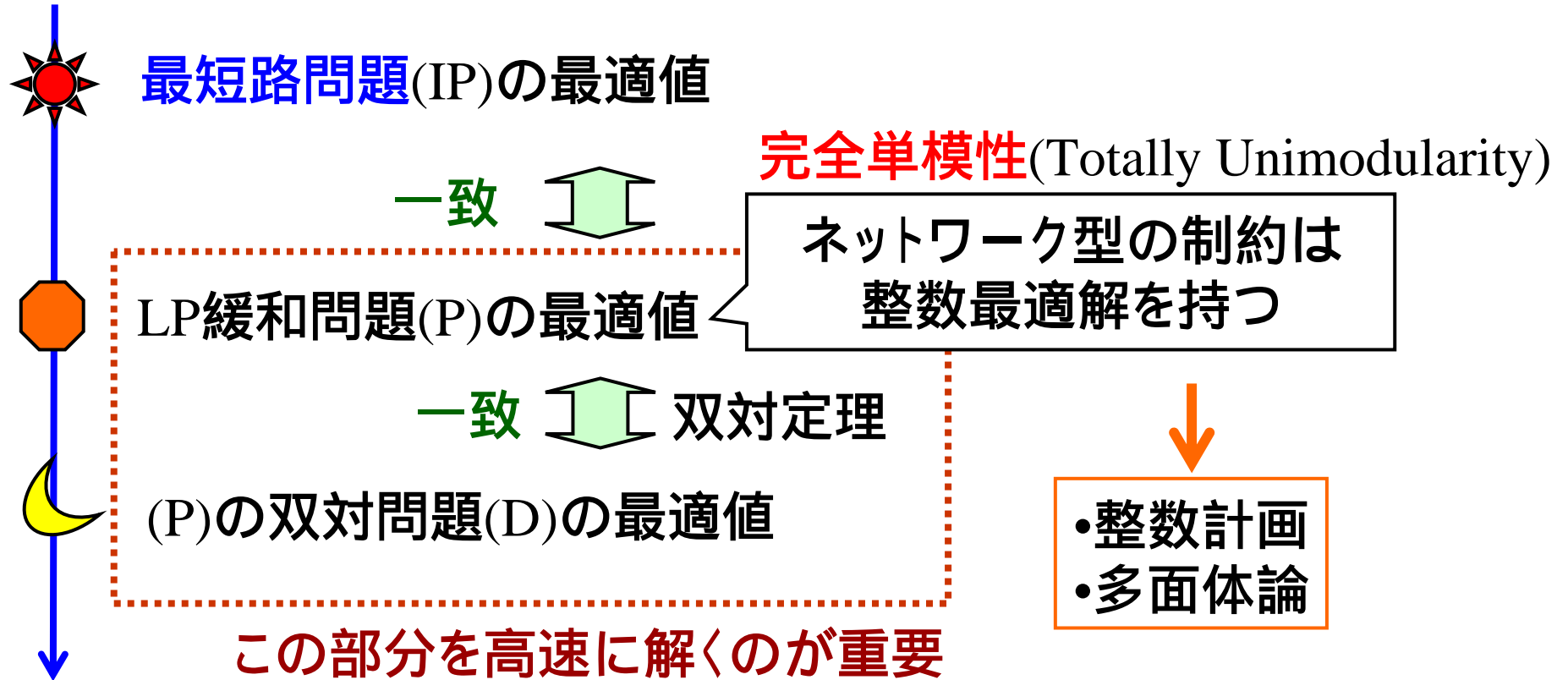


p_i p_j
 $i \xrightarrow{a_{ij}} j$
 すべての枝で
 $p_i + a_{ij} \leq p_j$
 が成立

確認してみよう

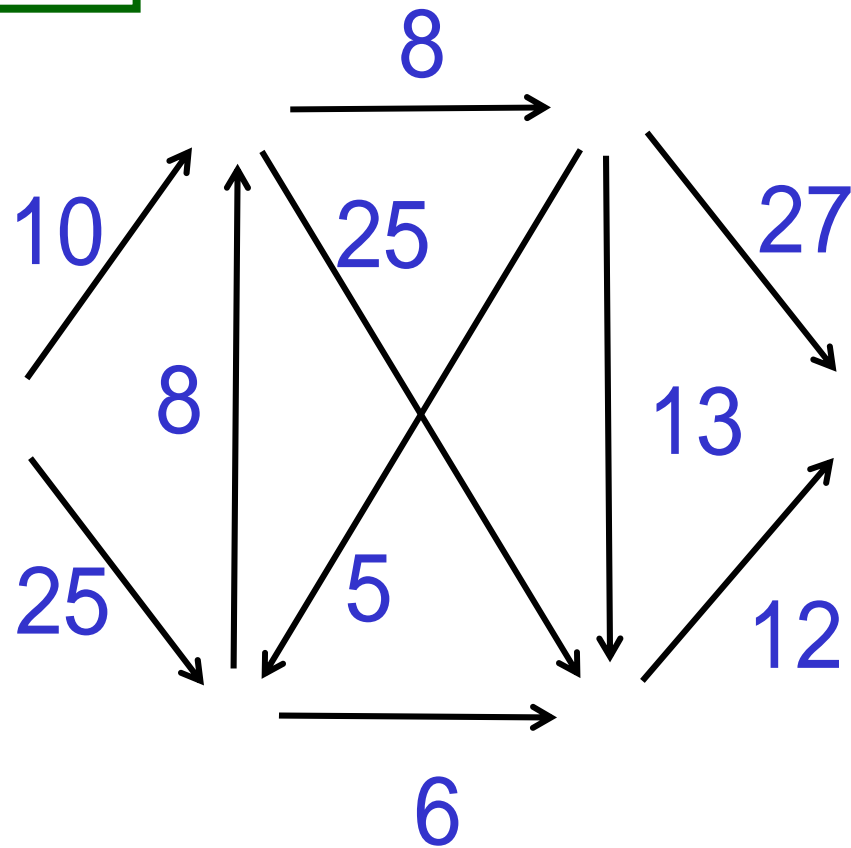
最短路木

(IP)と(P)とその双対問題(D)



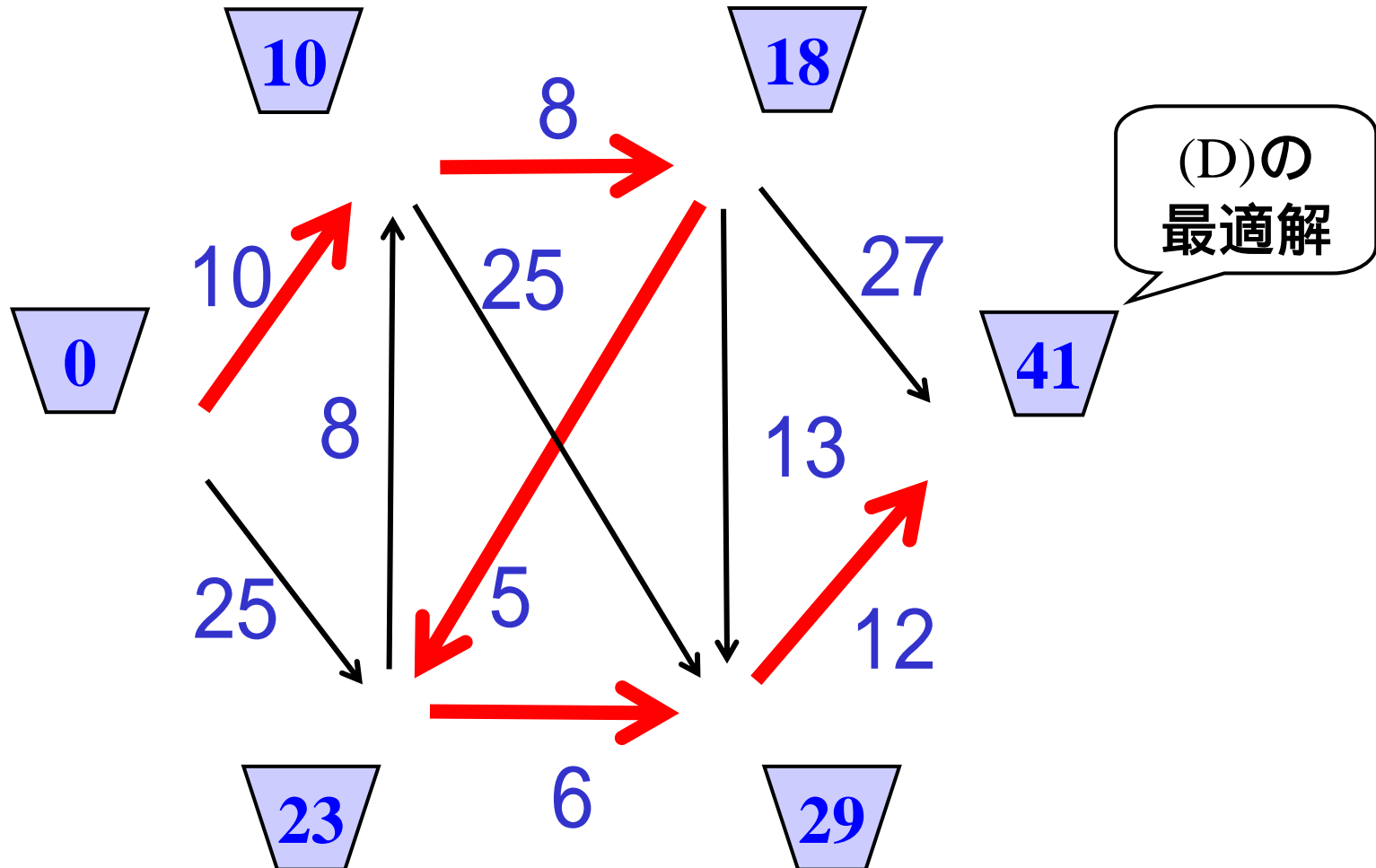
練習1 ベルマン-フォード法

の最短路は?



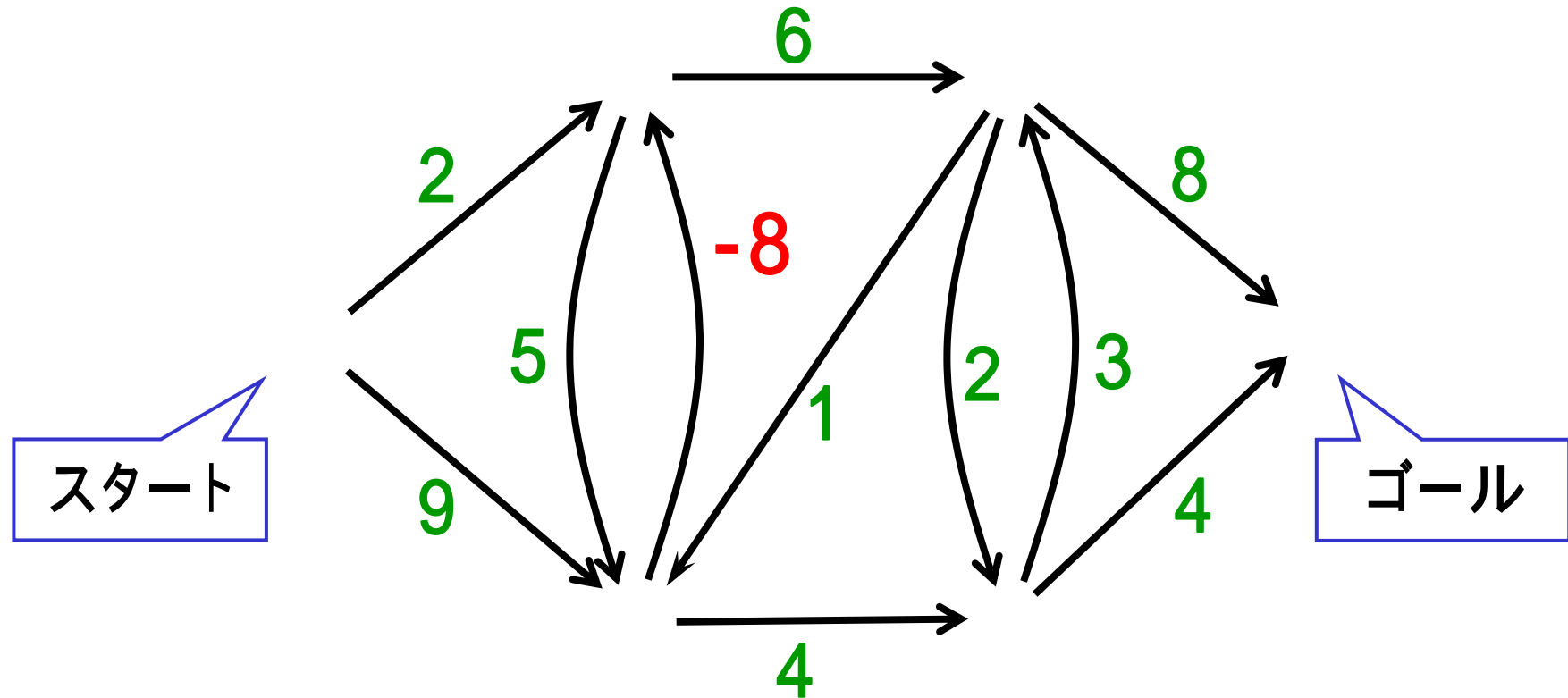
練習1 解答例

を根とした最短路木



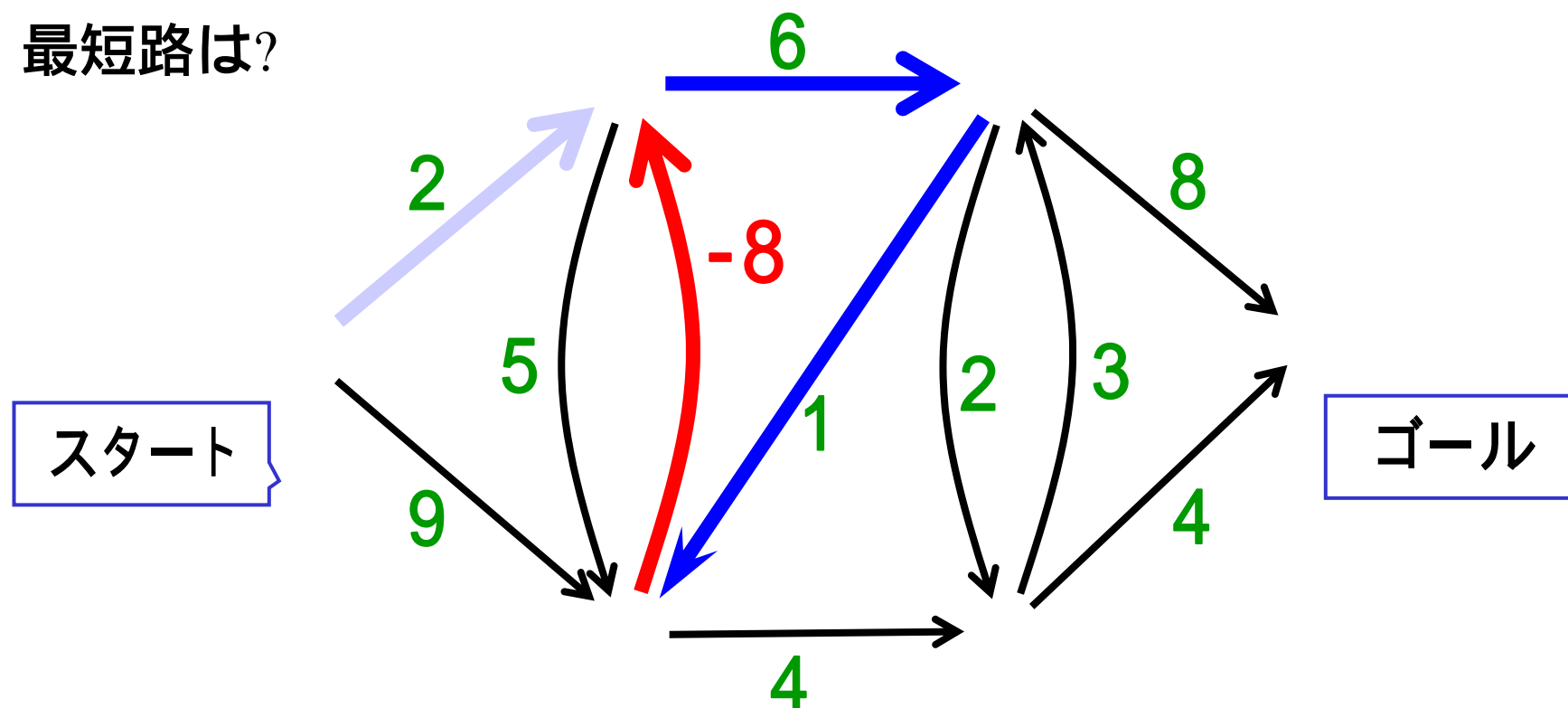
例題2 負の長さがある場合

最短路を求めよ



例題2(続) 負閉路の存在

最短路は?

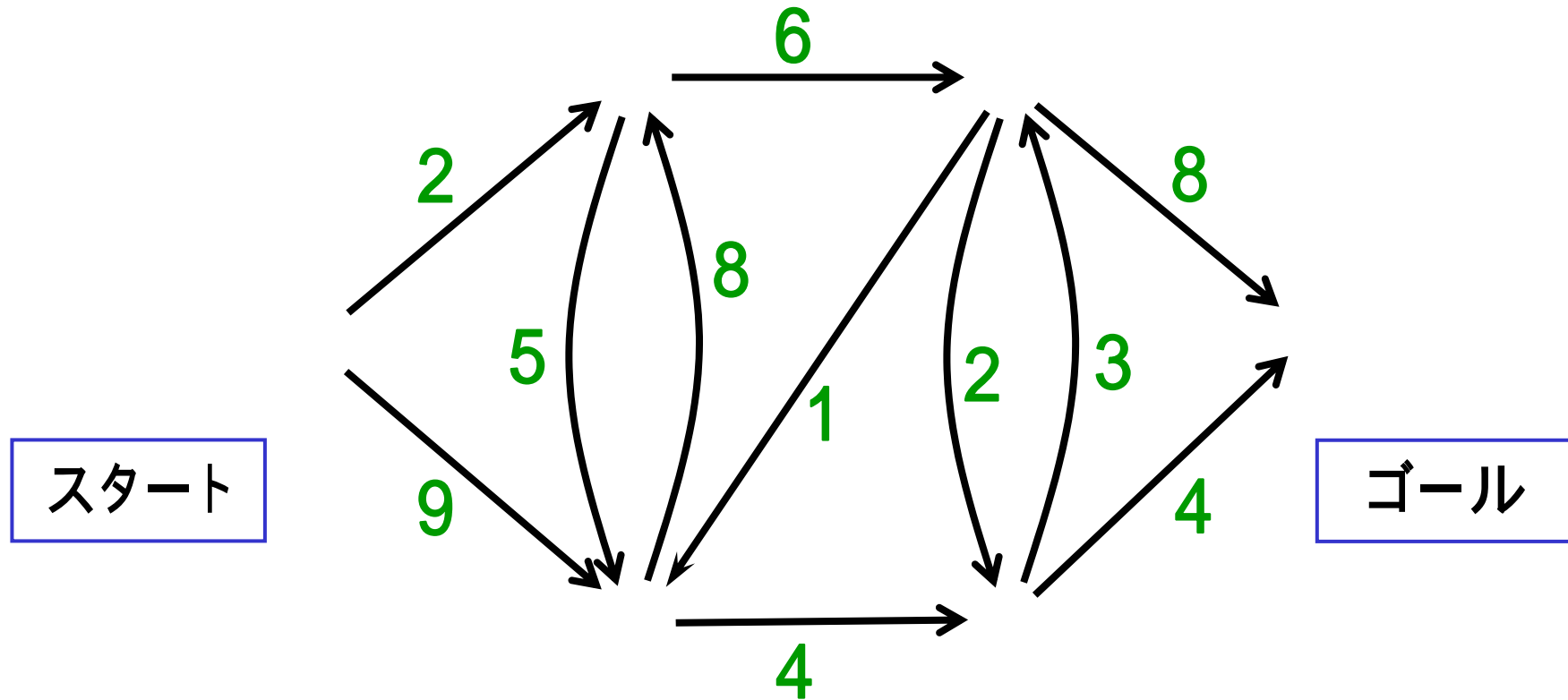


ベルマン-フォード法を適用 停止しない
(最短路が存在しない)



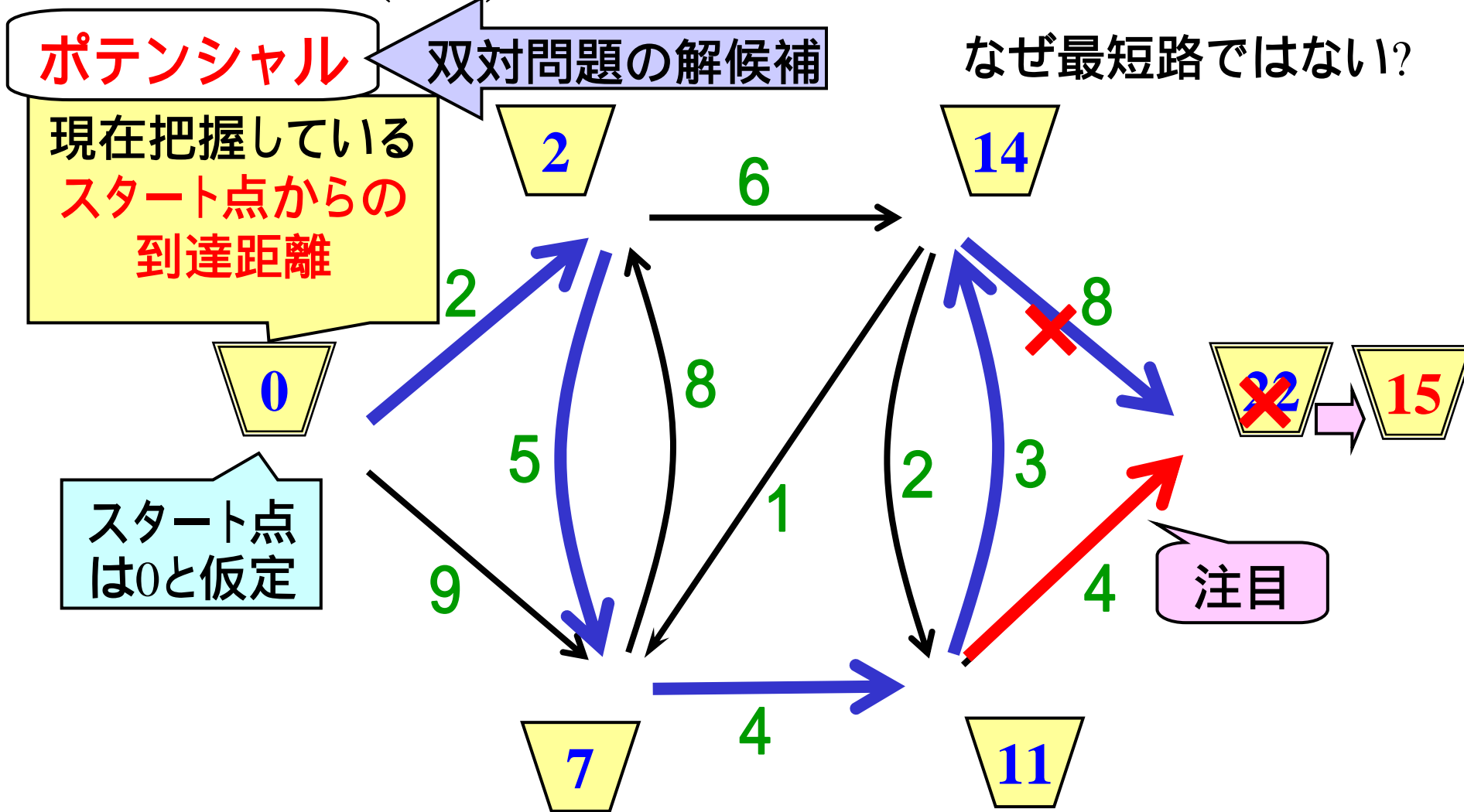
枝数回の繰り返しで停止させる (負閉路or最短路の発見)

例題3 負の長さの枝が無いとき



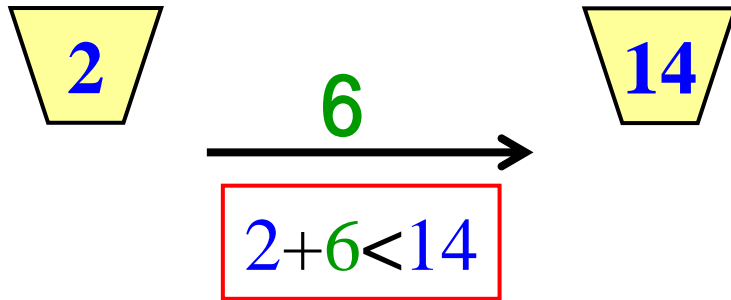
枝の数値は
非負と仮定!

例題3(続) 最短路ではないパス




最短路を見つけた ポテンシャルはどのような状況を満足している？

最短路とポテンシャル



最短路を見つけていない

一般的に書くと



ある枝で $p+a < q$ が成立

最短路を見つけていない
証拠



下の性質を満たす
ポテンシャルの見
つければいいんだ。
どうやって？

すべての枝で
 $p+a < q$ が成立

最短路でない証拠が存在しない

最短路を見つけた！

例題3(続) 性質を満たす ポテンシャルの見つけ方(1)

準備:

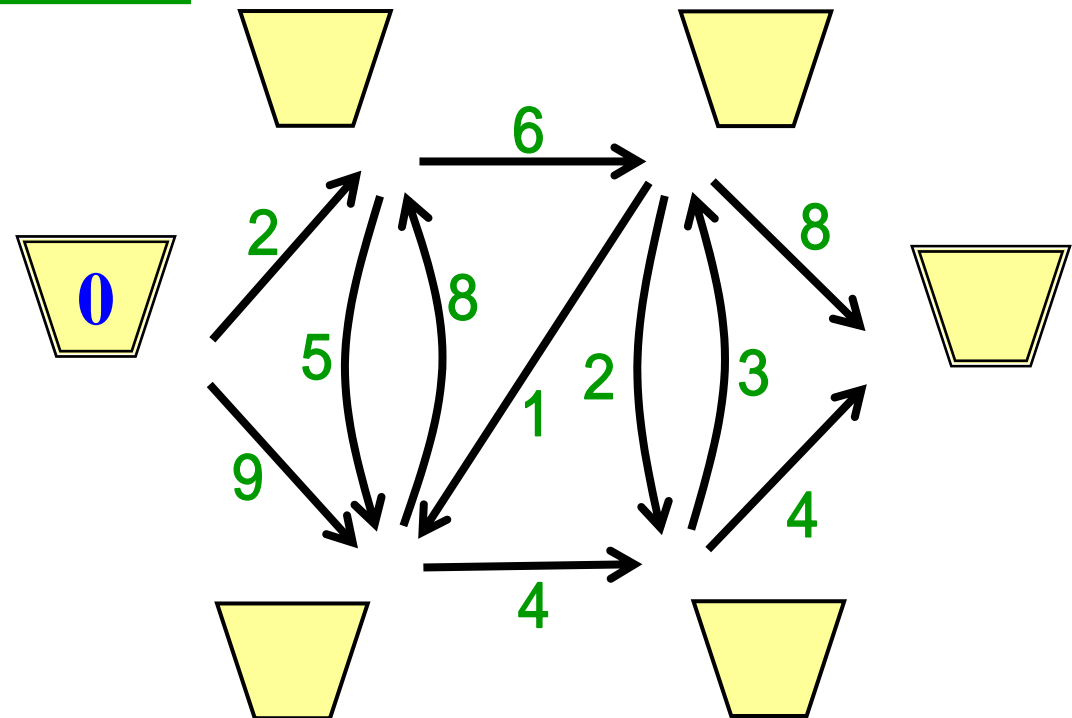
- スタートのポテンシャルを0
- 残りの点のポテンシャルは
- 全点が未確定.

性質を満たすよう
ポテンシャルを順に更新



ダイクストラ法

Dijkstra



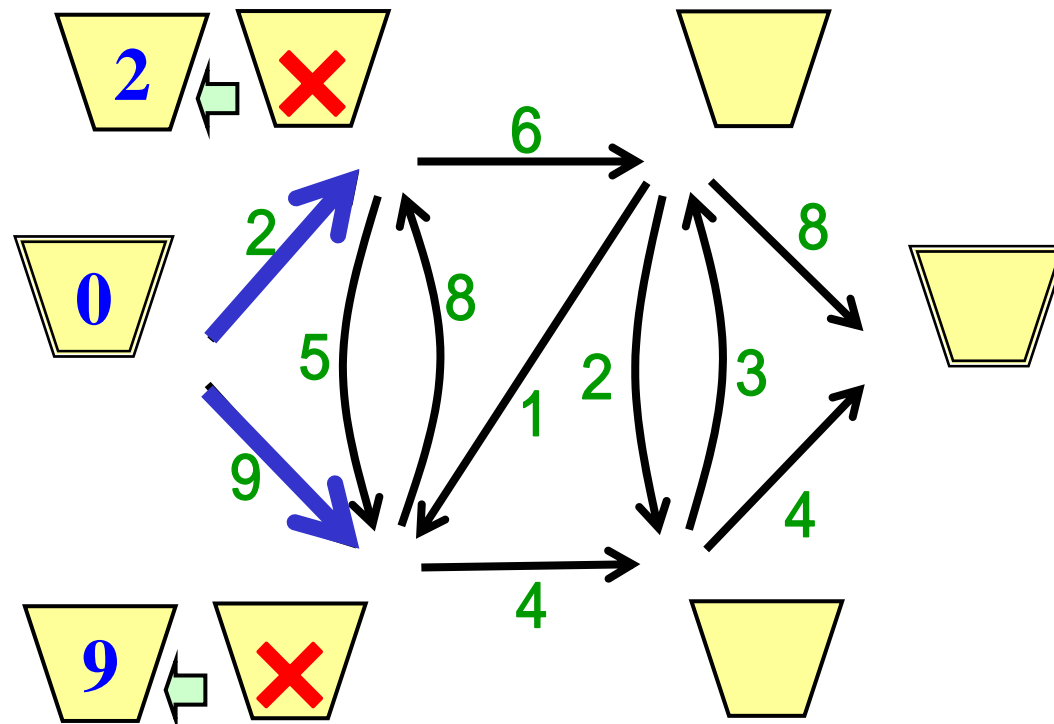
例題3(続) 性質を満たすポテンシャルの見つけ方(1)

手順: 全点が確定するまで以下を繰り返す

ポテンシャル最小未確定点の選択

ポテンシャル更新

点を確定

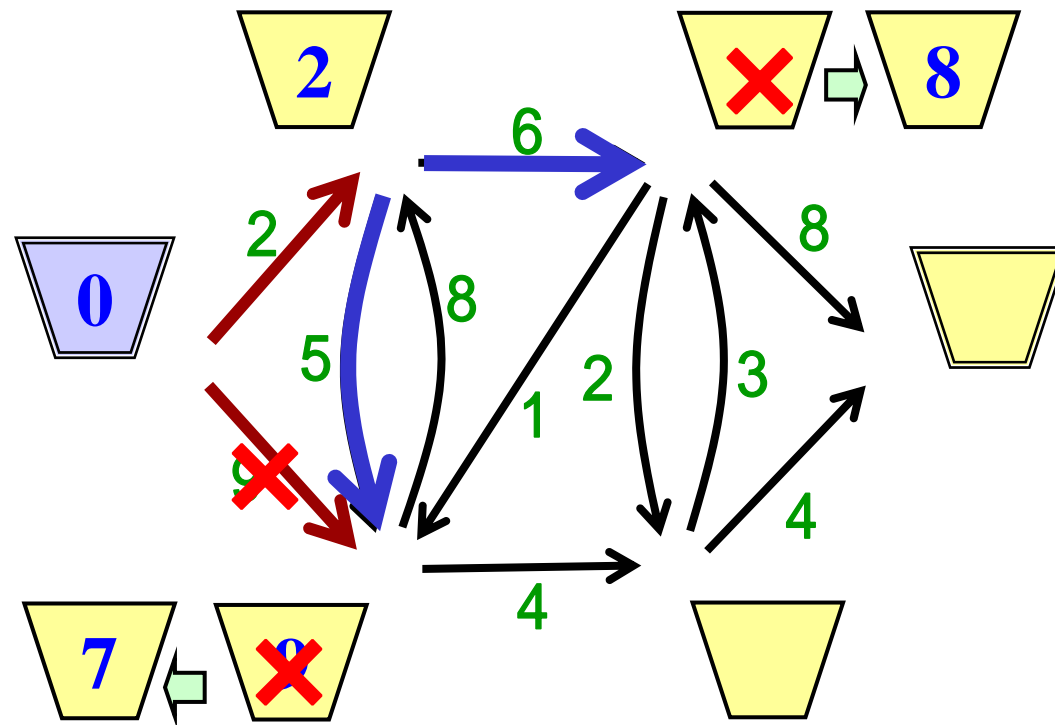


例題3(続) 性質を満たすポテンシャルの見つけ方(2)

ポテンシャル最小未確定点の選択

ポテンシャル更新

点を確定

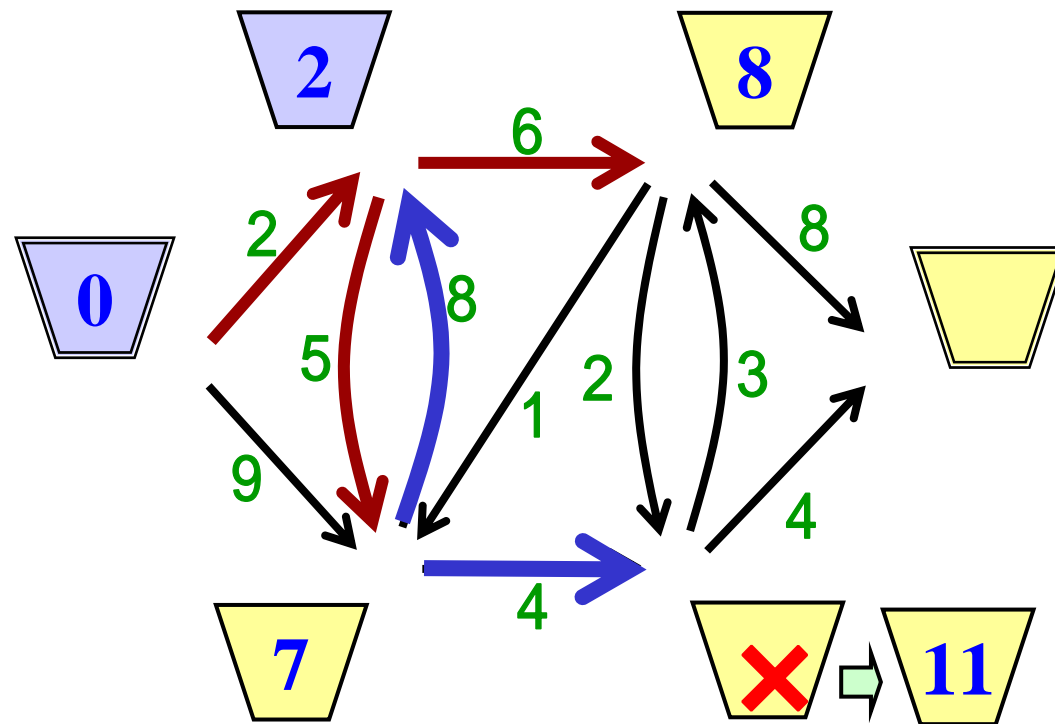


例題3(続) 性質を満たすポテンシャルの見つけ方(3)

ポテンシャル最小未確定点の選択

ポテンシャル更新

点を確定

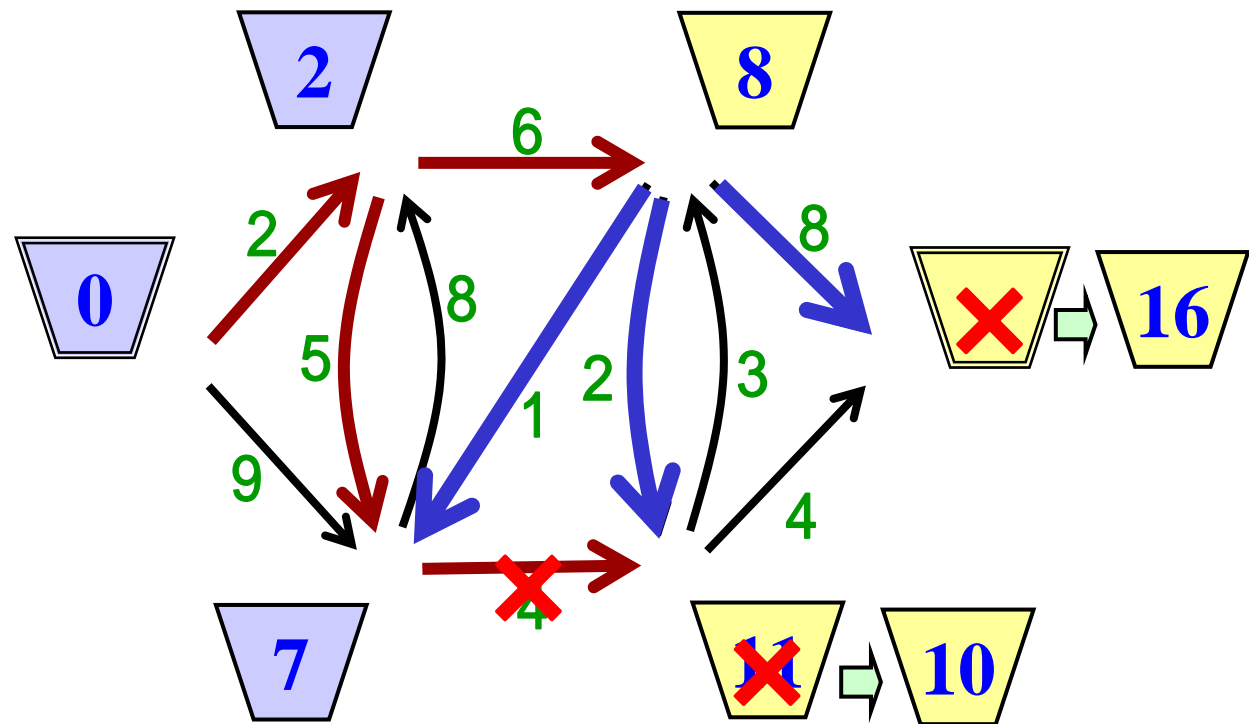


例題3(続) 性質を満たすポテンシャルの見つけ方(4)

ポテンシャル最小未確定点の選択

ポテンシャル更新

点を確定

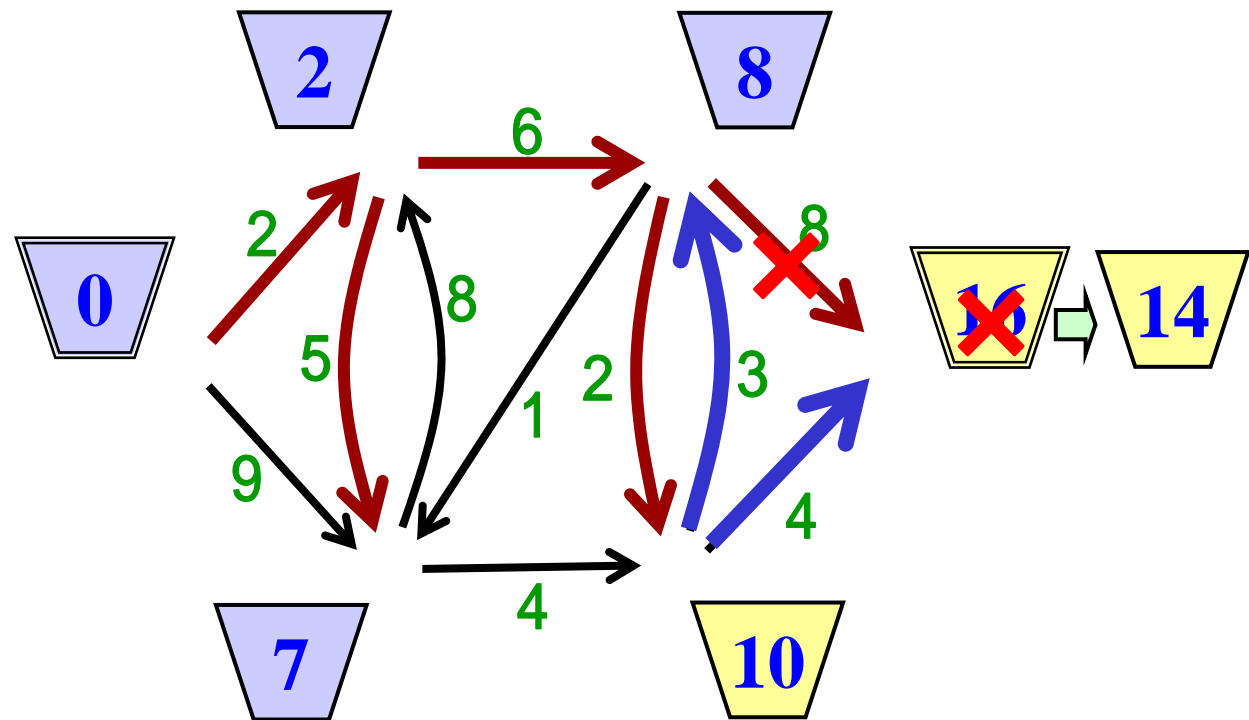


例題3(続) 性質を満たすポテンシャルの見つけ方(5)

ポテンシャル最小未確定点の選択

ポテンシャル更新

点を確定



例題3(続) 性質を満たすポテンシャルの見つけ方(6)

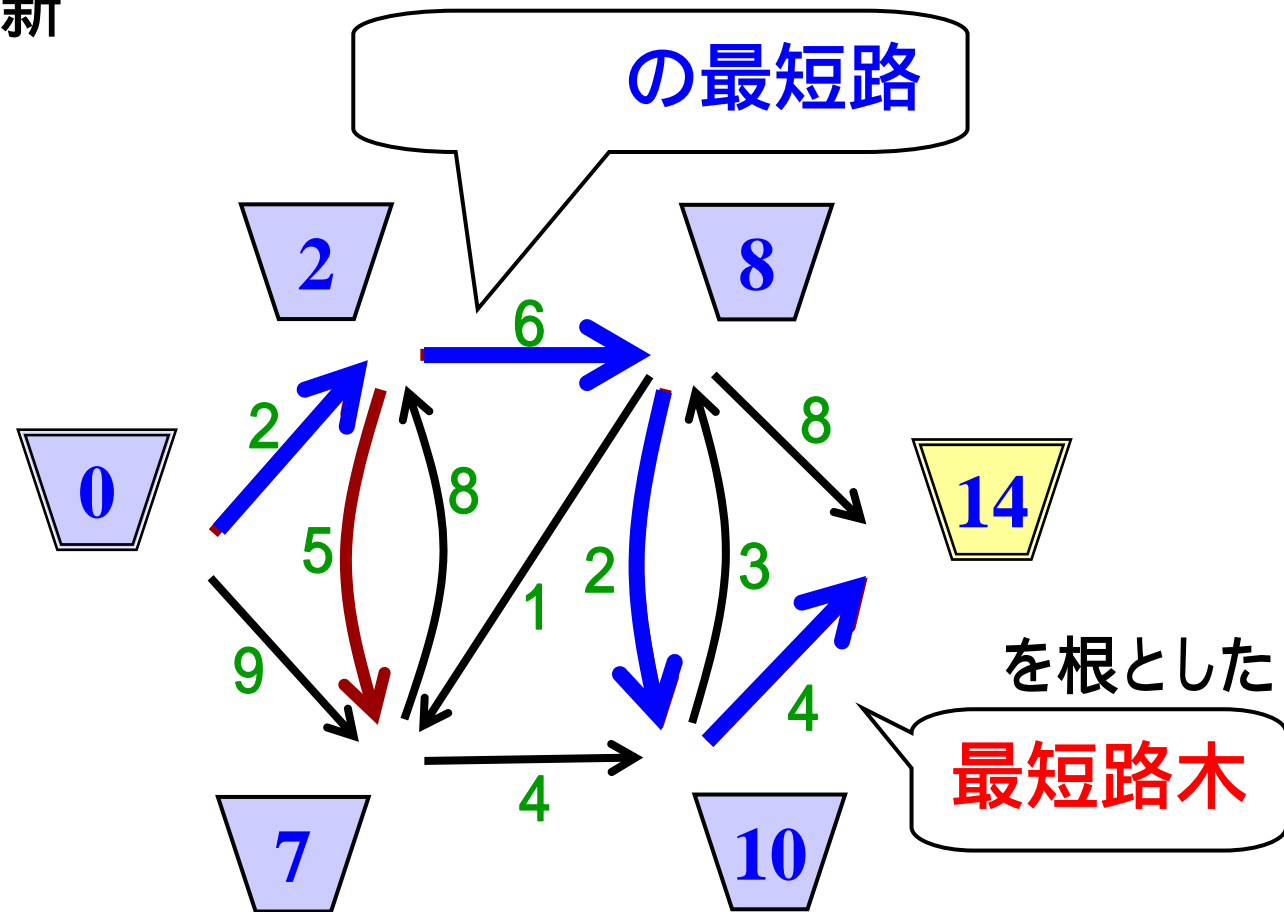
ポテンシャル最小未確定点の選択

ポテンシャル更新

点を確定



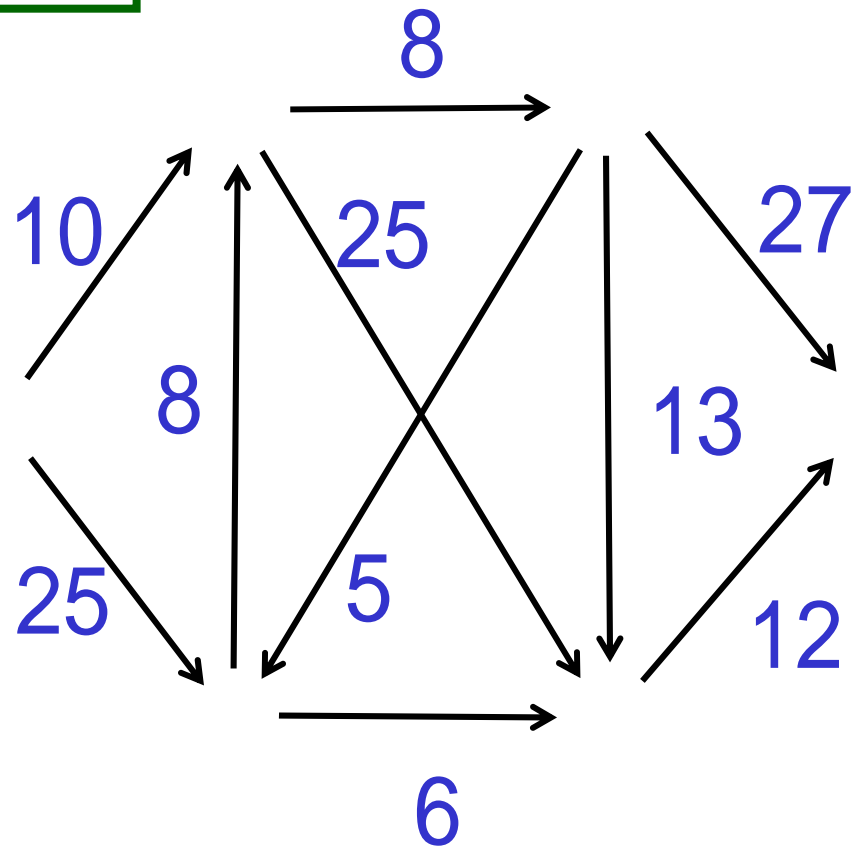
全点が確定し終了



最適なポテンシャルが見つかった ⇒ 最短路も見つかった

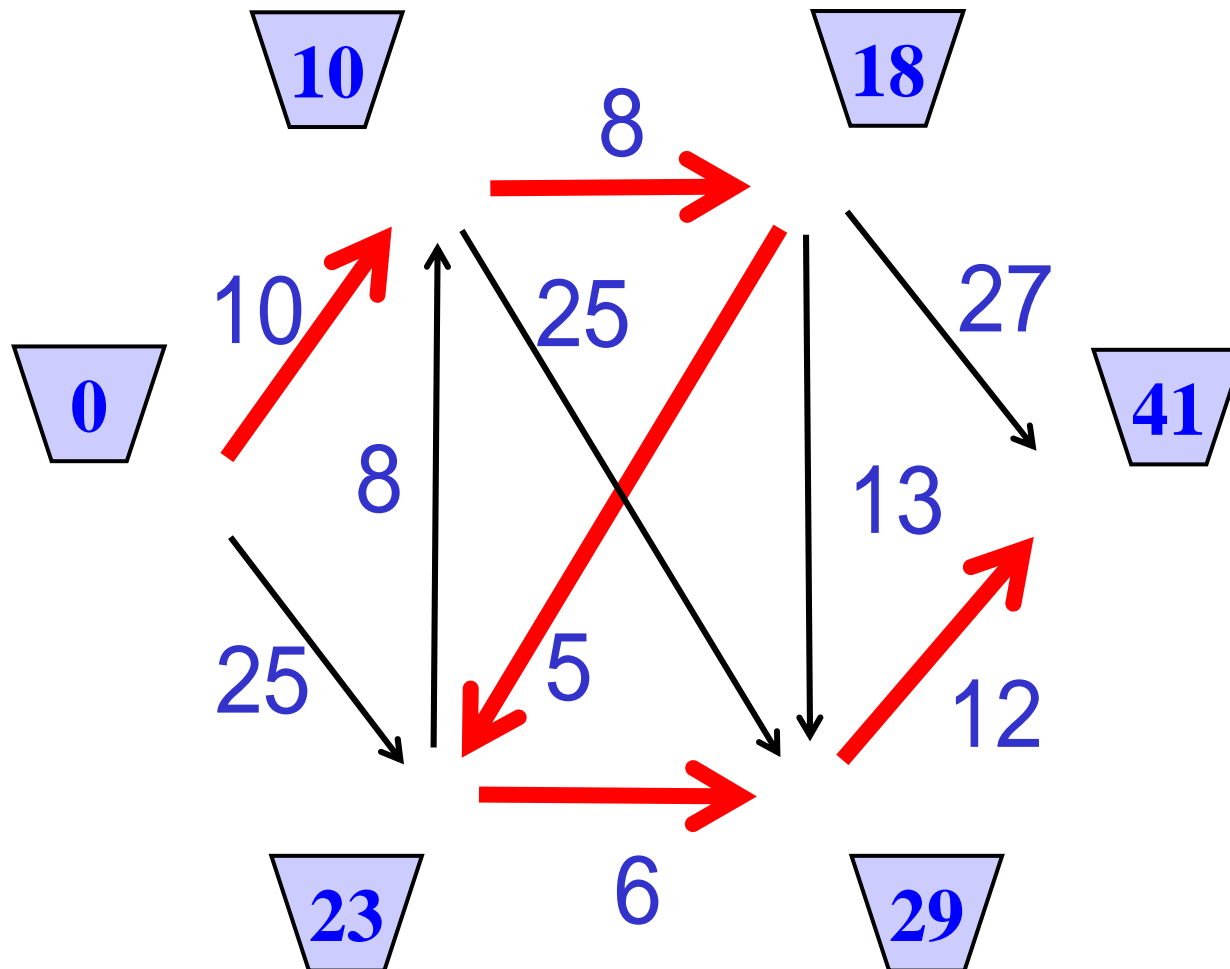
練習2 ダイクストラ法

の最短路は?



練習2 解答例

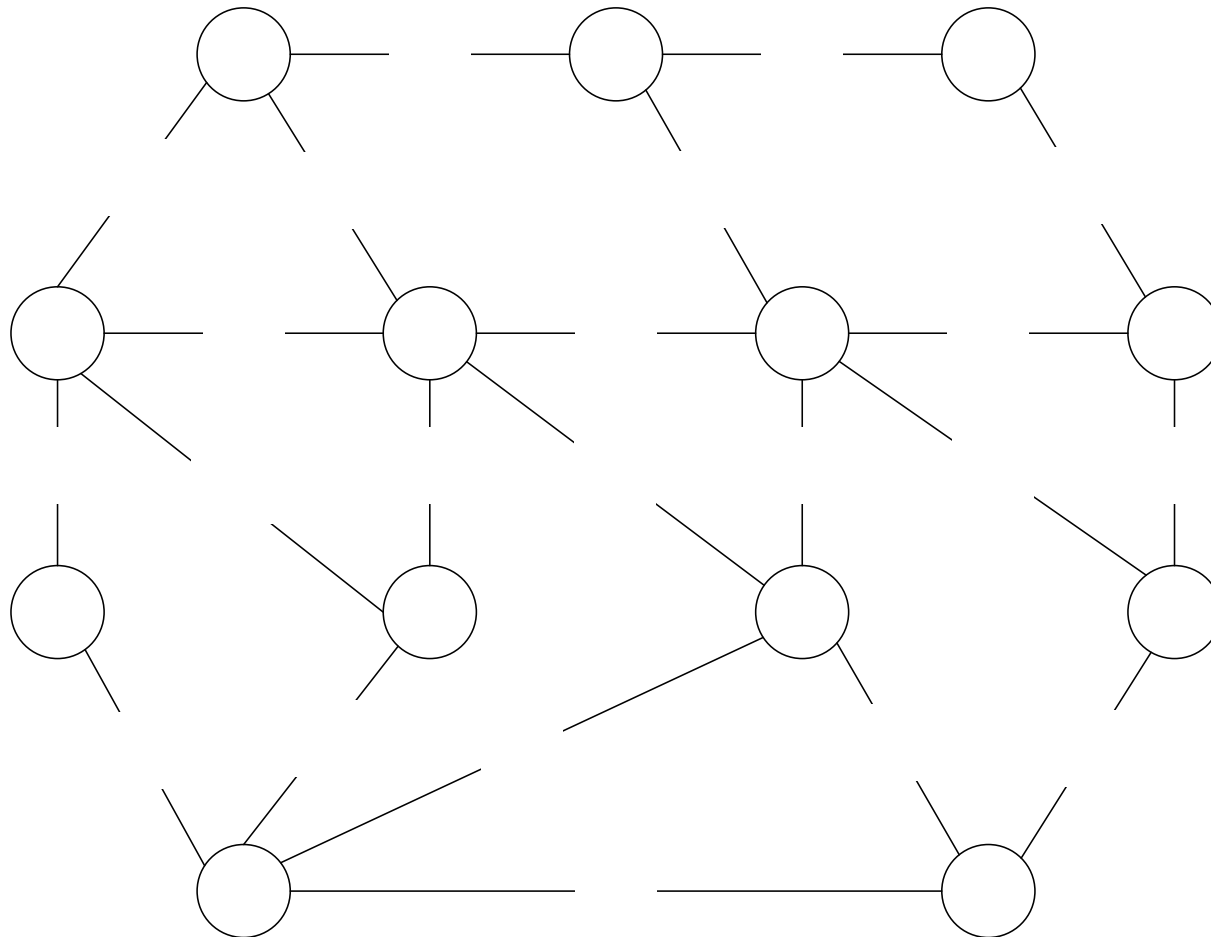
を根とした最短路木



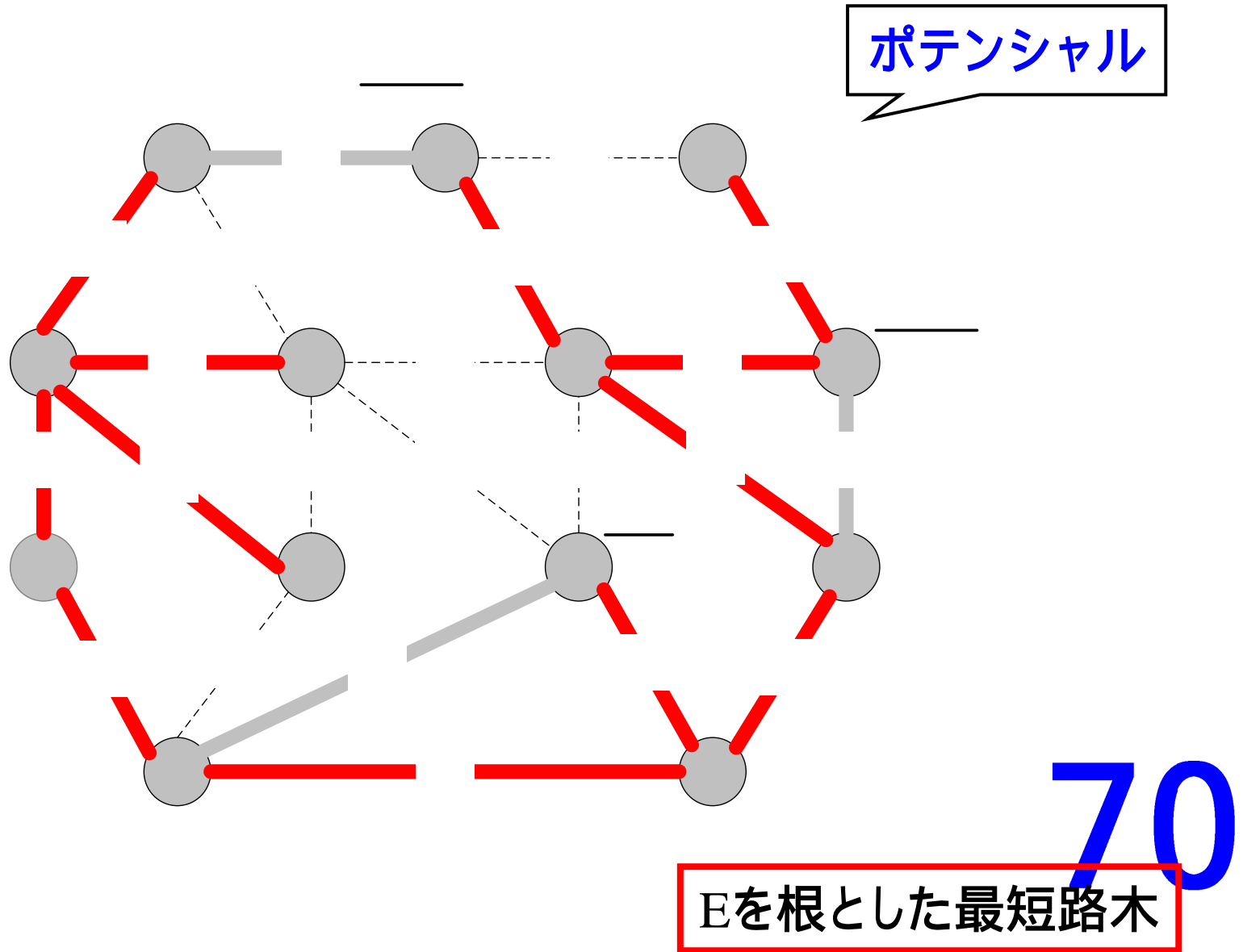
練習3 無向グラフの最短路

- Eを根とした最短路木は?
- E Hの最短路は?

両方向の枝があると考える



練習3 解答例



ダイクストラ法の高速実現法

ポテンシャル最小の点を高速に発見

- 未確定点を配列でなくリスト構造で保持
(走査する点数を減らす)
- 未確定点をポテンシャルの値順に整列
整列アルゴリズムの知識が必要

フィボナッチ
ヒープ

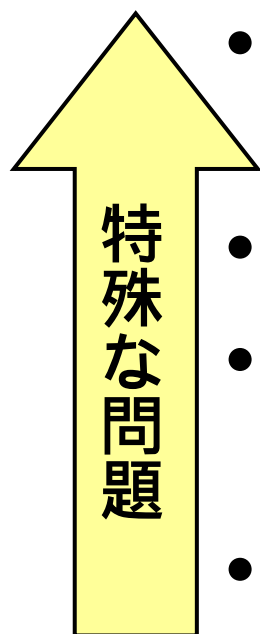
効率的実装

$O(m+n\log n)$

基本的なアルゴリズム+
データ構造の知識は
不可欠



まとめ：最短路問題



- 1始点-1終点間

専用の高速解法があるかどうかは未解決

利用

- 1始点-全点間

- 全点-1終点間

中心的なタイプ
主な解法：
ダイクストラ法

枝の数値が非負の時のみ
利用可能

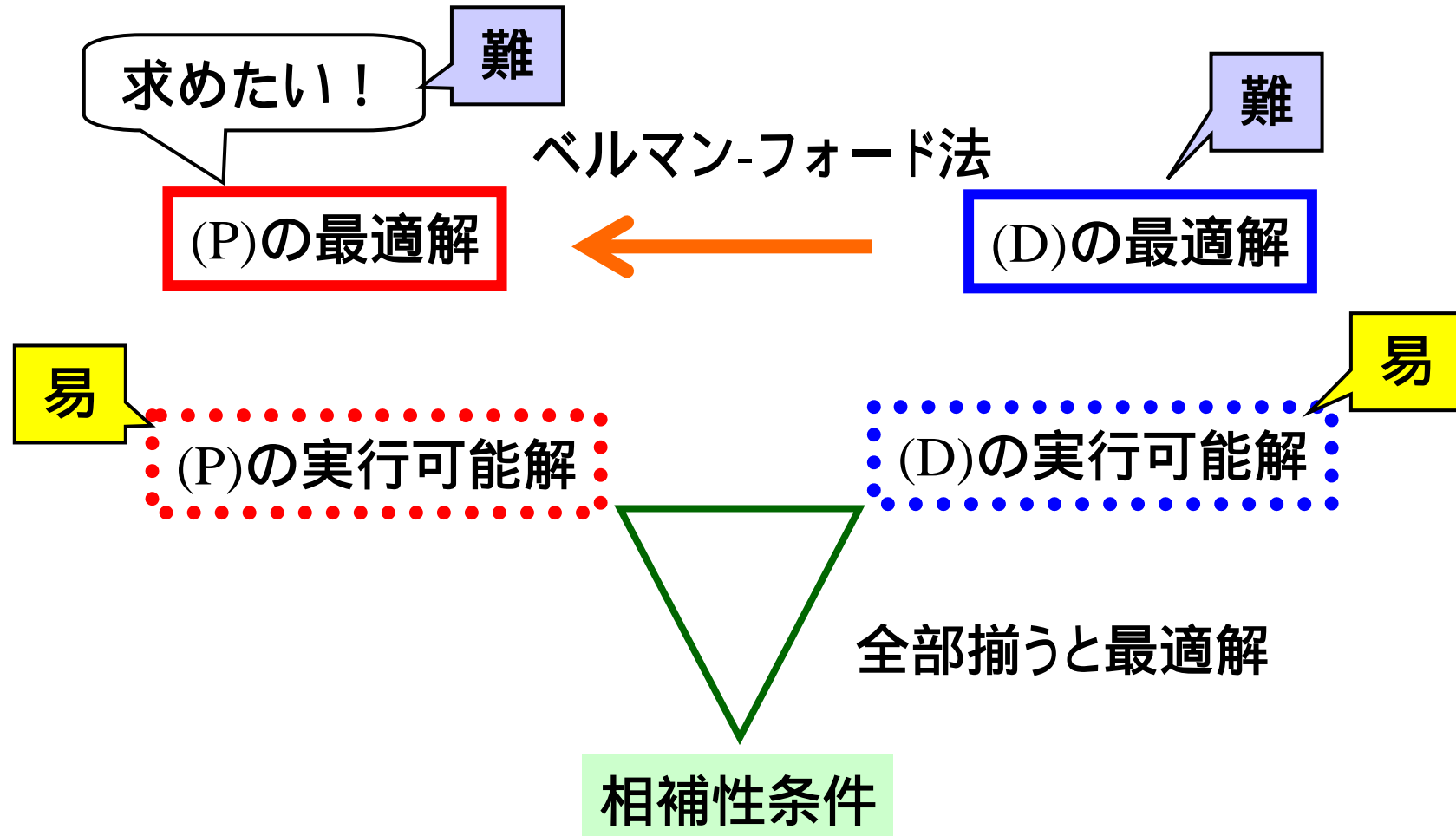
- 全点間

影響

Floyd-Warshall法
Johnsonの繰り返し法

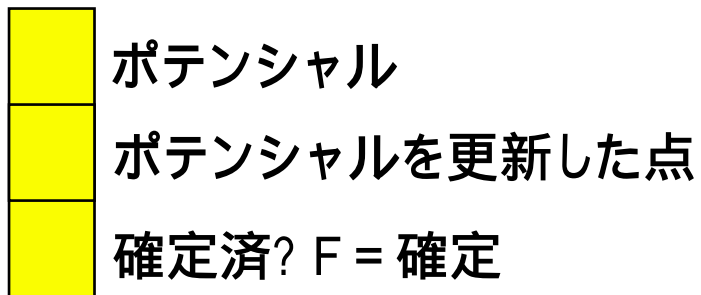
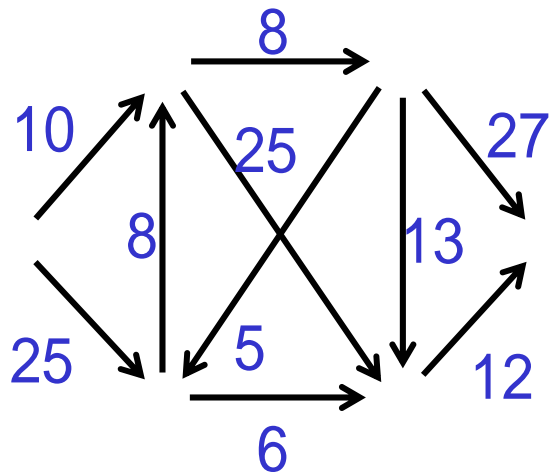


まとめ：問題を解く戦略を練る

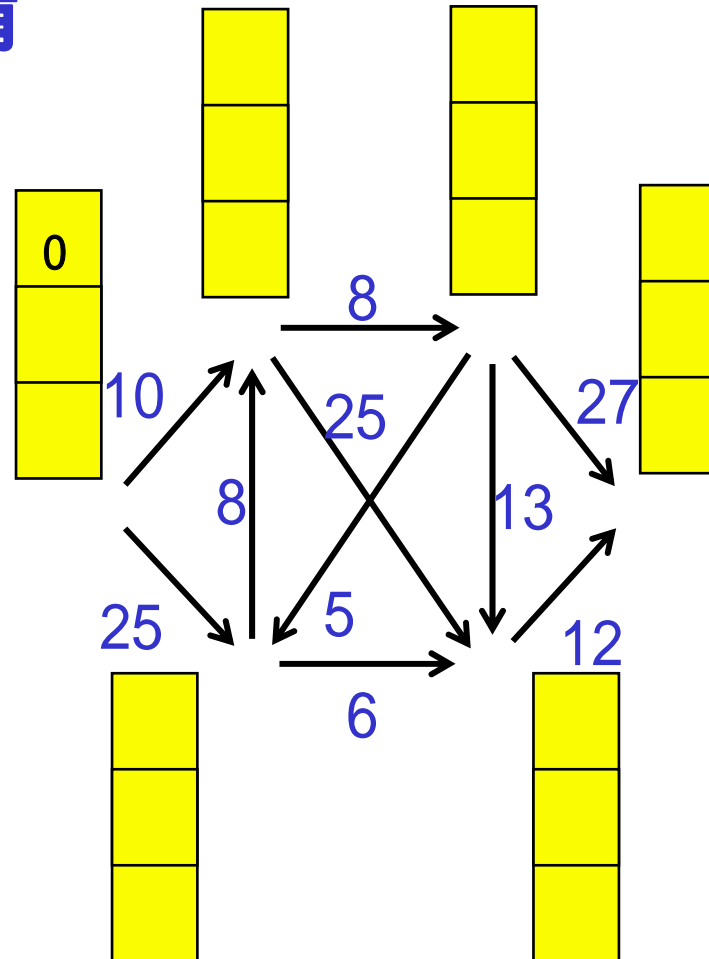


練習2 解答例詳細

の最短路は?

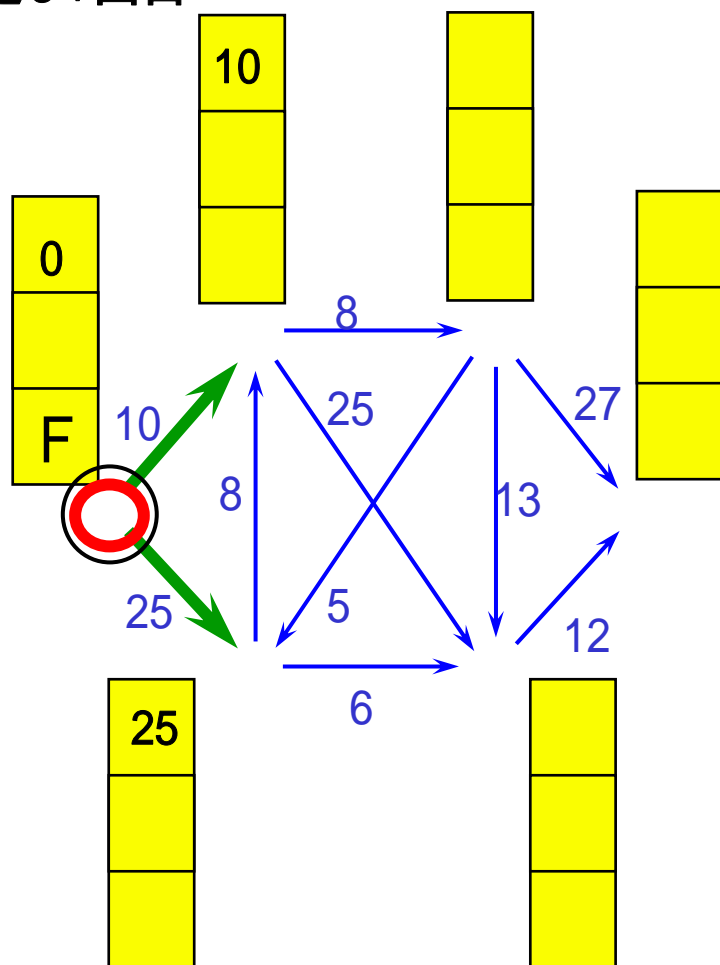


準備

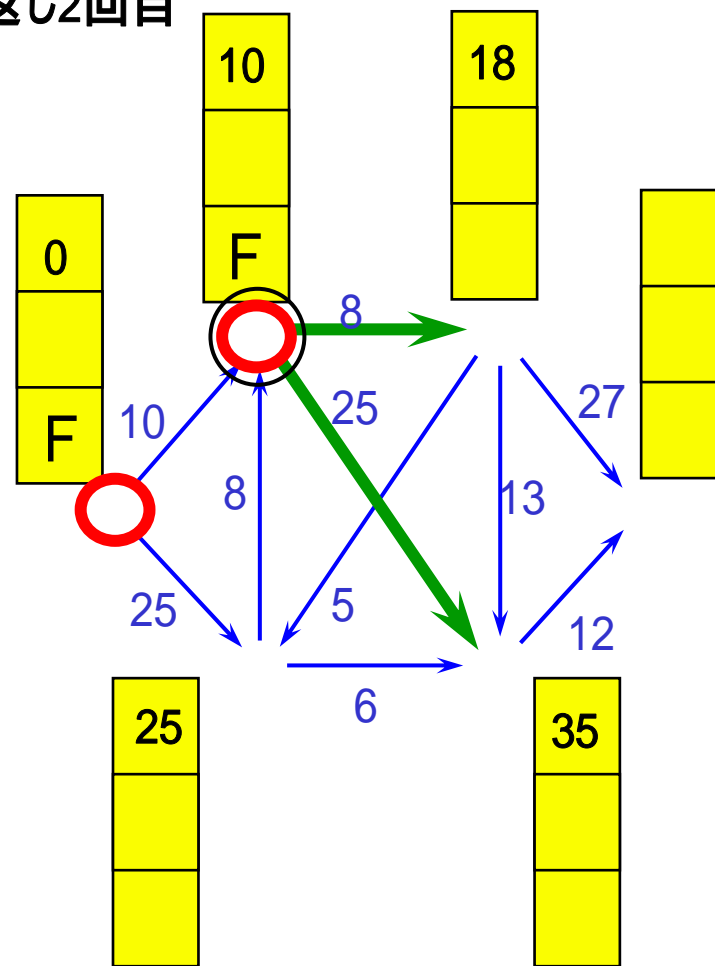


練習2 ポテンシャルの更新

繰り返し1回目

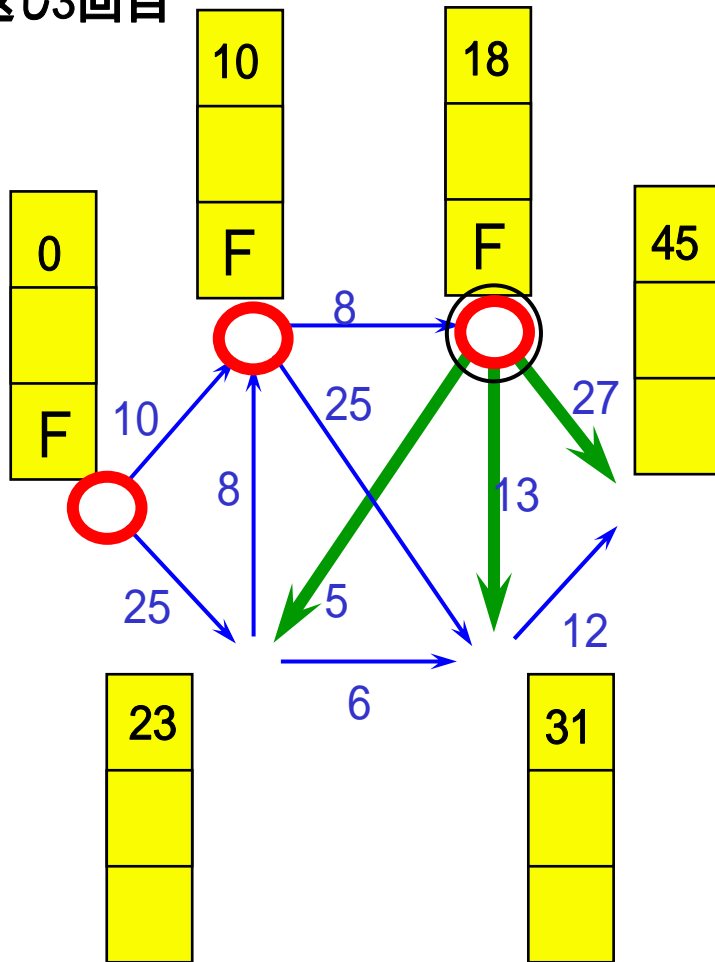


繰り返し2回目

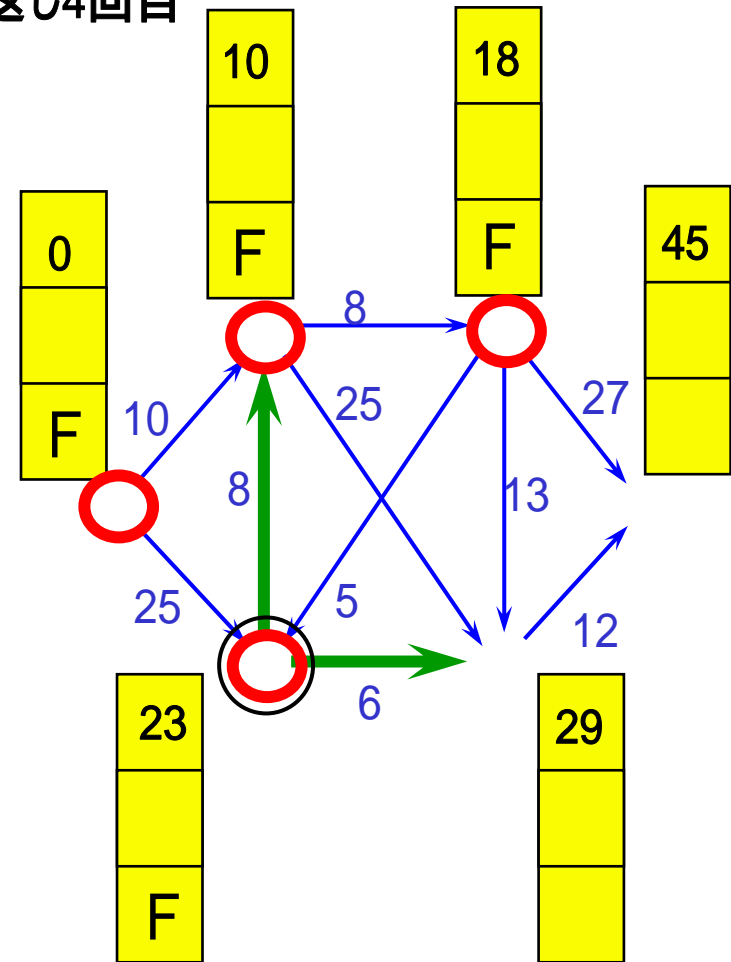


練習2 ポテンシャルの更新(2)

繰り返し3回目

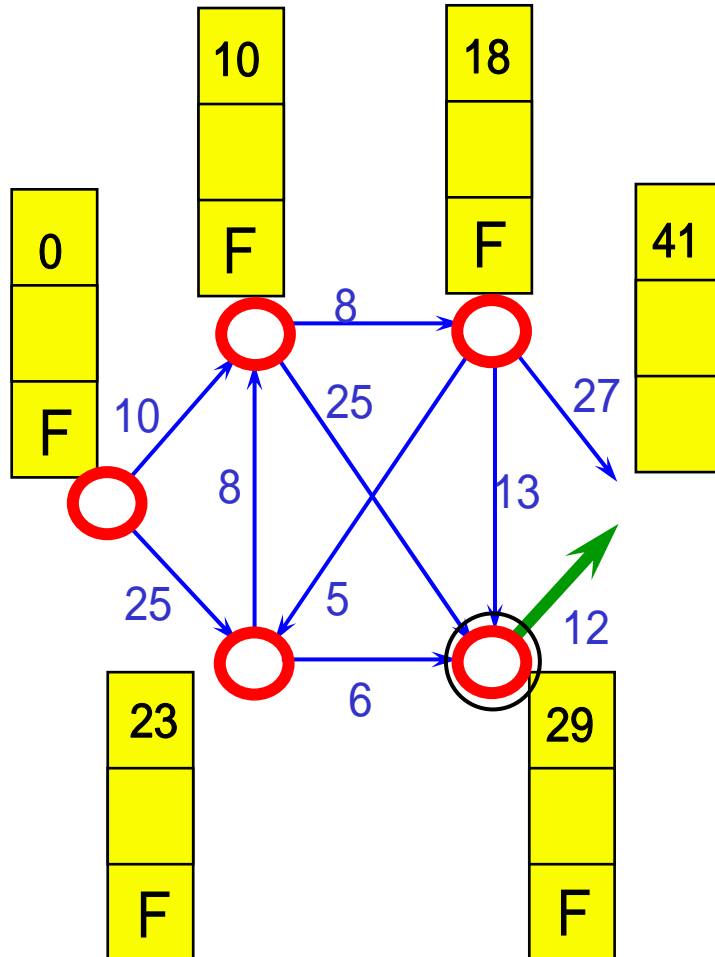


繰り返し4回目

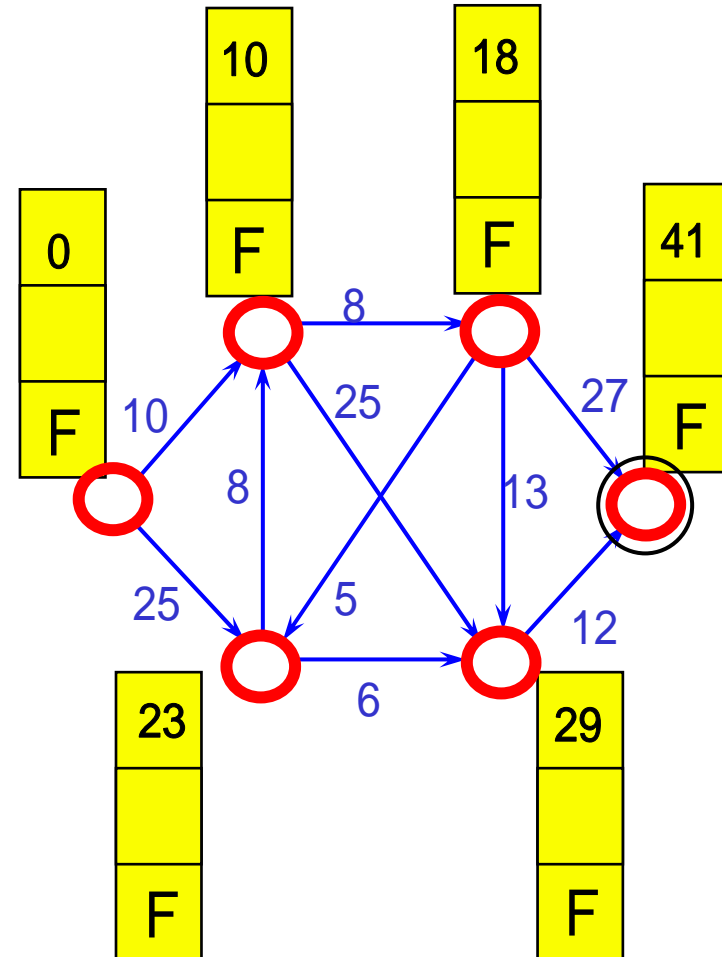


練習2 ポテンシャルの更新(3)

繰り返し5回目

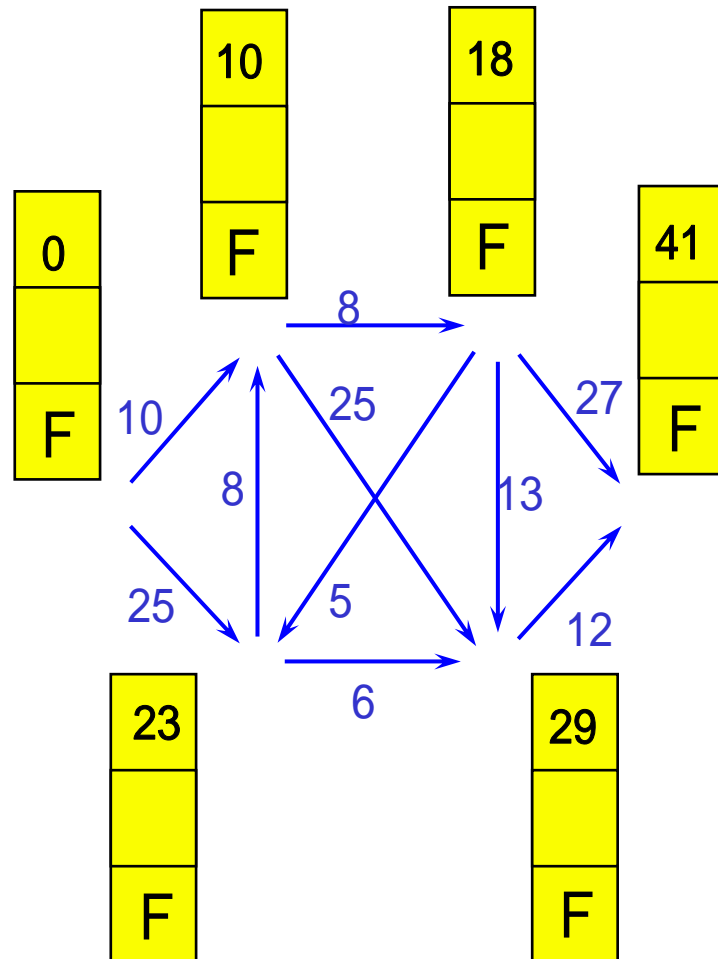


繰り返し6回目



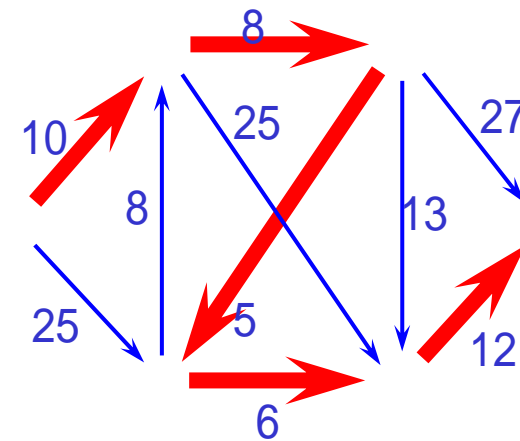
練習2 解答例 まとめ

繰り返し6回目



終了

を根とした最短路木



最短路の長さは41