

整数計画の定式化

整数変数を活用した定式化



整数計画の特徴的な定式化



分類後の主な問題名

変数型	目的関数	条件式	問題名	+Programming	略称
連続型	線形	線形	線形計画	Linear	LP
	2次関数	線形	2次計画	Quadratic	QP
	凸関数	凸関数	凸計画	Convex	CP
	非線形	非線形	非線形計画	Nonlinear	NLP
離散型	—	—	整数計画	Integer	IP
	凸	凸	離散凸計画	Discrete Convex	
2値型	—	—	0-1整数計画	Binary Integer	BIP
混合	—	—	混合整数計画	Mixed Integer	MIP

定式化

学習済

整数変数の追加で
表現力が(すごく)増す!

→ 例で紹介

※ 凸計画の等式制約は線形

属する

整数

独語 **Z**ahlen(=数)より

- 変数 x は整数 $\Leftrightarrow x \in \mathbb{Z}$ を表す記号
- 変数 x は2値 $\Leftrightarrow x \in \{0, 1\}$

(参考) 非負整数: \mathbb{Z}_+
 正の整数: \mathbb{Z}_{++}
 実数: \mathbb{R}

{ }内の要素をとる

例題3 ナップザック問題



自由にお持ち
帰りください

16万円



19万円



23万円



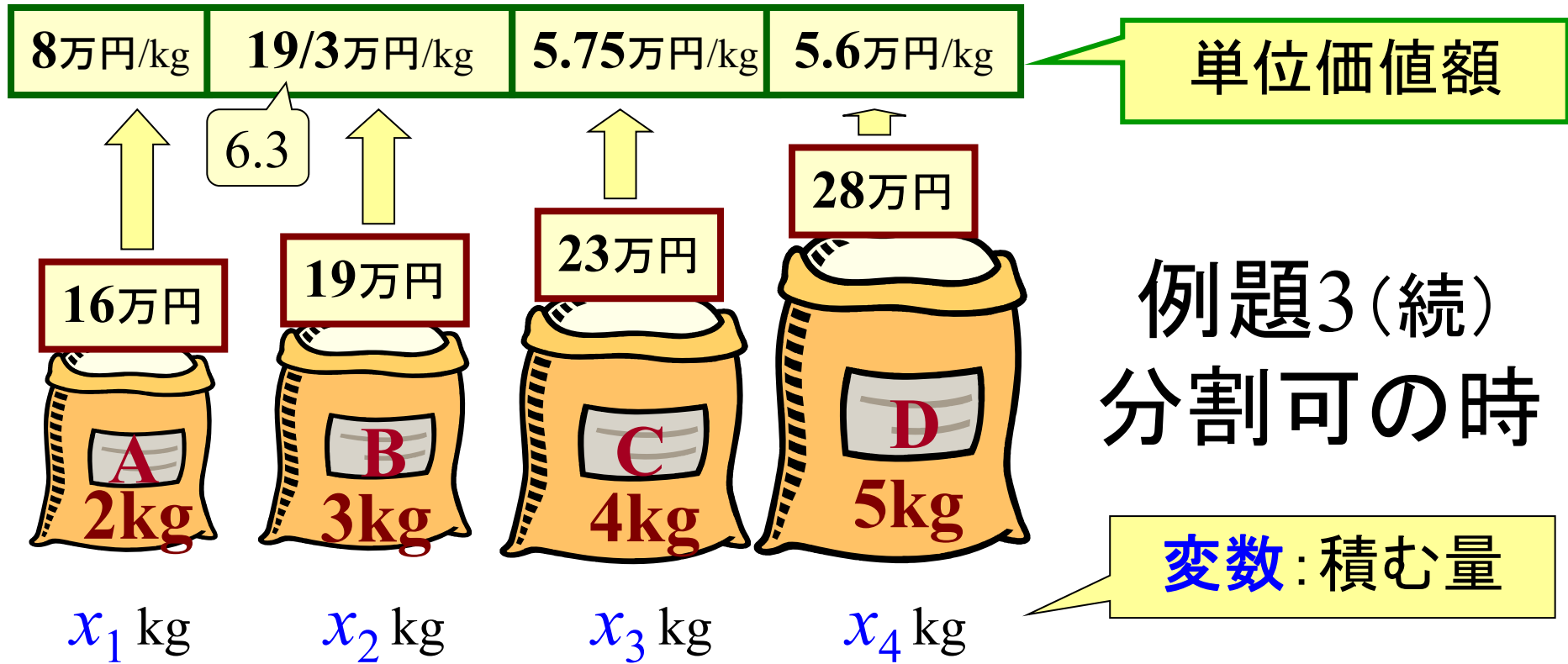
28万円



なるべく総価値を高く持って帰りたい。
どれを何Kg持って帰る？

⇒定式化してみよう

重量制限: 7kg




例題3(続) 分割可の時

線形計画

$$\begin{aligned} \max. \quad & z = 8x_1 + 19/3x_2 + 5.75x_3 + 5.6x_4 \\ \text{s.t.} \quad & x_1 + x_2 + x_3 + x_4 \leq 7 \\ & x_1 \leq 2, x_2 \leq 3, x_3 \leq 4, x_4 \leq 5, \\ & x_1, x_2, x_3, x_4 \geq 0 \end{aligned}$$

8万円/kg	6.3万円/kg	5.7万円/kg	5.6万円/kg
-------------------	---------------------	---------------------	---------------------

~~単位価値額~~



例題3(続) 分割不可の時

x_1 x_2 x_3 x_4

2値(0-1)変数

0-1整数計画

積む時: $x=1$
積まない時: $x=0$

$$\begin{aligned} \max. \quad & z = 16x_1 + 19x_2 + 23x_3 + 28x_4 \\ \text{s.t.} \quad & 2x_1 + 3x_2 + 4x_3 + 5x_4 \leq 7 \\ & x_1, x_2, x_3, x_4 \in \{0, 1\} \end{aligned}$$

記号 \in
元として含まれる

16万円/袋

19万円/袋

23万円/袋

28万円/袋



x_1 袋

x_2 袋

x_3 袋

x_4 袋

例題3(続)
分割不可
複数可の時

整数計画

変数: いくつ積む?

$$\max. z = 16x_1 + 19x_2 + 23x_3 + 28x_4$$

$$\text{s.t.} \quad 2x_1 + 3x_2 + 4x_3 + 5x_4 \leq 7$$

$$x_1, x_2, x_3, x_4 \in \mathbb{Z}_+$$

記号 \mathbb{Z}_+
非負整数の集合

16万円/袋

19万円/袋

23万円/袋

28万円/袋

Dのみ分割可



例題3(続)
分割一部可
複数可の時

x_1 袋

x_2 袋

x_3 袋

x_4 袋

変数: 何袋分積む?

混合整数計画

変数: 何袋積む?

$$\max. z = 16x_1 + 19x_2 + 23x_3 + 28x_4$$

$$\text{s.t.} \quad 2x_1 + 3x_2 + 4x_3 + 5x_4 \leq 7$$






$$x_1, x_2, x_3 \in \mathbb{Z}_+, \quad x_4 \geq 0$$

整数変数の利用
様々な状況表現



例題3 (続) 分割不可の時 (別表現)

2kg, 3kg, 4kg, 5kg カートの重量制限 (kg)

	0	1	2	3	4	5	6	7
なし	0	0	0	0	0	0	0	0
	0	0	16	16	16	16	16	16
	0	0	16	19	19	35	35	35
	0	0	16	19	23	35	39	42
	0	0	16	19	23	35	39	44


積む 積まない

対象の粉を順に増やす

16万, 19万, 23万, 28万

例題3 (続) 動的計画法

カートの重量制限



	0	1	2	3	4	5	6	7
0	0	0	16	19	19	35	35	35
+23	↓	↓	↓	↓	↓	↓	↓	↓
0	0	0	16	19	23	35	39	42

粉がk種類, カートの制限重量が α kgの時の最適値

制限重量 α が粉kの重み以下のとき

$$f(k, \alpha) = \begin{cases} f(k-1, \alpha) & \text{粉kを積まない} \\ \max \{ f(k-1, \alpha), (k\text{の価値}) + f(k-1, \alpha - (k\text{の重み})) \} & \text{粉kを積む} \end{cases}$$

比較して, 価値の高い方を採用

再帰方程式

→ 動的計画法 Dynamic Programming (DP)

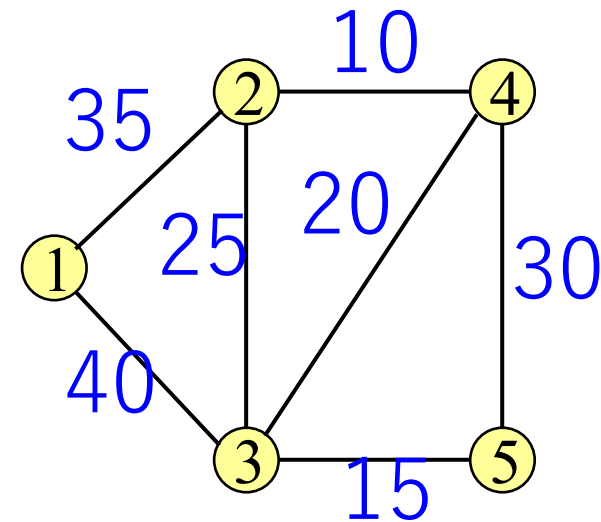
例題4 ガス管配置

5軒の家にガスを供給したい
設置費用が最小になるガス
管の設置方法は?

定式化してみよう

目的 設置費用合計→最小
制約 5軒にガスを供給

ガス管が繋がっている+5軒を張っている

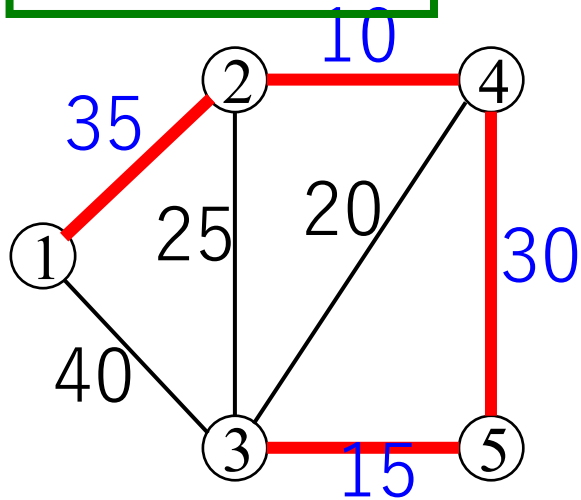


枝: 設置可能路線
数字: 設置費用

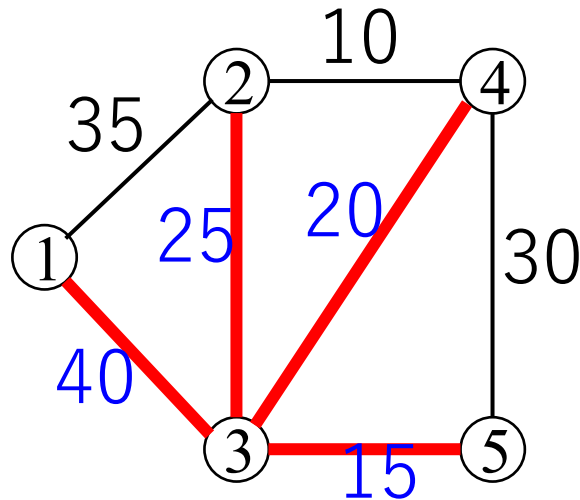
例題4(続) 実行可能解が持つ性質

閉路は無駄 \Rightarrow 閉路の無いグラフ = 木
全点を結ぶ \Rightarrow 全張 (spanning; スパンする) } 全張木
spanning tree

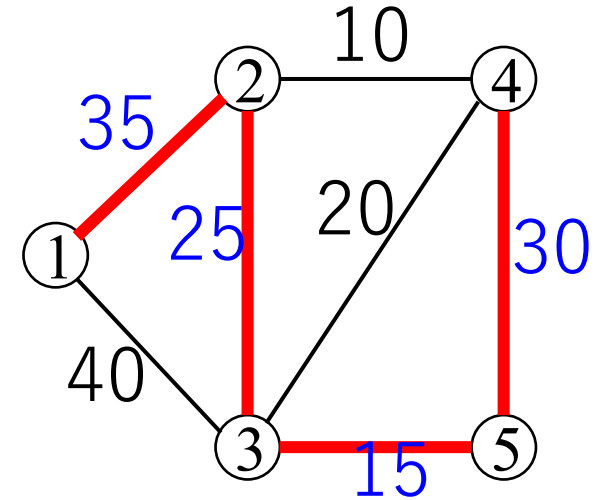
様々な全張木



$$35+10+30+15=90$$



$$40+25+20+15=100$$



$$35+25+30+15=105$$

問題の本質 重み和最小の全張木 (最小木) を見つけよ

\Leftrightarrow 最小木問題

Minimum spanning tree problem

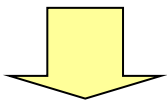
例題4(続) 最小木問題の定式化

解きたい問題

目的 利用枝の重みの和→最小
制約 利用枝は全点を結ぶ
利用枝に閉路がない

使用変数

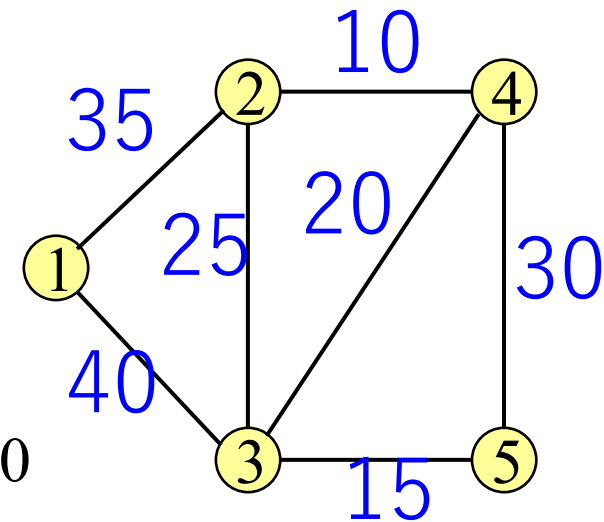
x_{ij} : 枝 (i,j) を利用する時1, 利用しない時0



目的関数

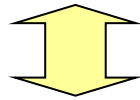
$$\min. z = 35x_{12} + 40x_{13} + 25x_{23} + 10x_{24} + 20x_{34} + 15x_{35} + 30x_{45}$$

⇒ 制約条件式は?

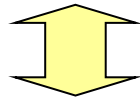


例題4(続)「閉路がない」の表現

閉路がない



(部分点集合内での使用枝数)
 $<$ (部分点集合の大きさ)

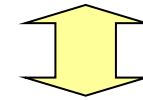


(部分点集合内での使用枝数)
 \leq (部分点集合の大きさ) $- 1$

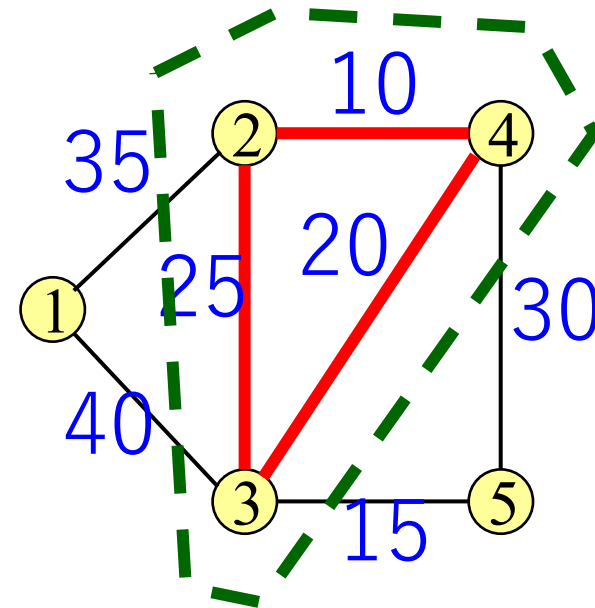
例 点部分集合 {②,③,④} に対して

$$x_{23} + x_{24} + x_{34} \leq 2$$

閉路がある



(部分点集合内での使用枝数)
 $=$ (部分点集合の大きさ)



例題4(続) 定式化



$$\min. z=35x_{12}+40x_{13}+25x_{23}+10x_{24}+20x_{34}+15x_{35}+30x_{45}$$

$$\text{s.t. } x_{12}+x_{13}+x_{23}+x_{24}+x_{34}+x_{35}+x_{45}=4$$

全部分集合に対して

$$(\text{使用枝本数}) \leq (\text{部分集合の大きさ}) - 1$$

$$x_{12}, x_{13}, x_{23}, x_{24}, x_{34}, x_{35}, x_{45} \in \{0, 1\}$$

定式化は可能だが
サイズ大で実際には扱えない

部分集合は $2^{(\text{点数})}$ 個存在

⇒ 使用枝の組合せを決める問題

⇒ **組合せ最適化問題** combinatorial optimization problem

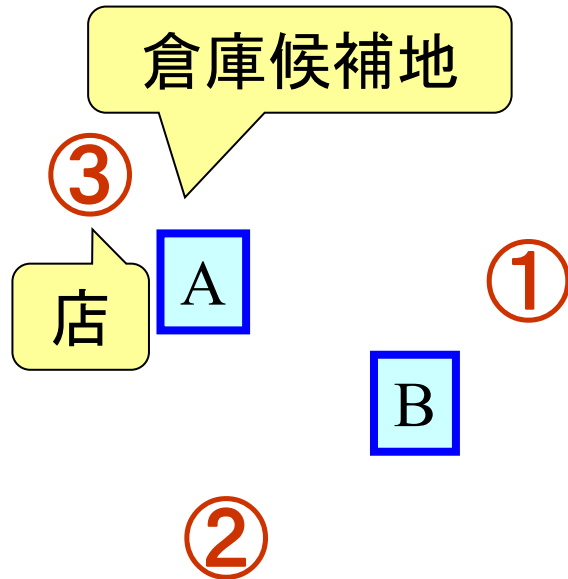
離散最適化問題 discrete optimization problem

演習3 施設配置問題



施設配置問題

(建設費) + (10年分配送費)を最小にしたい。
どこに倉庫を建設し、どう配送すればよいか。



- 建設費用 倉庫A 10億円, 倉庫B 12億円
- 倉庫→店の配送費用

	店1	店2	店3
倉庫A	6万円/t	8万円/t	5万円/t
倉庫B	4万円/t	7万円/t	9万円/t

- 各店の需要(10年分) ※分割配送可

店1	店2	店3
12000t	18000t	15000t

[ヒント] コントロールできるもの

倉庫→店への配送量⇒実数値

$$x_{ij} \geq 0$$

倉庫を建設する・しない⇒2値

$$y_i \in \{0,1\}$$

※建設した倉庫からしか
配送はできない

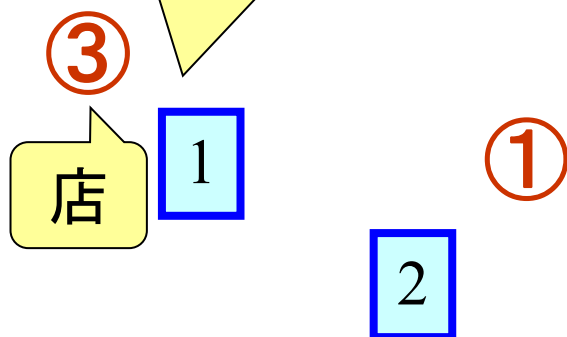


演習3の一般化

施設配置問題

(建設費) + (配送費)を最小にしたい。
どこに倉庫を建設し、
どのように配送すればよいか。
この問題を定式化せよ。

倉庫候補地



ヒント ↓

コントロールできるもの

$$0 \leq x_{ij} \leq 1$$

倉庫iから店jへの配送量 \Rightarrow 0~1の値

倉庫iを建設する・しない \Rightarrow 2値

$$y_i \in \{0, 1\}$$

②

- 倉庫iの建設費用 f_i ($i=1,2$)
- 倉庫iと店j間の配送費用 c_{ij} ($i=1,2; j=1,2,3$)
- 各店の需要は1. 分割配送可能.

今後の展開



最もシンプルな数理計画問題

線形計画問題の解き方から最適化の基礎を学ぶ

寄り道

正しい「組合せ最適化」の書き方

◎組み合わせる(動詞)



意味が違う

- × 組み合わせ最適化
- × 組合わせ最適化
- × 組合最適化