

令和7年度入学試験問題

指示行動1①


指示された通りに行動できるかをみる問題が2問出ます。うち1問を公開します。

行動1

いろいろな形を枠の中に同じように並べてもらいます。

並び方を言います。

上の真ん中に丸、左下に星、右上に四角、左上に三角を並べてください。



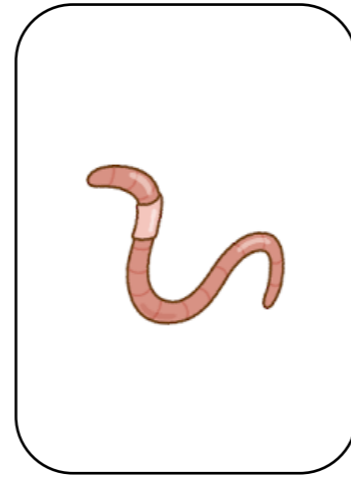





②

絵の中からしてはいけないことをしている人物を見つけて ○ をつけていく問題です。







① れんしゅうA




4つの絵から
1つを選ぶ



4つの絵から
1つを選ぶ




4つの絵から
1つを選ぶ




4つの絵から
1つを選ぶ

4つの絵から
1つを選ぶ




4つの絵から
1つを選ぶ




②れんしゅう HP



※ ○個と数えるものを選ぶ問題です。



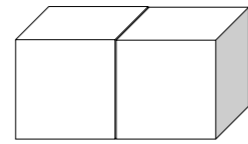
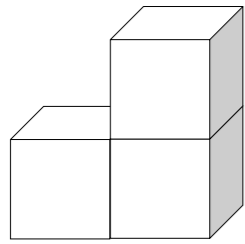
③れんしゅう HP



※ 海の中にいるものを選ぶ問題です。



④ れんしゅう HP



.

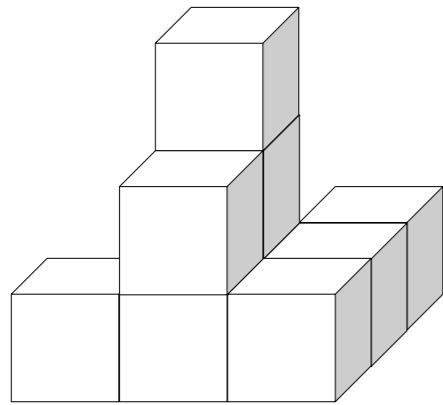
.

.

.



5つの問題を線で結びます。



.

.

.

.

.


.

.

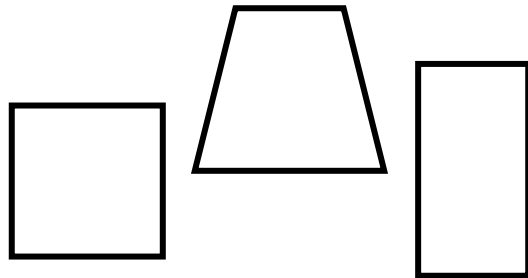
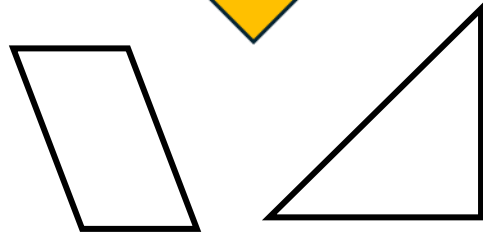
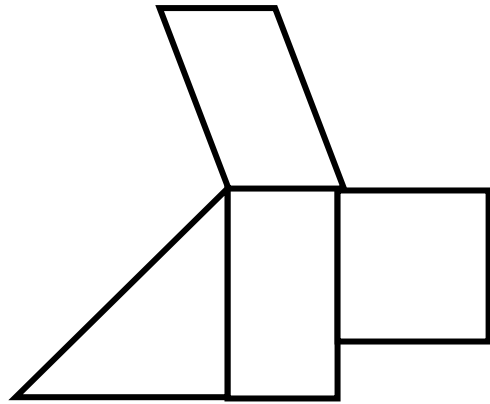
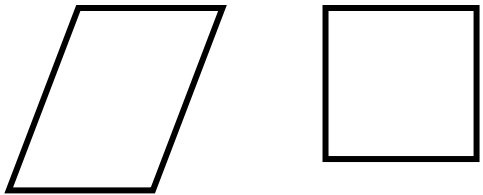
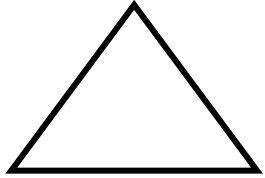
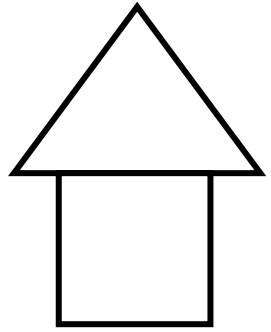
.

.

.



⑤ れんしゅう HP



※ 使わない図形を選ぶ問題です。

⑥ れんしゅう HP

お手本のとおりになんと点を線で結ぶ問題です。

