

## 令和7年度入学試験問題 指示行動Ⅰ①


指示された通りに行動できるかをみる問題が2問出ます。うち1問を公開します。

### 行動Ⅰ

いろいろな形を枠の中に同じように並べてもらいます。

並び方を言います。

上の真ん中に丸、左下に星、右上に四角、左上に三角を並べてください。



## 指示行動2

①

お話を聞いて、質問に答える問題です。

選択肢の中から、あてはまるものに ○ をつけていきます。

















### ・問題文(例)

明日、五郎さんの学校では、運動会があります。

今日までずっと雨だったので、明日は晴れるようにてるてるぼうずを作ってから寝ました。

朝になって外を見ると……(略)

### ・解答用紙(例)








			
			
 	 	 	 

②


絵の中からしてはいけないことをしている人物を見つけて ○ をつけていく問題です。




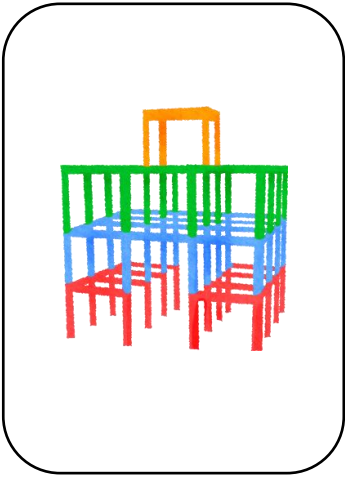


① れんしゅうA




4つの絵から  
1つを選ぶ



4つの絵から  
1つを選ぶ




4つの絵から  
1つを選ぶ





4つの絵から  
1つを選ぶ

4つの絵から  
1つを選ぶ



4つの絵から  
1つを選ぶ




②れんしゅう HP




---

※ ○個と数えるものを選ぶ問題です。



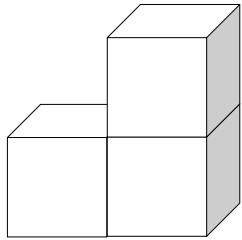
③れんしゅう HP



---

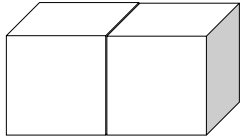
※ 海の中にいるものを選ぶ問題です。





.

.

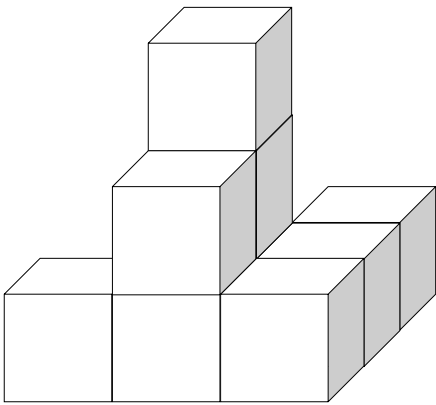


.

.



5つの問題を線で結びます。



.

.

.

.

.


.

.


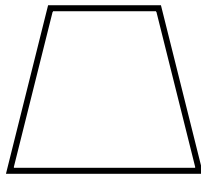



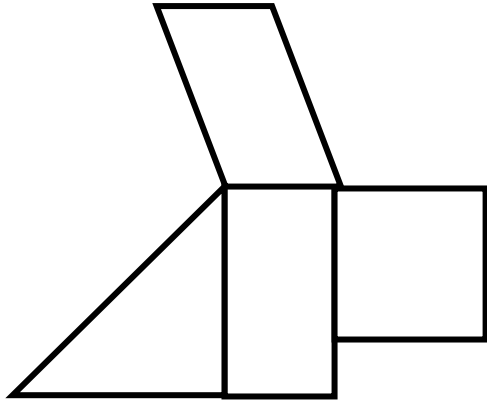


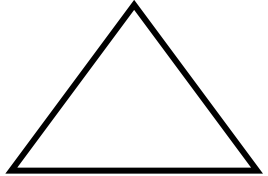
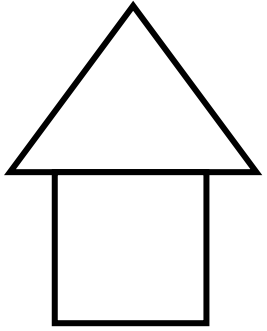
.

.

.



⑤ れんしゅう HP



※ 使わない図形を選ぶ問題です。



⑥ れんしゅう HP

お手本のとおりに点と点を線で結ぶ問題です。

